



مشخصات امتحان

زمان امتحان

مشخصات دانش آموز

درس: ریاضی

ساعت:

نام:

رشته:

تاریخ: ۹۷/۱۰/۲۲

نام خانوادگی:

پایه: سوم

مدت: دقیقه

شماره:

نمره

## سؤالات

ردیف

۳۸۰۲

۱ باتوجه به عدد روبه رو به سوالات پاسخ دهید :

الف ) عدد را به حروف بنویسید و جدول ارزش مکانی مربوط به آن را رسم کنید :

ب ) کدام رقم در کمترین ارزش مکانی قرار دارد ؟

ج ) کمترین رقم در کدام مرتبه قرار دارد ؟

د ) گسترده ی عدد را بنویسید :

۲ در جای خالی عدد یا کلمه ی مناسب قرار دهید:

۳۵۴۲ متر یعنی ----- متر و ----- کیلومتر.

۵ کیلو متر و ۲۰ متر می شود ----- متر

۳۲۰۰ گرم می شود ----- تا ۱۰۰۰ گرم

۱ کیلوگرم می شود ----- تا ۲۵۰ گرم

۳ جرم یک هندوانه از ۴ کیلوگرم ۲۵۰ گرم بیشتر است آن را در یک کفه ی ترازو قرار دادیم. و در کفه ی دیگر ۲ وزنه ی ۱ کیلوگرمی و سه وزنه ی ۶۰۰ گرمی قرار دادیم چه قدر وزنه کم داریم تا ترازو میزان شود ؟

۴ عدد داخل ابره به دام مربع نزدیک ت است ؟ آن را رنگ کنید.

۵۰۰۰ ← ۵۰۳۶ → ۶۰۰۰

۷۰۰۰ ← ۷۸۵۶ → ۸۰۰۰

۵ یک لیر کشوری ۲۱۰۰ ریال ارزش دارد. ۴ لیر این کشور ارزش بیشتری دارد یا ۹۰۰ تومان؟



مشخصات امتحان

زمان امتحان

مشخصات دانش آموز

درس:

ساعت:

نام:

رشته:

تاریخ: ۹۷/۱۰/۲۲

نام خانوادگی:

پایه:

دقیقه

مدت:

شماره:

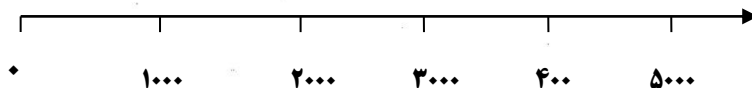
نمره

## سؤالات

ردیف


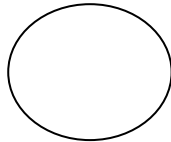
6 اعداد داده شده را به صورت تقریبی روی محور نشان دهید.

۹۲۰ ، ۱۳۵۴ ، ۲۰۷۱ ، ۳۸۹۰ ، ۴۵۰۰

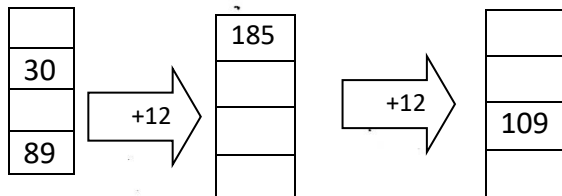


۷ تمام اعداد سه رقمی که یکان آنها ۳، دهگان آنها ۰ و ۵، صدگان آنها ۲ و ۷ است را بنویسید.

۸ خط تقارن شکل های زیر را رسم کنید و تعداد آن را بنویسید.



۹ در جای خالی عدد مناسب قرار دهید.



زمان	۱۵:۳۰		۲۲:۰۵	
بعد از ظهر		۴:۱۷		نه و سی

۱۰ یک ساختمان ۵ طبقه دارد که هر طبقه آن ۲ واحد دارد.

الف) طبقه ۴ چند واحد دارد؟

ب) ۴ طبقه آخر با هم چند واحد دارند؟

۱۱ مغازه داری یک بسته بیسکویت را ۲۰۰ تومان می خرد و ۲۳۰ تومان می فروشد.

الف) سود هر بسته بیسکویت را بدست آورید.

ب) ۵ بسته بیسکویت چقدر سود دارد؟

ج) چند بسته بیسکویت بفروشد تا با سود آن یک بسته بخرد؟