



نام و نام خانوادگی: کلاس سوم دبستان خجانه دانی ریاضی ۳۰ شماره دانش آموز: ۲۴

آموزگار:


۷- هر عبارت ضرب را روی محور اعداد نشان دهید.



$$3 \times 3 = \dots\dots$$



$$2 \times 4 = \dots\dots$$



$$4 \times 2 = \dots\dots$$

۸- در جاهای خالی عدد مناسب بنویسید.

$$3 \times 8 = \square$$

$$2 \times \square = 18$$

$$\square \times 7 = 21$$

$$\square \times 5 = 15$$

$$4 \times \square = 20$$

$$2 \times \square = 8$$

۹- در هر جامدادی ۵ مداد قرار دارد. در ۳ جامدادی چند مداد قرار دارد؟

۱۰- روی هر گل ۳ زنبور نشسته‌اند روی ۴ گل چند زنبور نشسته‌اند؟

۱۱- هر دست بشقاب، ۶ بشقاب است. ۳ دست بشقاب، چند بشقاب است؟



۱۲- مریم ۲ گلدان دارد او هر ۴ شاخه گل را در یک گلدان می‌گذارد و ۳

شاخه گل هم برایش باقی می‌ماند تمام گل‌های مریم چند شاخه گل هستند؟

