

ایران توشه

- دانلود نمونه سوالات امتحانی

- دانلود گام به گام

- دانلود آزمون گاج و قلم چی و سنجش

- دانلود فیلم و مقاله انگلیزی

- کنکور و مشاوره



IranTooshe.ir



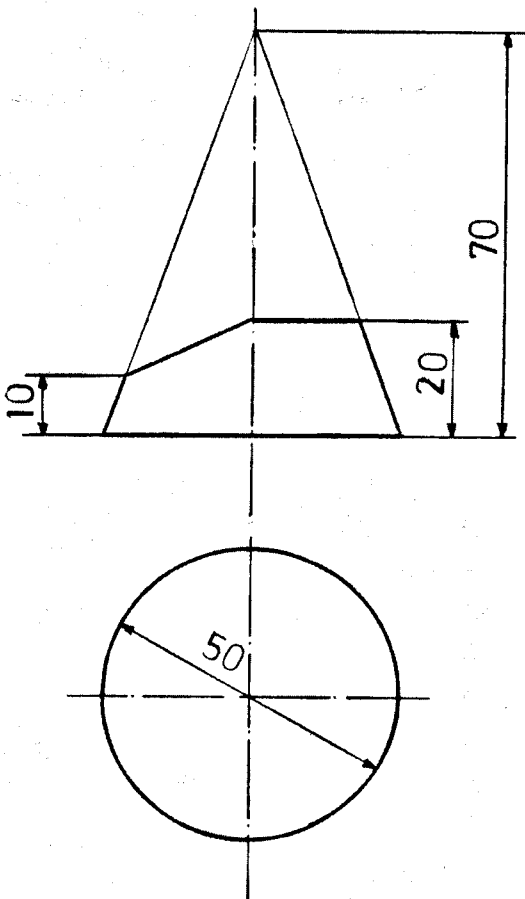
@irantooshe



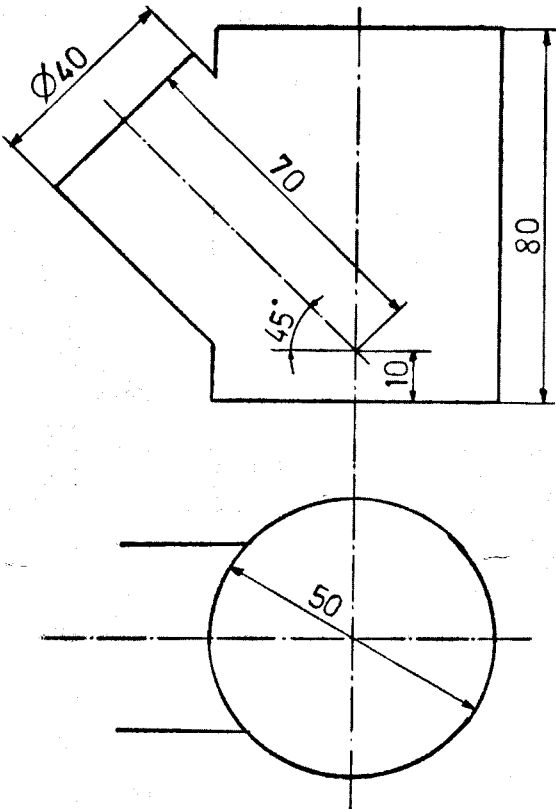
IranTooshe



مدت امتحان: ۱۸۰ دقیقه	ساعت شروع: ۸ صبح	رشته: مکانیک خودرو	سؤالات امتحان نهایی درس: رسم فنی تخصصی
تعداد صفحه: ۳	تاریخ امتحان: ۹۵/۳/۳	سال سوم آموزش متوسطه	نام و نام خانوادگی:
مرکز سنجش آموزش و پرورش http://aee.medu.ir		دانش آموزان و داوطلبان آزاد سراسر کشور در نوبت خرداد ماه سال ۱۳۹۵	

ردیف	سؤالات	نمره
۱	خط قائم را تعریف کنید و در نمای افقی به چه شکلی دیده می شود؟	۱
۲	کدام صفحه در هیچ نما اندازه واقعی ندارد؟	۰/۵
۳	صفحه ABC به مختصات $A(30, 10, 30)$ و $B(30, 40, 10)$ و $C(30, 30, 40)$ را در ملخص ترسیم نموده و نام صفحه را بنویسید.	۱/۵
۴	چه موقع می توان از روش دوایر مرکزی برای به دست آوردن فصل مشترک احجام استفاده نمود؟	۰/۵
۵	پرداخت خیلی صاف را به روش قدیم (مثلث) نمایش دهید.	۰/۲۵
۶	Rz را تعریف کنید.	۰/۵
۷	حرف Z چه مرحله انطباقی را نشان می دهد؟	۰/۵
۸	از برخورد صفحات افقیه و منتصب با مخروط رو به رو مطلوبست: الف) ترسیم نمای قائم ب) ترسیم و تکمیل نمای افقی ج) گسترش بدنه به همراه در پوش ها	۷
		
ادامه سؤال ها در صفحه دوم		

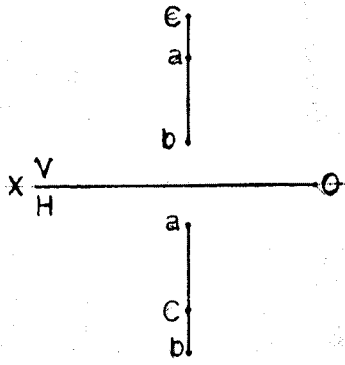

مدت امتحان: ۱۸۰ دقیقه	ساعت شروع: ۸ صبح	رشته: مکانیک خودرو	سؤالات امتحان نهایی درس: رسم فنی تخصصی
تعداد صفحه: ۳	تاریخ امتحان: ۹۵/۳/۳	سال سوم آموزش متوسطه	نام و نام خانوادگی:
مرکز سنجش آموزش و پرورش http://aee.medu.ir		دانش آموزان و داوطلبان آزاد سراسر کشور در نوبت خرداد ماه سال ۱۳۹۵	

ردیف	سؤالات	نمره
۹	<p>با توجه به برخورد استوانه مایل و قائم روبه رو مطلوبست:</p> <p>الف) ترسیم و تکمیل نمای قائم</p> <p>ب) ترسیم و تکمیل نمای افقی</p>	۳/۵
		
	ادامه سؤال ها در صفحه سوم	

مدت امتحان: ۱۸۰ دقیقه	ساعت شروع: ۸ صبح	رشته: مکانیک خودرو	سوالات امتحان نهایی درس: رسم فنی تخصصی
تعداد صفحه: ۳	تاریخ امتحان: ۹۵/۳/۳	سال سوم آموزش متوسطه	نام و نام خانوادگی:
مرکز سنجش آموزش و پرورش http://aee.medu.ir		دانش آموزان و داوطلبان آزاد سراسر کشور در نوبت خرداد ماه سال ۱۳۹۵	

نمره	سوالات	ردیف
۴/۷۵	<p>با توجه به دو نمای داده شده مطلوبست: (۱/۵ نمره)</p> <p>الف) ترسیم نمای قائم ب) ترسیم نمای جانبی ج) اجرای علائم کیفیت سطح به روش براده برداری ماشینی به ترتیب: (۱ نمره)</p> <p>۱- سطح A برابر با ۱۲/۵ میکرون ۲- سطح B برابر با ۲۵ میکرون ۳- سطح C برابر با ۶/۳ میکرون ۴- سطح D برابر با ۰/۸ میکرون</p> <p>د) اندازه گذاری به شرح زیر: (۲/۲۵ نمره)</p> <p>۱- اندازه گذاری کامل ۲- سوراخ به قطر ۳۰ به صورت سوراخ مبنا با کیفیت ۷ ۳- اندازه ۸۰ با انحراف فوقانی ۰/۲+ و تحتانی ۰/۱+ ۴- اندازه ۳۶ با انحراف فوقانی و تحتانی ۰/۲</p>	۱۰
۲۰	جمع نمره	پیروز باشید

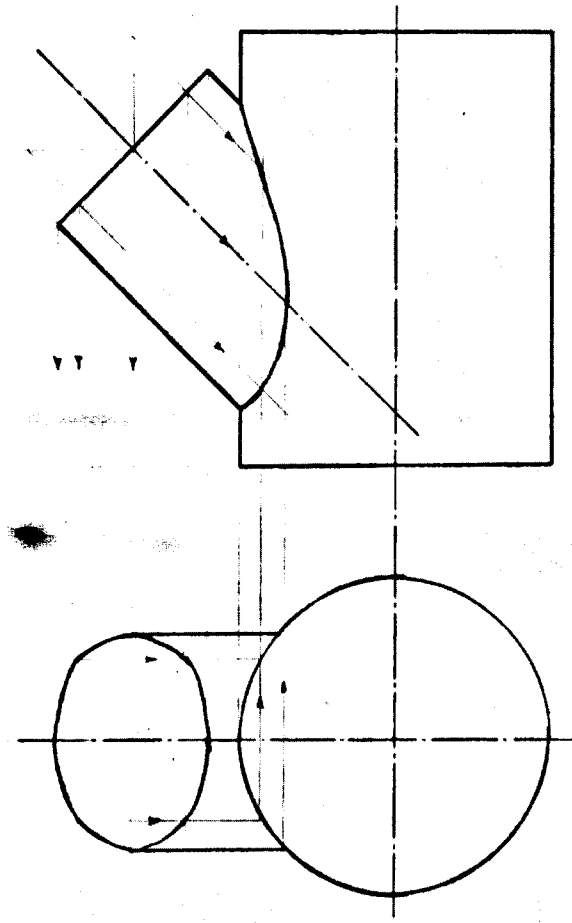
ساعت شروع: ۸ صبح	رشته: مکانیک خودرو	راهنمای تصحیح سؤالات امتحان نهایی درس: رسم فنی تخصصی
تعداد صفحه: ۴	تاریخ امتحان: ۹۵/۰۳/۰۳	سال سوم آموزش متوسطه
مرکز سنجش آموزش و پرورش http://aee.medu.ir	دانش آموزان و داوطلبان آزاد سراسر کشور در نوبت خرداد ماه سال ۱۳۹۵	

نمره	راهنمای تصحیح	ردیف
۱	خطی است عمود بر نمای افقی تصویر و در نمای افقی به صورت یک نقطه دیده می شود.	۱
۰/۵	صفحه هفتم یا غیر مشخص یا غیر خاص	۲
۱/۵	صفحه ی نیم رخ (۰/۲۵) 	۳
۰/۵	از این روش زمانی استفاده می شود که محورهای دو جسم دوار در داخل جسم هم دیگر را قطع کنند یا در نمای سطحی تقارن داشته باشند.	۴
۰/۲۵		۵
۰/۵	معدل یا میانگین بلند ترین ارتفاع های زبری در پنج نمونه	۶
۰/۵	Z پرسی یا فشاری	۷

ساعت شروع: ۸ صبح	رشته: مکانیک خودرو	راهنمای تصحیح سؤالات امتحان نهایی درس: رسم فنی تخصصی
تعداد صفحه: ۴	تاریخ امتحان: ۹۵/۰۳/۰۳	سال سوم آموزش متوسطه
مرکز سنجش آموزش و پرورش http://aee.medu.ir	دانش آموزان و داوطلبان آزاد سراسر کشور در نوبت خرداد ماه سال ۱۳۹۵	

نمره	راهنمای تصحیح	ردیف
۷		۸
	<p>الف) ترسیم نمای قائم (۰/۷۵) ب) ترسیم و تکمیل نمای افقی (۱/۷۵) ج) گسترش بدنه به همراه در پوش ها (۴/۵)</p>	

ساعت شروع: ۸ صبح	رشته: مکانیک خودرو	راهنمای تصحیح سؤالات امتحان نهایی درس: رسم فنی تخصصی
تعداد صفحه: ۴	تاریخ امتحان: ۹۵/۰۳/۰۳	سال سوم آموزش متوسطه
مرکز سنجش آموزش و پرورش http://ace.medu.ir	دانش آموزان و داوطلبان آزاد سراسر کشور در نوبت خرداد ماه سال ۱۳۹۵	

نمره	راهنمای تصحیح	ردیف
۳/۵		۹ الف) ترسیم و تکمیل نمای قائم (۱/۷۵) ب) ترسیم و تکمیل نمای افقی (۱/۷۵)

