

زیست‌شناسی ۳

۱- گزینه «۲»

(مهمعلی فیری)

موارد «ب» و «ج» برای تکمیل عبارت مورد نظر مناسب‌اند.

بررسی همه موارد:

(الف) سنگواره‌ها در نشان دادن جریان داشتن زندگی به شکل‌های مختلف در طول زمان، نقش ایفا می‌کنند. دقت داشته باشید که سنگواره‌ها نشان می‌دهند که درخت گیسو ۱۷۰ میلیون سال پیش نیز وجود داشته است، نه اینکه به‌وجود آمده است!

(ب) تشریح مقایسه‌ای نشان می‌دهد که ساختار بدنی بعضی گونه‌ها از طرح مشابهی برخوردار است، در حالی که خویشاوندی نزدیک‌تر میان دو گونه با افزایش شباهت میان دئای آنها، مربوط به ویژگی‌های مطالعات مولکولی می‌باشد.

(ج) تعیین طرح ساختاری یکسان در اندام‌های جلوبی مهره‌داران، مربوط به ویژگی‌های ساختارهای همتا می‌باشد. در حالی که نشان دادن روش‌های متفاوت برای سازش با محیط و پاسخ جاندار به تغییرات محیطی، از ویژگی‌های ساختارهای آنالوگ می‌باشد.

(د) ساختار آنالوگ در نشان دادن روش‌های متفاوت سازش جانداران با محیط اطراف نقش ایفا می‌کند. دقت داشته باشید که ساختارهای آنالوگ طرح ساختاری متفاوت اما عملکرد یکسان دارند. (تغییر در اطلاعات وراثتی) (زیست‌شناسی ۳، صفحه‌های ۵۷ تا ۵۹)

۲- گزینه «۳»

(کوه نریمی)

در گونه‌زایی دگرمیته‌نی سدهای جغرافیایی ایجاد می‌شوند و این سدها موجب توقف شارش ژن می‌شوند و با توقف شارش ژن و همچنین وقوع فرآیندهایی مثل جهش، نوترکیبی و انتخاب طبیعی به تدریج تفاوت بین جمعیت‌هایی که به واسطه سد جغرافیایی از هم جدا شده‌اند بیشتر می‌شود و با افزایش این تفاوت‌ها در طول زمان، گونه‌زایی رخ می‌دهد و همچنین باید به این نکته دقت کرد که اگر جمعیتی که از جمعیت اصلی جدا شده است کوچک باشد آن‌وقت اثر رانش را نیز باید در نظر گرفت که خود بر میزان تفاوت بین دو جمعیت می‌افزاید. پس می‌توان نتیجه گرفت که در ایجاد گونه‌زایی از نوع دگرمیته‌نی، توقف شارش ژنی و بروز رانش دگرهای نقش دارند. بررسی سایر گزینه‌ها:

گزینه «۱»: تأثیر رانش دگرهای به اندازه جمعیت (تعداد افراد) بستگی دارد.

گزینه «۲»: در پدیده رانش، دگرهای بر اثر رویدادهای تصادفی حذف می‌شوند. پدیده رانش موجب سازش نمی‌شود.

گزینه «۴»: در پدیده رانش، دگره جدید ایجاد نمی‌شود.

نکات مهمی که در این تست بررسی و یادآوری شد:

(۱) به‌طور معمول، پدیده رانش دگرهای که موجب حذف افراد به‌صورت تصادفی می‌شود، فراوانی نسبی دگرها را تغییر می‌دهد.

(۲) رانش دگرهای موجب سازش نمی‌شود.

(۳) اثر رانش دگرهای به اندازه جمعیت بستگی دارد و بر جمعیت‌های کوچک تأثیر بیشتری دارد.

(۴) رانش دگرهای همانند انتخاب طبیعی، نوترکیبی، شارش و جهش در گونه‌زایی دگرمیته‌نی نقش دارد.

(تغییر در اطلاعات وراثتی) (زیست‌شناسی ۳، صفحه‌های ۵۴، ۵۵، ۶۰ و ۶۱)

۳- گزینه «۳»

(علیرضا عابری)

چلیپایی شدن در کاستمان ۱ و هنگام جفت شدن فام‌تن‌های همتا و ایجاد چهارتایه اتفاق می‌افتد و در نتیجه سلول‌هایی که حاصل تقسیم کاستمان هستند امکان دارد، حین تولید آنها چلیپایی شدن رخ دهد.

یاخته‌های تخم‌زا، زایشی و یاخته‌های دانه‌گرده رسیده میوز نمی‌کنند و حاصل تقسیم میوز هستند و فقط یاخته مولد دانه‌گرده نارس میوز را انجام می‌دهد.

(ترکیبی) (زیست‌شناسی ۲، صفحه‌های ۱۲۵ و ۱۲۶) (زیست‌شناسی ۳، صفحه ۵۶)

۴- گزینه «۳»

(ویدکرکچ‌زاده)

مقایسه ژن‌های زنجیره بنای هموگلوبین در بیماران و افراد سالم نشان می‌دهد که در رمز مربوط به ششمین آمینواسید، نوکلئوتید A به‌جای T قرار گرفته است؛ لذا، در مولکول رنای‌بیک حاصل از رونویسی، در مقابل نوکلئوتید A موجود در رشته الگو، نوکلئوتید U قرار می‌گیرد.

بررسی سایر گزینه‌ها:

گزینه «۱»: در فرد بیمار، آمینواسید ششم زنجیره بتا، والین است.

گزینه «۲»: در زنجیره بتای هموگلوبین فرد بیمار، ششمین آمینواسید والین است.

آمینواسید ششم از طریق گروه کربوکسیل خود به آمینواسید بعدی (هفتم) متصل می‌شود.

گزینه «۴»: در سطح دوم ساختاری پروتئین هموگلوبین، ساختار صفحه‌ای مشاهده نمی‌شود.

(ترکیبی) (زیست‌شناسی ۳، صفحه‌های ۴، ۱۵، ۱۷، ۲۵، ۲۷، ۳۰، ۳۸ و ۴۹)

۵- گزینه «۳»

(آرمان پورسپاهی)

منظور صورت سوال انتخاب طبیعی، جهش و رانش دگرهای است. جهش‌های بزرگ می‌توانند ژنوتیپ‌های جدید ایجاد کنند، بدون اینکه دگره جدیدی را به‌وجود بیاورند.

بررسی سایر گزینه‌ها:

گزینه «۱»: انتخاب طبیعی جمعیت را تغییر می‌دهد، نه فرد را!

گزینه «۲»: جهش می‌تواند گوناگونی جمعیت را افزایش دهد.

گزینه «۴»: این گزینه برای همه این عوامل صادق است، زیرا زمانی می‌گوییم جمعیت از تعادل خارج شده است که فراوانی نسبی ژن‌نمودها یا دگرها از نسلی به نسل دیگر تغییر کند. (تغییر در اطلاعات وراثتی) (زیست‌شناسی ۳، صفحه‌های ۴۸ تا ۵۱، ۵۴، ۵۵ و ۶۰)

۶- گزینه «۲»

(مجتبی فخری‌نیا)

دقت کنید که انتخاب طبیعی بر روی جمعیت اثر می‌گذارد و سبب ایجاد ال و صفات سازگار با محیط در فرد نمی‌شود و اصلاً نمی‌تواند دگره (الل) جدیدی ایجاد کند. رانش دگرهای نیز تنها می‌تواند باعث کاهش تنوع ال‌های موجود در جمعیت شود و نمی‌تواند ال جدید ایجاد کند. بررسی سایر گزینه‌ها:

گزینه «۱»: رانش دگرهای همانند آمیزش غیرتصادفی، می‌تواند سبب کاهش تنوع ال‌های موجود در جمعیت شود.

گزینه «۳»: شارش ژن، در گونه‌زایی دگرمیته‌نی رخ نمی‌دهد، در حالی که رانش دگرهای می‌تواند در طی این گونه‌زایی رخ دهد.

گزینه «۴»: رانش دگرهای همانند جهش، می‌تواند سبب تغییر در فراوانی دگرها شود.

(تغییر در اطلاعات وراثتی) (زیست‌شناسی ۳، صفحه‌های ۵۴ و ۵۵، ۶۰ و ۶۱)

۷- گزینه «۱»

(علیرضا رحیمی)

گاهی با وقوع رخدادهای زمین‌شناختی و وقوع سدهای جغرافیایی یک جمعیت به دو قسمت جداگانه تقسیم می‌شود و ارتباط بین دو جمعیت که قبلاً به یک جمعیت تعلق داشتند قطع می‌شود و سپس در اثر وقوع پدیده‌هایی هم‌چون جهش، رانش، نوترکیبی و انتخاب طبیعی به تدریج دو جمعیت با یکدیگر متفاوت می‌شوند و در خزانه ژنی نسل بعد آنها تغییراتی ایجاد می‌شود.

(تغییر در اطلاعات وراثتی) (زیست‌شناسی ۳، صفحه‌های ۵۴ تا ۵۶، ۶۰ و ۶۱)

۸- گزینه «۳»

(معمیرضا فیض‌آباری)

چون در هر دو گامت هر دو دگره A و D وجود دارد، پس حتماً در هر دو گامت‌زایی چلیپایی شدن رخ داده است.

بررسی سایر گزینه‌ها:

گزینه «۱»: در این حالت، ممکن است چلیپایی شدن در یک گامت دوبار رخ داده باشد. یعنی یک گامت ABCd که هیچ چلیپایی شدنی در آن رخ نداده است و گامت دیگر aBCd که دو بار چلیپایی شدن در آن رخ داده است که در این حالت، تنها یک گامت نوترکیب در فرآیند لقاح شرکت می‌کند.

گزینه «۲»: ممکن است گامت ABCd که نوترکیب نیست با گامت aBCd که دوباره نوترکیب نیست لقاح کرده باشد.

گزینه «۴»: ممکن است گامت aBCd که نوترکیب نیست با گامت aBcd که نوترکیب است لقاح کرده باشد و تنها یک گامت نوترکیب در فرآیند لقاح شرکت کرده باشد.

(ترکیبی) (زیست‌شناسی ۲، صفحه‌های ۱۲۴ تا ۱۲۶) (زیست‌شناسی ۳، صفحه‌های ۳۰، ۳۲ تا ۳۴ و ۴۳ و ۵۶)

۹- گزینه «۳»

(مهمعلی فیری)

انتخاب طبیعی، سبب کاهش تنوع جمعیت باکتری از طریق ایجاد روند مقاومت به پادزیست می‌شود. دقت داشته باشید که انتخاب طبیعی نمی‌تواند سبب تغییر فراوانی نسبی دگرهای خزانه ژنی به واسطه تغییر در دگرهای افراد موجود در جمعیت فعلی شود و افراد جمعیت را تغییر نمی‌دهد.

بررسی سایر گزینه‌ها:

گزینه «۱»: پدیده کراسینگ‌اور می‌تواند سبب ایجاد نوترکیبی در مرحله پروفاز میوز ۱ شود و در نتیجه سبب ایجاد ترکیب متفاوتی از دگرها در یاخته‌های جنسی شود. دقت داشته باشید که یاخته‌های موجود در لایهٔ زایندهٔ بیضه‌ها یعنی یاخته‌های اسپرماتوگونی، تقسیم میوز انجام نمی‌دهند و تتراد ایجاد نمی‌کنند و در نتیجه امکان بروز کراسینگ‌اور میان کروموزوم‌های آن وجود ندارد.

گزینه «۲»: جهش با ایجاد دگره جدید در یک جمعیت، سبب برهم‌خوردن تعادل در خزانه ژنی جمعیت می‌شود. جهش می‌تواند منجر به افزایش تفاوت‌های بین فردی در یک جمعیت شده و توان بقای جمعیت در شرایط متغیر محیطی را افزایش دهد.

گزینه «۴»: طی شارش ژنی، خزانه ژنی یک جمعیت در اثر تعامل با جمعیت‌های دیگر موجود در زیست‌بوم، غنی‌تر می‌شود. در صورت بروز شارش ژنی یک‌سویه امکان دارد که تفاوت‌های بین فردی در جمعیت مقصد افزایش (نه کاهش) پیدا کند.

(تربیتی) (زیست‌شناسی ۲، صفحه ۹۹) (زیست‌شناسی ۳، صفحه‌های ۳۹ و ۵۳ تا ۵۶)

۱۰- گزینه «۲»

(معمیرها قیض آباری)

اگر خطا در همهٔ تقسیم‌های دوم کاستمان صورت بگیرد، دو سلول یک فام‌تن اضافه و دو سلول یک فام‌تن کم دارند. اگر این خطا در میوز یک اتفاق بیفتد، مجدداً دو سلول یک فام‌تن اضافه و دو سلول یک فام‌تن کم دارند. پس احتمال ایجاد زاده‌ای با یک فام‌تن اضافه‌تر در هر دو مورد، ۵۰ درصد است. گامت والد دیگر سالم است زیرا سؤال گفته است، یک والد.

بررسی سایر گزینه‌ها:

گزینه «۱»: اگر خطای میوز دو فقط برای برخی از سلول‌ها اتفاق بیفتد، دو سلول سالم داریم و یک سلول با یک فام‌تن اضافه‌تر و یک سلول با یک فام‌تن کمتر از حالت معمول. اما اگر این خطا در میوز یک بیفتد، دو سلول یک فام‌تن اضافه و دو سلول یک فام‌تن کم دارند. پس احتمال ایجاد زاده‌ای با یک فام‌تن اضافه‌تر در یاخته‌های پیکری خود، در حالت اول ۲۵ درصد و در حالت دوم ۵۰ درصد می‌باشد.

گزینه «۳»: اگر خطای میوز دو فقط برای برخی از سلول‌ها اتفاق بیفتد، دو سلول سالم داریم و یک سلول با یک فام‌تن اضافه‌تر و یک سلول با یک فام‌تن کمتر از حالت معمول. اما اگر این خطا در میوز یک بیفتد، دو سلول یک فام‌تن اضافه و دو سلول یک فام‌تن کم دارند. پس احتمال ایجاد زاده‌ای سالم در حالت اول برخلاف حالت دوم وجود دارد.

گزینه «۴»: اگر خطا در همهٔ تقسیم‌های دوم کاستمان صورت بگیرد، دو سلول یک فام‌تن اضافه و دو سلول یک فام‌تن کم دارند. اگر این خطا در میوز یک بیفتد، مجدداً دو سلول یک فام‌تن اضافه و دو سلول یک فام‌تن کم دارند. پس احتمال ایجاد زاده‌ای سالم در هر دو حالت وجود ندارد.

(تربیتی) (زیست‌شناسی ۲، صفحه‌های ۸۱ و ۹۵) (زیست‌شناسی ۳، صفحه‌های ۶۰ و ۶۱)

۱۱- گزینه «۴»

(وید کریم‌زاده)

در جهش حذف، تعداد بازهای پورینی کاهش می‌یابد و در جهش اضافه تعداد آن‌ها افزایش می‌یابد. در جهش جانشینی با توجه به وجود رابطه مکملی، تعداد بازهای پورینی در مجموع دو رشته دنا ثابت است.

بررسی سایر گزینه‌ها:

گزینه «۱»: همهٔ انواع جهش‌های کوچک می‌توانند با عدم تغییر چارچوب خواندن ژن همراه باشند.

گزینه «۲»: در پی بروز همهٔ انواع جهش‌های کوچک، پیوند فسفودی‌استر شکسته خواهد شد. گزینه «۳»: جهش جانشینی ممکن است رمز یک آمینواسید را به رمز پایان ترجمه تبدیل کند. جهش‌های حذف و اضافه نیز ممکن است با تغییر چارچوب خواندن ژن، مقدار نوعی آمینواسید در رشته پلی‌پپتیدی را کاهش دهند.

(تغییر در اطلاعات وراثتی) (زیست‌شناسی ۳، صفحه‌های ۴، ۷، ۴۸ تا ۵۰)

۱۲- گزینه «۲»

(اشکان زرنی)

باید توجه شود که دوبار تیمین که نوعی جهش کوچک کروموزومی محسوب می‌شود، منجر به تغییر توالی مادهٔ وراثتی نمی‌شود. هم‌چنین جهش واژگونی توالی هر رشتهٔ مولکول دنا را تغییر می‌دهد.

بررسی سایر گزینه‌ها:

گزینه «۱»: در زیست یازدهم خواندیم که ژن‌های زیادی شناخته شده‌اند که در بروز سرطان مؤثرند. سرطان در واقع افزایش سرعت تقسیم سلول و افزایش تنظیم‌نشدهٔ تعداد جایگاه‌های آغاز همانندسازی مورد استفاده است.

گزینه «۳»: ترکیبات پاداکسنده می‌توانند در پیشگیری از سرطان نقش داشته باشند.

گزینه «۴»: پرتو فرابنفش با نزدیک کردن بازهای آلی تیمین مجاور و برقراری پیوند کووالانسی بین آن‌ها باعث اختلال در فرایند همانندسازی می‌شود.

(تربیتی) (زیست‌شناسی ۱، صفحه ۱۳۳) (زیست‌شناسی ۲، صفحه‌های ۸۷ تا ۹۰) (زیست‌شناسی ۳، صفحه‌های ۱۱۳ تا ۱۱۴)

۱۳- گزینه «۴»

(عامر مسین‌پور)

سدیم‌نیتريت پس از تبدیل به ترکیباتی دیگر، در شرایطی می‌تواند منجر به سرطان شود. بررسی سایر گزینه‌ها:

گزینه «۱»: این نوع جهش معمولاً از نوع اکسناسی (دود سیگار و ...) است، مگر اینکه تأثیر آن بر یاخته‌های جنسی باشد.

گزینه «۲»: دوبار تیمین بین دو نوکلئوتید مجاور (نه مقابل!) هم تشکیل می‌شود.

گزینه «۳»: در سونوگرافی از پرتوهای صوتی استفاده می‌شود که بی‌خطر هستند.

(تربیتی) (زیست‌شناسی ۲، صفحه ۱۱۲) (زیست‌شناسی ۳، صفحه‌های ۵۱ و ۵۲)

۱۴- گزینه «۲»

(رضا پورقاسم)

بررسی گزینه‌ها: از وی ای پی

گزینه «۱»: اگر جمعیتی که از جمعیت اصلی جدا شده است کوچک باشد، آن وقت اثر رانش ژن را نیز باید در نظر گرفت که خود بر میزان تفاوت بین دو جمعیت می‌افزاید.

گزینه «۲»: در گونه‌زایی دگرمیخی در نبود شارش، با اثر انتخاب طبیعی، نوترکیبی و رانش ژنی، تفاوت‌ها به تدریج در حال افزایش خواهد بود.

گزینه «۳»: منظور از جدایی تولیدمثلی، عواملی است که مانع آمیزش بعضی افراد یک گونه با بعضی دیگر از افراد همان گونه می‌شوند بنابراین در هر دو نوع گونه‌زایی جدایی تولیدمثلی رخ می‌دهد.

گزینه «۴»: طبق متن کتاب درسی، در گونه‌زایی دگرمیخی، نمی‌تواند آمیزشی بین گونهٔ جدید و افراد گونهٔ اولیه صورت بگیرد. در گونه‌زایی هم‌میخی، دو گونه متفاوت ایجاد شده توانایی آمیزش موفقیت آمیز با یکدیگر را ندارند. یعنی جانداران حاصل از آمیزش آن‌ها به هیچ وجه توانایی تولید مثل را ندارند اما از تولید مثل آن‌ها می‌تواند جاندارانی حاصل شوند که زیست هستند و می‌توانند زنده بمانند.

(تغییر در اطلاعات وراثتی) (زیست‌شناسی ۳، صفحه‌های ۶۰ و ۶۱)

۱۵- گزینه «۴»

(علی داوری نیا)

شواهد تغییر گونه‌ها در کتاب درسی شامل سنگواره‌ها، تشریح مقایسه‌ای و مطالعات مولکولی می‌باشد. مطالعات مولکولی در تراز ژنگان (ژنوم) انجام می‌شود که در ژنوم علاوه بر ژن‌ها توالی‌های بین ژنی نیز بررسی می‌شود. در مطالعات مولکولی می‌توان به شباهت جانداران و تاریخچه تغییر آنها پی برد. بررسی سایر گزینه‌ها:

گزینه «۱»: دنا (DNA) مولکولی است که جهت بررسی خویشاوندی جانداران در مطالعات مولکولی استفاده می‌شود. دقت کنید که DNA در باکتری‌ها و در میتوکندری و پلاست‌های یوکاریوت‌ها حلقوی بوده و در ساختار رشته‌های خود هیچ انتهایی ندارد!

گزینه «۲»: ساختارهای آنالوگ نشان می‌دهند که برای پاسخ به یک نیاز، جانداران به روش‌های مختلفی سازش پیدا کرده‌اند. دقت کنید که رده‌بندی جانداران به کمک ساختارهای هم‌انجام می‌شود نه ساختارهای آنالوگ!

گزینه «۳»: اندام‌های هم‌انجام در تشخیص گونه‌هایی با نیای مشترک بررسی می‌شوند. اندام‌های هم‌انجام دارای طرح ساختاری یکسان بوده که می‌توانند کار یکسان یا متفاوتی داشته باشند.

(تغییر در اطلاعات وراثتی) (زیست‌شناسی ۳، صفحه‌های ۱۲، ۱۳، ۵۱ و ۵۷ تا ۵۹)

۱۶- گزینه «۴»

(رضا آرامش اصل)

بررسی موارد:

الف) نادرست است. در صورتی که جهش گفته شده در این مورد جهش مضاعف‌شدگی فرض شود در آن‌صورت این جهش بین کروموزوم‌های هم‌انجام اتفاق می‌افتد. مام‌یاخته ثانویه هاپلوئید است و فاقد کروموزوم هم‌انجام می‌باشد.

ب) نادرست است. اگر اسپرم با مام یاخته ثانویه برخورد نکند یا لقاح آغاز نشود، مام‌یاخته ثانویه همراه با خون‌ریزی‌های دوره‌ای از بدن دفع می‌شود. پس به‌طور قطع نمی‌توان گفت جهشی که در مام‌یاخته ثانویه رخ می‌دهد، به نسل بعد نیز منتقل می‌شود.

ج) نادرست است. اگر جهش کوچک از نوع خاموش باشد، تأثیری در فعالیت پروتئین ندارد.
د) نادرست است. ژن مربوط به شایع‌ترین نوع هموفیلی بر روی کروموزوم جنسی X و ژن بیماری فنیل کتونوری روی کروموزوم غیرجنسی قرار دارد. قرارگیری این دو ژن در مجاورت هم، نتیجه جابه‌جایی قطعاتی بین دو کروموزوم غیرهمتا است. جهش جابه‌جایی در یک کروموزوم هم می‌تواند رخ دهد.

(ترکیبی) (زیست‌شناسی ۲، صفحه‌های ۵۰، ۵۱ و ۵۲) (زیست‌شناسی ۳، صفحه‌های ۱۶، ۱۷ تا ۱۸ و ۱۹ تا ۲۰) (۵)

۱۷- گزینه ۲

(رها آرایش اصل)

هرگاه قسمتی از یک کروموزوم حذف شود، پیوند فسفودی‌استر یا تشکیل نمی‌شود (اگر حذف از یکی از دو انتهای فام‌تن رخ دهد) و یا کمتر از تعداد پیوندهای فسفودی‌استر شکسته شده تشکیل خواهد شد.

بررسی سایر گزینه‌ها:

گزینه ۱: در تغییر واژگونی، امکان جابه‌جا شدن سانترنومر وجود دارد.

گزینه ۳: در صورتی که جابه‌جایی قطعات بین کروموزوم‌ها به این شکل باشد که قطعه جداشده از کروموزوم مبدأ، از قسمت میانی کروموزوم جدا گردد و به قسمت میانی کروموزوم مقصد اضافه شود، امکان تشکیل و شکستن پیوند فسفودی‌استر جدید در هر دو کروموزوم وجود دارد.

گزینه ۴: اگر این قسمت به بخش میانی کروموزوم هم‌تا افزوده شود، در هر دو کروموزوم پیوند فسفودی‌استر شکسته می‌شود.

(تغییر در اطلاعات وراثتی) (زیست‌شناسی ۳، صفحه‌های ۵۰ و ۵۱) (۵)

۱۸- گزینه ۴

(مهری ماهر)

اگر جهشی درون ژن یک آنزیم رخ بدهد و باعث تغییر در توالی آمینواسیدی شود، احتمال تغییر در عملکرد آنزیم بستگی به محل وقوع تغییر در آنزیم بستگی دارد. اگر جهش باعث تغییر در جایگاه فعال آنزیم شود، آنگاه احتمال تغییر عملکرد آنزیم بسیار زیاد خواهد بود، اما اگر جهش در جایی دور از جایگاه فعال رخ بدهد، به‌طوری که بر آن اثر نگذارد، احتمال تغییر در عملکرد آنزیم کم یا حتی صفر می‌باشد.

بررسی سایر گزینه‌ها:

گزینه ۱: اگر جهشی که در توالی بین ژنی رخ می‌دهد در توالی‌های تنظیمی مثل راه‌انداز اتفاق بیفتد، امکان دارد یک راه‌انداز قوی ایجاد کرده باشد. راه‌انداز قوی میزان رونویسی از ژن را بالا می‌برد که در این صورت مقدار مصرف انرژی در آنزیم رنابسپاراز افزایش می‌یابد.

گزینه ۲: هر جهشی که در توالی ژنی فعل‌دنا رخ می‌دهد، قطعاً باعث تغییر در توالی رنای رونویسی شده از آن ژن خواهد شد. رنا محصول آنزیم رنابسپاراز است.

گزینه ۳: جهش در توالی بین ژنی قطعاً با عدم تغییر در توالی آمینواسیدهای پروتئین همراه خواهد بود. جهش در توالی ژنی اگر از نوع خاموش باشد، می‌تواند باعث عدم تغییر در توالی آمینواسیدهای پروتئین شود.

(تغییر در اطلاعات وراثتی) (زیست‌شناسی ۳، صفحه‌های ۴۸ تا ۵۱) (۵)

۱۹- گزینه ۱

(سید امیرضی‌ن هاشمی)

تنها مورد «ب» به درستی بیان شده است.

بررسی همه موارد:

الف) برخی از ساختارها در گروهی از اندام‌ها بسیار کارآمد هستند اما در عده‌ای دیگر، کوچک یا ساده شده و حتی ممکن است فاقد کار خاصی باشند. این ساختارهای کوچک، ساده یا ضعیف شده را ساختارهای وستیجیال (به معنی ردیا) می‌نامیم. با توجه به توضیحات می‌توان دریافت که اندام‌های وستیجیال ممکن است در انجام کار خاصی نقش داشته باشند.

ب) اندام‌های هم‌تا، دارای طرح ساختاری یکسانی هستند و عملکرد آن‌ها می‌تواند مشابه یا متفاوت باشد.

ج) ساختارهایی را که کار یکسان اما طرح ساختاری متفاوت دارند، ساختارهای آنالوگ می‌نامند. ساختارهای آنالوگ نشان می‌دهد که برای پاسخ به یک نیاز، جانداران به روش‌های مختلفی سازش پیدا کرده‌اند.

د) یاخته‌های پوششی در ساختار اندام‌های متفاوتی وجود دارند که می‌توانند دارای عملکرد متفاوتی باشند به عنوان مثال، برخی اندام‌ها توانایی ترشح هورمون‌ها را دارند در حالی که برخی دیگر، در جذب مواد نقش دارند.

(تغییر در اطلاعات وراثتی) (زیست‌شناسی ۳، صفحه‌های ۵۸ و ۵۹) (۵)

۲۰- گزینه ۳

(کاوه نریمی)

گاهی جهش در توالی‌های تنظیمی مانند راه‌انداز یا افزایشنده رخ می‌دهد، این جهش بر توالی آمینواسیدهای پروتئین اثری نخواهد داشت بلکه بر مقدار آن تأثیر می‌گذارد.
بررسی سایر گزینه‌ها:

گزینه ۱: طبق قرارداد، ژنگان هسته‌ای را معادل مجموعه‌ای شامل یک نسخه از هریک (نه بعضی) از انواع فام‌تن‌ها در نظر می‌گیرند.

گزینه ۲: اگر جهش در جایی دور از جایگاه فعال رخ بدهد، به‌طوری که بر آن اثر نگذارد، احتمال وقوع تغییر در عملکرد آنزیم کم یا حتی صفر است و مطابق کتاب وقوع جهش در جایی دور از جایگاه فعال هم می‌تواند موجب اختلال در عملکرد آنزیم شود.

گزینه ۴: تشکیل پیوند بین دو تیمین مجاور در دنا موجب اختلال در عملکرد آنزیم دنباسپاراز می‌شود، در صورتی که آنزیم بازکننده دو رشته دنا در همانندسازی، هلیکاز است.

نکات مهمی که در این تست بررسی و یادآوری شد:

۱- برای تعیین ژنگان هسته‌ای، یک نسخه از انواع فام‌تن‌های یاخته پیکری هسته‌دار را در نظر می‌گیرند. ۲- تشکیل دویار تیمین موجب اختلال در عملکرد آنزیم دنباسپاراز می‌شود.

۳- وقوع جهش در توالی‌های تنظیمی، تأثیری بر توالی پروتئین ندارد بلکه بر مقدار آن تأثیرگذار است.

(ترکیبی) (زیست‌شناسی ۱، صفحه ۱) (زیست‌شناسی ۳، صفحه‌های ۵۱ و ۵۲) (۵)

زیست‌شناسی پایه

۲۱- گزینه ۳

(مهریار سعادت‌نیا)

گیرنده حسی سلول یا بخشی از سلول است که می‌تواند اثر محرک را به پیام عصبی تبدیل و در نهایت آن را به دستگاه عصبی مرکزی منتقل کند.

بررسی سایر گزینه‌ها:

گزینه ۱: هر گیرنده الزاماً یک سلول کامل نمی‌باشد و سیتوپلاسم زیادی ندارد. علاوه بر آن، هر سلول گیرنده الزاماً هسته مرکزی ندارد.

گزینه ۲: هر گیرنده الزاماً بخشی از یک سلول عصبی نیست.

گزینه ۴: اولاً از لایه داخلی پوست جانوران در تولید چرم استفاده می‌شود و دوماً تنها بعضی از گیرنده‌ها مثل گیرنده فشار در بخش داخلی پوست یافت می‌شوند.

(مواص) (زیست‌شناسی ۲، صفحه‌های ۲۰، ۲۱ و ۲۲) (۶)

۲۲- گزینه ۲

(مهم زارع)

از میان استخوان‌های گوش میانی، استخوان چکشی توسط دو رباط دو شاخه به استخوان گیجگاهی متصل می‌شود و همان‌طور که می‌دانید دسته استخوان چکشی با پرده صماخ در اتصال فیزیکی قرار دارد. پرده صماخ اولین محل تولید ارتعاش است.

بررسی سایر گزینه‌ها:

گزینه ۱: استخوان رکابی با شیپوراستاش فاصله کمتری دارد. این استخوان تنها با استخوان سندانی در اتصال مستقیم است.

گزینه ۲: نزدیک‌ترین استخوان به بخش حلزونی استخوان گیجگاهی در نظر گرفته می‌شود که در لرزش درجه بیضی فاقد نقش است.

گزینه ۳: استخوان سندانی با دو استخوان دیگر گوش میانی مفصل دارد. در این استخوان هرچه به سمت گوش درونی می‌رویم، ضخامت کاهش می‌یابد.

(مواص) (زیست‌شناسی ۲، صفحه‌های ۲۸ تا ۳۰، ۳۱ و ۳۲) (۴)

۲۳- گزینه ۱

(مبین قربانی)

عبارت صورت سوال نادرست است. در شکل ۱ فصل دوم یازدهم، واضح است که غلاف میلین می‌تواند توسط بافت پیوندی اطراف گیرنده فشار احاطه شود.

عبارت مورد بحث در گزینه اول با توجه به شکل ۲ فصل ۲ یازدهم نادرست است.

بررسی سایر گزینه‌ها:

گزینه ۲: گیرنده‌های حس وضعیت پوشش پیوندی ندارند (شکل ۳ فصل ۲ یازدهم) اما در قسمت‌هایی که حضور دارند، ماهیچه‌های اسکلتی، زردپی‌ها، کیسول مفصلی) به‌طور حتم توسط بافت پیوندی احاطه می‌شوند.

گزینه ۳: با توجه به فعالیت ۱ فصل دوم یازدهم می‌توان به وجود گیرنده‌های فشار و حساس به اکسیژن در سرخرگ آورت پی برد که هر دو گیرنده به بصل‌التخاع (مرکز اصلی تنظیم

تنفس) پیام می‌دهند. تا میزان فشار خون یا تعداد ضربان قلب را جهت اکسیژن‌رسانی بیشتر یا کمتر تنظیم نمایند.
گزینه «۴»: برخی گیرنده‌ها مثل حس وضعیت، فشار و ... سازش پیدا می‌کنند و برخی از گیرنده‌ها مثل درد سازش پیدا نمی‌کنند.

(مواس) (زیست‌شناسی، ۲، صفحه‌های ۲ و ۲۰ تا ۲۲)

۲۴- گزینه «۲»

پمپ سدیم - پتاسیم برای فعالیت خود نیازمند مصرف انرژی رایج یاخته یعنی ATP بوده و برای تولید آن در یاخته، وابسته به تنفس یاخته‌ای است. بررسی سایر گزینه‌ها:
گزینه «۱»: پمپ سدیم - پتاسیم مانند کانال دریچه‌دار سدیمی، از جنس پروتئین است.
گزینه «۳»: این پمپ همیشه فعال است و در پایان پتانسیل عمل فعالیت بیشتری دارد.
گزینه «۴»: پمپ سدیم - پتاسیم، یون پتاسیم را به یاخته وارد می‌کند.

(ترکیبی) (زیست‌شناسی، ۱، صفحه‌های ۱۳ و ۱۴) (زیست‌شناسی، ۲، صفحه‌های ۴ و ۵)

۲۵- گزینه «۴»

بر اساس توضیحات کتاب درسی، شکل این تست نشان‌دهنده سیناپس فعال بین دو یاخته عصبی (همایه) است. در هر سیناپس فعال، یاخته پیش‌سیناپسی با آزادسازی ناقل‌های عصبی، باعث تحریک یا مهار یاخته پس‌سیناپسی می‌شود.
بررسی سایر گزینه‌ها:

گزینه «۱»: اتصال ناقل‌های عصبی به یاخته پس‌سیناپسی باعث تغییر پتانسیل الکتریکی آن یاخته می‌شود، نه اتصال ریزکیسه‌ها (وزیکول)‌ها به آن!
گزینه «۲»: در محل سیناپس، فضای سیناپسی (فضای همایه‌ای) وجود دارد که در این محل، فاصله‌ای بین یاخته پیش‌سیناپسی و پس‌سیناپسی وجود دارد و این دو یاخته به هم اتصال ندارند.

گزینه «۳»: نکته‌ای ریزبینانه است! بر اساس شکل ۱۰ فصل اول کتاب زیست ۲، در گوشه‌های راست و چپ فضای همایه‌ای نیز، فاصله بین یاخته‌های پیش و پس‌سیناپسی بسیار کم است که در این محل‌ها، ناقلی به گیرنده متصل نمی‌شود.

(تنظیم عصبی) (زیست‌شناسی، ۲، صفحه‌های ۷ و ۸)

۲۶- گزینه «۱»

مغز پلاناریا از دو گره و مغز حشرات از چند گره به هم جوش خورده تشکیل شده است. در حشرات همانند هیدر، رشته‌های عصبی به بخش‌های مختلف وارد می‌شوند.

بررسی سایر گزینه‌ها:

گزینه «۲»: در پلاناریا رشته‌های میان دو طناب نیز جزء دستگاه عصبی مرکزی‌اند.

گزینه «۳»: در پلاناریا فاصله میان دو طناب از بالا به پایین ابتدا کاهش، بعد افزایش و سپس کاهش می‌یابد.

گزینه «۴»: در حشرات فعالیت هر جفت‌پا توسط یک گره عصبی موجود در آن بند صورت می‌گیرد.

(تنظیم عصبی) (زیست‌شناسی، ۲، صفحه ۱۸)

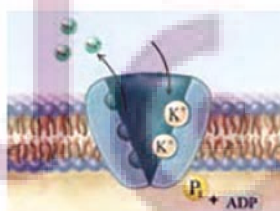
۲۷- گزینه «۲»

بعد از پتانسیل عمل در یک نورون حسی، فعالیت بیشتر پمپ سدیم - پتاسیم باعث می‌شود غلظت یون‌ها در دو سوی غشا دوباره به حالت آرامش باز گردد. این پمپ واجد خاصیت تجزیه ATP است. با توجه به شکل، یون پتاسیم بزرگتر از سدیم است. ویتامین K (نه یون پتاسیم) در جریان انعقاد خون ضروری است. در انعقاد خون، فیبرینوژن (پروتئین محلول در پلاسما) به رشته‌های فیبرین (حالت نامحلول فیبرینوژن) تبدیل می‌شود.

بررسی سایر گزینه‌ها:

گزینه «۱»: یون سدیم نسبت به یون پتاسیم، جایگاه‌های اتصال بیشتری در پمپ سدیم پتاسیم دارد.

(نیلوفر شعبانی)



گزینه «۳»: دقت کنید که همواره سدیم مایع میان‌بافتی بیشتر از سیتوپلاسم سلول است. همچنین، همواره پتاسیم سیتوپلاسم سلول بیشتر از مایع میان‌بافتی است.
گزینه «۴»: یونی که در انقباض عضلات این کار را انجام می‌دهد، کلسیم است؛ نه سدیم!
(ترکیبی) (زیست‌شناسی، ۱، صفحه ۶۴) (زیست‌شناسی، ۲، صفحه ۴، ۵ و ۳۹)

۲۸- گزینه «۱»

بسته شدن کانال دریچه‌دار در غشای نورون می‌تواند در قله نمودار پتانسیل عمل (بسته شدن کانال‌های دریچه‌دار سدیمی) یا پایان پتانسیل عمل (بسته شدن کانال‌های دریچه‌دار پتاسیمی) رخ دهد. فقط مورد «الف» به‌طور حتم در هیچ‌یک از این دو هنگام رخ نمی‌دهد.
بررسی همه موارد:

الف) بلافاصله در پایان پتانسیل عمل پتانسیل آرامش برقرار است ولی حالت آرامش برقرار نیست و با افزایش عملکرد پمپ سدیم - پتاسیم، بعد از مدتی غلظت یون‌ها به حالت آرامش برمی‌گردد.

فرق «حالت آرامش» و «پتانسیل آرامش» را دریابیم:

منظور از پتانسیل آرامش، یعنی اختلاف پتانسیل دو سمت غشای نورون ۷۰ میلی‌ولت باشد. منظور از حالت آرامش، یعنی علاوه بر اینکه اختلاف پتانسیل دو سمت غشای نورون ۷۰ - میلی‌ولت می‌باشد، غلظت یون‌های سدیم و پتاسیم در دو سمت غشای نورون نیز مطابق حالت آرامش باشد.

ب) در قله پتانسیل عمل حداکثر بار مثبت درون نورون مشاهده می‌شود که اختلاف پتانسیل الکتریکی دو سوی غشا ۳۰+ میلی‌ولت است.

ج) در پایان پتانسیل عمل، به علت افزایش فعالیت پمپ سدیم پتاسیم، میزان ATP بیشتری در سمت داخلی غشا تجزیه می‌شود و بدین ترتیب غلظت فسفات آزاد و ADP (نوکلئوتید دوفسفاته) در این قسمت افزایش می‌یابد.

د) در قله نمودار پتانسیل عمل، کانال‌های دریچه‌دار پتاسیمی که دریچه‌شان در سمت درونی غشای نورون قرار دارد، باز می‌شوند.

(تنظیم عصبی) (زیست‌شناسی، ۲، صفحه‌های ۳۳ و ۵)

۲۹- گزینه «۲»

بخش مؤثر در ترشح اشک و بزاق، پل مغزی می‌باشد. در بالای پل مغزی، مغز میانی قرار دارد. مغز میانی در حرکت، شنوایی و بینایی نقش دارد. در نتیجه، می‌توان متوجه شد که مغز میانی پیام‌هایی را دریافت می‌کند که مرتبط با بینایی و شنوایی است. دریافت پیام توسط یاخته‌های عصبی به معنای تغییر نفوذپذیری غشا (با تغییر پتانسیل غشا) است. تجزیه ماده حساس به نور نیز به منظور ایجاد پیام عصبی توسط گیرنده‌های نوری و دیدن اشیا رخ می‌دهد.
بررسی سایر گزینه‌ها:

گزینه «۱»: داربست‌های بافت عصبی را یاخته‌های پشتیبان (غیرعصبی) ایجاد می‌کنند. یاخته‌های عصبی (نه پشتیبان) ناقل عصبی آزاد می‌کنند.

گزینه «۳»: گیرنده‌های بخش دهلیزی گوش درونی، به مخچه نیز پیام ارسال می‌کنند.

گزینه «۴»: با پایان یافتن دم، بازدم بدون نیاز به پیام عصبی انجام می‌شود.

(ترکیبی) (زیست‌شناسی، ۱، صفحه‌های ۴۱ و ۴۳) (زیست‌شناسی، ۲، صفحه‌های ۱۰، ۱۱، ۲۴، ۲۵، ۲۹ و ۳۰)

۳۰- گزینه «۳»

بخش‌های شماره‌گذاری شده:

۱) مخ

۳) مخچه

۴) بصل‌النخاع

مخچه به منظور تنظیم حرکت و تعادل بدن از دیگر بخش‌های مغز، نخاع و اندام‌های حسی مانند گوش‌ها و چشم‌ها (گیرنده‌های نوری) به‌طور پیوسته اطلاعاتی دریافت می‌کند.

بررسی سایر گزینه‌ها:

گزینه «۱»: مخ در پردازش اولیه و تقویت اطلاعات حسی تولید شده در گیرنده‌های بویایی نقش ندارند.

گزینه «۲»: بزرگ‌ترین لوب مغز انسان، لوب پیشانی است نه لوب پس‌سری!

گزینه «۴»: بصل‌النخاع در تنظیم تعداد ضربان قلب (فعالیت گره سینوسی دهلیزی) همانند تنظیم فشار خون نقش دارد.

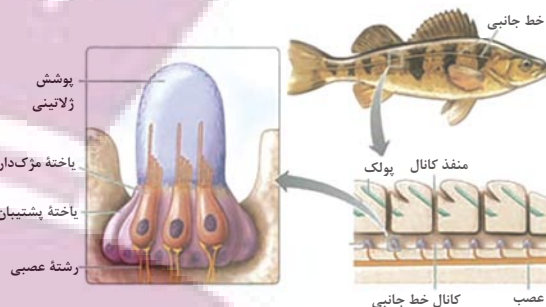
(ترکیبی) (زیست‌شناسی، ۱، صفحه‌های ۵۲ و ۶۰) (زیست‌شناسی، ۲، صفحه‌های ۱۰، ۱۲، ۲۴، ۲۵ و ۳۶)

(نیما شکورزاده)

۳۱- گزینه ۳

(ممر زارغ)

مطابق شکل کتاب درسی، واضح است که هسته گیرنده‌های مکانیکی خط جانبی ماهی نسبت به هسته یاخته‌های پشتیبان در سطح بالاتری قرار دارد.



بررسی گزینه‌ها:

گزینه «۱»: مطابق شکل کتاب درسی واضح است که رأس عدسی مخروطی شکل در مجاورت یاخته‌های گیرنده نوری قرار دارد.



گزینه «۲»: برخی مارها می‌توانند پرتوهای فرسوخ را تشخیص دهند. در جلو و زیر هر چشم مار زنگی، سوراخی است که گیرنده‌های پرتو فرسوخ در آن قرار دارند. به کمک این گیرنده‌ها، مار پرتوهای فرسوخ تابیده (نه بازتابیده) از بدن شکار را دریافت می‌کند و محل آن را در تاریکی تشخیص می‌دهد.

گزینه «۴»: چشم مرکب که در حشرات دیده می‌شود، از تعداد زیادی واحد بینایی تشکیل شده است. هر واحد بینایی، یک قرنیه، یک عدسی و تعدادی گیرنده نوری دارد. هر یک از این واحدها تصویر کوچکی از بخشی از میدان بینایی را ایجاد می‌کنند. دستگاه عصبی جانور (نه چشم مرکب)، این اطلاعات را یکپارچه و تصویری موزاییکی ایجاد می‌کند. گیرنده‌های نوری برخی حشرات مانند زنبور، پرتوهای فرابنفش را نیز دریافت می‌کند.

(موساس) (زیست‌شناسی ۲، صفحه‌های ۳۳۳ تا ۳۳۵)

۳۲- گزینه ۳

(ممر معری طوماسی)

علاوه بر حس چشایی، حس بویایی نیز در درک مزه غذا نقش مهمی دارد. سایر حواس ویژه عبارت‌اند از بینایی، شنوایی و تعادلی
بررسی گزینه‌ها:

گزینه «۱»: هر دوی این حواس، محرک شیمیایی داشته و پروتئین‌هایی به منظور تشخیص آن‌ها دارند. البته دقت کنید همه یاخته‌های زنده دارای گیرنده‌های غشایی برای مولکول‌های مختلف می‌باشند. از موم وی ای پی

گزینه «۲»: بالاترین بخش ساقه مغز، مغز میانی می‌باشد که در بینایی، شنوایی و حرکت نقش دارد. همه حواس بینایی، شنوایی و تعادلی می‌توانند بر فعالیت‌های آن تأثیر بگذارند.

گزینه «۳»: در حس بویایی، پیام عصبی مستقیماً توسط رشته عصبی خود گیرنده بویایی به پیام بویایی مغز ارسال می‌شود.

گزینه «۴»: گیرنده‌های نوری درون شبکیه (لایه درونی کره چشم) و گیرنده‌های تعادلی و شنوایی در گوش درونی قرار دارند. این یاخته‌ها، در مجاورت یاخته‌های مختلفی مانند یاخته پوششی یا عصبی می‌توانند قرار بگیرند.

(موساس) (زیست‌شناسی ۲، صفحه‌های ۱۰، ۱۲، ۱۳، ۲۴، ۲۵ و ۲۹ تا ۳۲)

۳۳- گزینه ۳

(علی داری‌نیا)

فقط مورد «ج» عبارت را به‌طور صحیح کامل می‌کند.

بررسی همه موارد:

(الف) در گوش درونی، گیرنده‌های مختلفی وجود دارند، دقت کنید که در گیرنده‌ها تغییر اختلاف پتانسیل غشا به دنبال باز شدن کانال‌های یونی رخ می‌دهد نه برعکس!

(ب) در جوانه‌های چشایی، یاخته‌های پشتیبان با یاخته‌های سنگفرشی تماس دارند.

(ج) در حفره بینی، پوست و مخاط وجود دارد که گیرنده‌های ابتدایی بینی از نوع گیرنده‌های پوست می‌باشند مانند درد و فشار، که گیرنده فشار می‌تواند به دنبال تغییر شکل پوشش اطراف خود پیام عصبی تولید کند.

(د) دقت کنید که گیرنده‌های شنوایی و تعادل در گوش داخلی ابتدا پیام تولید شده را به یاخته عصبی که رشته عصبی را ایجاد می‌کند، منتقل می‌کنند و نمی‌توانند مستقیماً این پیام را به مغز ارسال کنند.

(ترکیبی) (زیست‌شناسی ۱، صفحه ۱۵) (زیست‌شناسی ۲، صفحه‌های ۲۰ و ۲۹ تا ۳۲)

۳۴- گزینه ۴

(علی داری‌نیا)

دوربینی به کمک عدسی همگرا اصلاح می‌شود، در چشم غیرمسلح افراد دوربین تصویر اجسام دور روی شبکیه افتاده و در یک نقطه متمرکز می‌شود.

بررسی سایر گزینه‌ها:

گزینه «۱»: در هیچ‌یک از بیماری‌های چشم تصویر اجسام نزدیک در جلوی شبکیه تشکیل نمی‌شود! در افراد دوربین، تصویر اجسام نزدیک در پشت شبکیه تشکیل می‌شود.

گزینه «۲»: در آستیگماتیسم پرتوهای نور در یک نقطه از شبکیه متمرکز نمی‌شوند، در این افراد سطح عدسی یا قرنیه کاملاً صاف و کروی نمی‌باشد، دقت کنید که عدسی جزء لایه‌های چشم محسوب نمی‌شود!

گزینه «۳»: در هیچ‌یک از بیماری‌های چشم قدرت انعطاف تارهای آویزی کاهش نمی‌یابد! در پیرچشمی انعطاف عدسی کاهش یافته و تصویر اجسام نزدیک در پشت شبکیه تشکیل می‌شود.

(موساس) (زیست‌شناسی ۲، صفحه‌های ۲۳ تا ۲۷)

۳۵- گزینه ۲

(ممر مسن مؤمن زاده)

عوامل حفاظت از مغز و نخاع انسان عبارتند از: استخوان‌های جمجمه و ستون مهره، پرده‌های مننژ، مایع مغزی- نخاعی، سد خونی- مغزی و سد خونی- نخاعی.

مویرگ‌های خونی در سرتاسر ماده سفید و خاکستری مغز و نخاع یافت می‌شوند. بنابراین سد خونی-مغزی و خونی-نخاعی که همان بافت پوششی مویرگ‌های دستگاه عصبی مرکزی می‌باشند، در درون ماده سفید قابل مشاهده هستند. دقت کنید که سایر عوامل حفاظت‌کننده از مغز و نخاع در اطراف بافت عصبی مغز و نخاع قرار داشته و الزاماً در درون ماده سفید یا خاکستری دستگاه عصبی مرکزی یافت نمی‌شوند.

بررسی سایر گزینه‌ها:

گزینه «۱»: دقت کنید که مایع مغزی- نخاعی از شبکه‌های مویرگی درون بطن‌های جانبی مغز ترشح شده و فاقد ساختار یاخته‌ای غیرخونی می‌باشد.

گزینه «۳»: مغز و نخاع مراکز نظارت بر فعالیت‌های بدن هستند. سد خونی- مغزی در حفاظت از نخاع و سد خونی- نخاعی، در حفاظت از مغز نقشی ندارد.

گزینه «۴»: سد خونی- مغزی و خونی- نخاعی، علاوه بر مواد مغذی مورد نیاز یاخته‌های عصبی، به برخی از داروها نیز اجازه عبور از خود را می‌دهند.

(ترکیبی) (زیست‌شناسی ۱، صفحه ۳۴) (زیست‌شناسی ۲، صفحه‌های ۱۰، ۹ و ۱۳)

۳۶- گزینه ۴

(فرزاد اسماعیل‌لو)

بافت عصبی از نورون‌ها و نوروگلیاها (یاخته‌های پشتیبان) تشکیل شده است. نوروگلیاها، یاخته‌های غیرعصبی بافت عصبی هستند. این یاخته‌ها نقش‌های متعددی دارند که عبارت‌اند از: (۱) ایجاد غلاف میلین (۲) داربستی برای استقرار نورون‌ها (۳) دفاع از نورون‌ها (فاگوسیتوز می‌کنند) (۴) حفظ هم‌ایستایی مایع اطراف نورون‌ها و ...

با اینکه نورون‌های رابط معمولاً فاقد میلین هستند ولی همانطور که گفته شد، نوروگلیاها به‌جز ایجاد غلاف میلین، نقش‌های دیگری نیز دارند که برای نورون رابط همانند سایر نورون‌ها ضروری است. بنابراین می‌توان گفت تمامی انواع نورون‌ها برای عملکرد صحیح خود به نوروگلیاها وابسته‌اند.

بررسی سایر گزینه‌ها:

گزینه «۱»: بخش مرکزی مغز و بخش قشری نخاع شامل ماده سفیداند. ماده سفید در واقع اجتماع رشته‌های عصبی میلین‌دار است. دقت کنید نوروگلیاها در خارج از سیستم عصبی مرکزی نیز وجود دارند. (به کلمه «تمامی» در صورت سوال دقت کنید)

گزینه «۲»: بیماری MS، نوعی بیماری خودایمنی است که در طی آن بینایی و حرکت فرد مختل می‌شود. در این بیماری فقط میلین‌های دستگاه عصبی مرکزی تخریب شده و میلین‌های دستگاه عصبی محیطی دست‌نخورده باقی می‌مانند.

گزینه «۳»: غلاف میلین باعث کاهش سطح تماس غشای پلاسمایی رشته‌های عصبی با مایع بین‌باخته‌های اطراف می‌شود. همانطور که گفته شد، نوروگلیاها نقش‌های متعددی دارند و همگی لزوماً در ساخت غلاف میلین شرکت نمی‌کنند.

(تنظیم عصبی) (زیست‌شناسی ۲، صفحه‌های ۲، ۳، ۴، ۹)

۳۷- گزینه «۴»

(مهمه زارع)

یاخته واحد ساختار و عملکرد در جانداران است. و تنها مورد «د» نوعی یاخته محسوب می‌شود. بررسی همه موارد:

(الف) عدسی چشم همگرا و انعطاف‌پذیر است. مایعی شفاف به نام زلالیه فضای جلوی عدسی چشم را پر کرده است که از مویرگ‌ها ترشح می‌شود. زلالیه مواد غذایی و اکسیژن را برای عدسی و قرنیه فراهم و مواد دفعی آنها را جمع‌آوری می‌کند و به خون می‌دهد. بنابراین زلالیه نوعی یاخته محسوب نمی‌شود.

(ب) در تشریح چشم گاو، زلالیه به‌طور کامل شفاف نیست؛ زیرا مقداری از دانه‌های سیاه ملانین از بخش‌های دیگر چشم در آن رها شده‌اند.

(ج) ماده‌های ژله‌ای و شفاف به نام زجاجیه در فضای پشت عدسی قرار دارد که شکل کروی چشم را حفظ می‌کند. زجاجیه نیز همانند زلالیه ساختار یاخته‌ای ندارد.

(د) برای تشخیص چپ یا راست بودن چشم، آن را طوری در دست بگیرید که سطح بالایی آن رو به بالا باشد. قرنیه به شکل تخم‌مرغ دیده می‌شود. توجه داشته باشید که قرنیه ساختار یاخته‌ای دارد.

(ترکیبی) (زیست‌شناسی ۱، صفحه ۱۱) (زیست‌شناسی ۲، صفحه‌های ۲۳، ۲۴ و ۲۷)

۳۸- گزینه «۱»

(میرین قربانی)

بررسی گزینه‌ها:

گزینه «۱»: ماهیچه‌های حلقوی چشم عبارتند از ماهیچه‌های پاراسمپاتیکی عنبیه و گروهی از ماهیچه‌های مژگانی، در نتیجه این گزینه غلط است.

گزینه «۲»: هر لوب پس‌سری از هر دو چشم اطلاعات بینایی را دریافت می‌کند.

گزینه «۳»: با توجه به شکل ۶ فصل ۲ کتاب درسی، مشاهده می‌کنیم که در هنگام ضخیم شدن عدسی و نگاه به نزدیک تارهای آویزی شل می‌شوند که همزمان با آن ماهیچه‌های مژگانی در حال انقباض‌اند. تارهای آویزی در حالت استراحت جسم مژگانی، عدسی را کشیده و به صورت باریک نگه می‌دارند.

گزینه «۴»: بخش توصیف شده صلبیه است که همزمان با جسم مژگانی و ماهیچه‌های حرکت‌دهنده کره چشم در تماس است. با توجه به شکل ۴ فصل ۲ یازدهم، می‌بینیم که این لایه در محل اتصال به ماهیچه‌های حرکت‌دهنده کره چشم، برجستگی داشته و به همین علت سطحی کاملاً صاف و کروی ندارد.

(موازی) (زیست‌شناسی ۲، صفحه‌های ۲۳ تا ۲۶ و ۳۲)

۳۹- گزینه «۲»

(فرزاد اسماعیل‌لو)

منظور عبارت صورت سوال، الکل است. مشکلات کبدی، سکتته قلبی و انواع سرطان‌ها از پیامدهای مصرف طولانی‌مدت الکل می‌باشد. رخ دادن موارد «الف»، «ب» و «د» دور از انتظار نیست.

بررسی همه موارد:

(الف) در سکتته قلبی، بخشی از ماهیچه قلب تخریب شده و قدرت انقباضی آن کاهش می‌یابد. لذا ممکن است امواج نوار قلب تغییر یابند.

(ب) مصرف الکل، یکی از علل ایجاد ریفلاکس معده است. این فرایند در نتیجه کاهش قدرت انقباضی بنداره انتهایی مری رخ می‌دهد.

(ج) کبد، صفرا را می‌سازد. دقت کنید صفرا فاقد آنزیم است و استفاده از لفظ «آنزیم‌های صفراوی» اساساً نادرست است.

(د) سرطان در نتیجه تقسیمات تنظیم نشده یاخته‌ها ایجاد می‌شود.

(ترکیبی) (زیست‌شناسی ۱، صفحه‌های ۲۲، ۲۳، ۲۴ و ۲۵) (زیست‌شناسی ۲، صفحه‌های ۱۳، ۱۴ و ۹۰)

۴۰- گزینه «۲»

(پژمان یعقوبی)

دستگاه عصبی محیطی انسان، شامل دو بخش حسی و حرکتی است که خود بخش حرکتی دارای دو قسمت پیکری و خودمختار می‌باشد.

دستگاه عصبی خودمختار می‌تواند بر عملکرد شبکه‌های عصبی رودهای تأثیرگذار باشد.

دستگاه عصبی خودمختار در تنظیم فشار خون بدن نقش دارد؛ پس می‌تواند میزان ورود خوناب از کلافاک به کپسول بومن را افزایش یا کاهش دهد.

بررسی سایر گزینه‌ها:

گزینه «۱»: هر دو بخش خودمختار و پیکری دستگاه عصبی محیطی در انجام فعالیت‌های غیرارادی نقش دارند در صورتی که تنها بخش خودمختار به ماهیچه‌های صاف پیام می‌فرستد.

گزینه «۳»: بخش حسی در دستگاه عصبی محیطی، پیام عصبی را از نوعی گیرنده حس ویژه به مغز وارد می‌کند. بخش حسی هر پیام حسی تولید شده در گیرنده‌های حواس پیکری و ویژه را به سمت دستگاه عصبی مرکزی می‌برد. اغلب پیام‌های حسی پس از ورود به مغز، در تالاموس‌ها تقویت می‌شوند ولی حواستون باشه عصب بویایی که از گیرنده‌های بویایی، پیام بویایی را به مغز منتقل می‌کند، به تالاموس نمی‌رود و پیام بویایی در تالاموس تقویت نمی‌شود.

گزینه «۴»: دستگاه عصبی پیکری و خودمختار، سبب انقباض نوعی ماهیچه با ظاهر مخطط می‌شود. در حالی که دستگاه عصبی خودمختار (نه پیکری) میزان ورود خون به شبکه مویرگی اندام‌ها را تنظیم می‌کند. دستگاه عصبی خودمختار هم به قلب (ماهیچه‌ای با ظاهر مخطط) پیام ارسال می‌کند.

(ترکیبی) (زیست‌شناسی ۱، صفحه‌های ۱۶، ۲۷، ۵۵، ۵۶، ۵۸ و ۷۳)

(زیست‌شناسی ۲، صفحه‌های ۱۱، ۱۲، ۱۷، ۲۳، ۳۱ و ۴۷)

۴۱- گزینه «۲»

(علی داوری‌نیا)

لوب گیج‌گاهی با ساقه مغز و نیز لوب پس‌سری (لوب پردازش‌کننده اطلاعات بینایی) مجاور است.

بررسی سایر گزینه‌ها:

گزینه «۱»: لوب‌های گیج‌گاهی و آهیانه با سه لوب دیگر در تماس‌اند، لوب گیج‌گاهی فقط از نمای نیم‌رخ قابل مشاهده است.

گزینه «۳»: لوب‌های پیشانی و پس‌سری با دو لوب دیگر در تماس‌اند. در مجاورت لوب پیشانی لوب بویایی است که با سامانه لیمبیک در ارتباط است.

گزینه «۴»: لوب‌های آهیانه و گیج‌گاهی با لوب پیشانی (بزرگترین لوب) در تماس‌اند. تبدیل حافظه کوتاه‌مدت به بلندمدت در هیپوکامپ انجام می‌شود که فقط در لوب گیج‌گاهی قرار دارد.

(تنظیم عصبی) (زیست‌شناسی ۲، صفحه‌های ۱۰ تا ۱۲ و ۳۲)

۴۲- گزینه «۴»

(پژمان یعقوبی)

در بخش خاکستری نخاع، یاخته‌های عصبی رابط و نورون حرکتی ماهیچه‌دو سر بازو، در پی دریافت ناقل عصبی تحریکی، تحریک می‌شوند. با توجه به شکل کتاب، در نورون‌های حرکتی و رابط تعداد دندریتها بیشتر از آکسون است. در نورون‌های حسی یک دندریت و یک آکسون وجود دارد.

بررسی سایر گزینه‌ها:

گزینه «۱»: در مسیر انعکاس عقب کشیدن دست، بین نورون حرکتی ماهیچه‌دو سر بازو و نورون حسی سیناپسی وجود ندارد.

گزینه «۲»: دقت داشته باشید که ریزکیسه‌ها هیچ‌وقت از یاخته خارج نمی‌شوند!

گزینه «۳»: همه ناقل‌های عصبی آزاد شده از پایانه‌های آکسونی موجود در بخش خاکستری نخاع، می‌توانند در پی اتصال به یاخته پس‌سیناپسی، سبب تغییر در پتانسیل الکتریکی این یاخته شوند.

(ترکیبی) (زیست‌شناسی ۱، صفحه ۱۵) (زیست‌شناسی ۲، صفحه‌های ۲، ۳، ۷، ۸، ۱۵ و ۱۶)

۴۳- گزینه «۳»

(مریم سپهری)

بررسی همه گزینه‌ها:

گزینه «۱»: دقت کنید گیرنده‌های فروسرخ مار زنگی، در جلو و زیر چشم‌ها (نه درون چشم‌ها) قرار دارند. این گیرنده‌ها در تشخیص محل شکار نقش دارند.

گزینه «۲»: چشم مرکب حشرات، دارای چندین واحد بینایی بوده که هر کدام، دارای یک عدسی می‌باشند. در نتیجه چشم زنبورعسل، دارای چندین عدسی (نه یک عدسی) می‌باشد.

گزینه «۳»: روی هریک از پاهای جلویی جیرجیرک، یک محفظه هوا وجود دارد که درون آن، گیرنده‌های مکانیکی صدا قرار گرفته‌اند.

گزینه «۴»: مطابق شکل ۱۶ فصل ۲ زیست ۲ دقت کنید که جسم یاخته‌ای گیرنده‌های شیمیایی موهای حسی مگس، درون پاهای (نه بدنهای بدن) جانور قرار دارند.

(مواس) (زیست‌شناسی ۲، صفحه‌های ۱۸ و ۳۳ تا ۳۵)

۴۴- گزینه «۱»

الف) قرنیه

ب) عدسی

ج) گیرنده‌های نوری

با توجه به شکل کتاب درسی، طول آکسون گیرنده‌های استوانه‌ای از طول آکسون گیرنده‌های مخروطی کوتاه‌تر است.

بررسی سایر گزینه‌ها:

گزینه «۲»: عضلات شعاعی در عنبیه قرار دارند که فاقد اتصال به عدسی است.

گزینه «۳»: در محل‌های اتصال صلبیه به قرنیه در قسمت‌های چپ و راست چشم، دو سوراخ قابل مشاهده است. اصلاً قرنیه با موشیمه در تماس قرار نمی‌گیرد.

گزینه «۴»: زلالیه مایعی شفاف بوده و فاقد هموگلوبین است.

(مواس) (زیست‌شناسی ۲، صفحه‌های ۲۳ تا ۲۵، ۲۸ و ۳۴)

۴۵- گزینه «۳»

موارد «الف»، «ج» و «د» به درستی بیان نشده‌اند.

بررسی همه موارد:

الف) گیرنده فشار، انتهای داربند یک نورون حسی است که درون پوششی چند لایه و انعطاف‌پذیر از نوع بافت پیوندی (نه پوششی) قرار دارد. گیرنده درد انتهای دندریت آزاد است.

ب) گیرنده‌های درد به آسیب بافتی پاسخ می‌دهند. آسیب بافتی در اثر عوامل مکانیکی مثل بریدگی، سرما یا گرمای شدید و برخی مواد شیمیایی مثل لاکتیک اسید ایجاد می‌شود. گیرنده‌های درد سازش پیدا نمی‌کنند.

ج) تعداد گیرنده‌های تماس در پوست بخش‌های گوناگون بدن متفاوت است و بخش‌هایی که تعداد گیرنده‌های بیشتری دارند، مانند نوک انگشتان و لب‌ها، حساس‌ترند.

د) گیرنده‌های دمایی در بخش‌هایی از درون بدن، مانند (نه فقط) برخی سیاهرگ‌های بزرگ و پوست جای دارند.

(مواس) (زیست‌شناسی ۲، صفحه‌های ۲۰ تا ۲۲)

۴۶- گزینه «۳»

تالاموس در پردازش اولیه اغلب اطلاعات حسی مؤثر است در حالی که هیپوتالاموس با تحریک ترشح هورمون ضدادراری باعث تنظیم فشار اسمزی خون (پلاسم) می‌شود و همچنین هیپوفیز پیشین با ترشح پرولاکتین در تنظیم آب بدن دخالت دارد. هیپوتالاموس و هیپوفیز در جلوی تالاموس‌ها قرار دارند.

بررسی سایر گزینه‌ها:

گزینه «۱»: مجرای بین بطن ۳ و ۴ از مجاور مغز میلی می‌گذرد که در جلوی مخچه قرار گرفته است.

گزینه «۲»: پل مغزی در مغز انسان پایین‌تر از اپی‌فیز قرار دارد.

گزینه «۴»: پل مغزی با تنظیم ترشح اشک و بزاق در دفاع غیراختصاصی نقش دارد و بصل‌النخاع مرکز انعکاس‌های بلع، سرفه و عطسه می‌باشد و در حرکت اپی‌گلوت در انعکاس‌هایی مانند بلع مؤثر است. پل مغزی بالاتر از بصل‌النخاع قرار دارد.

(زیست‌شناسی ۱، صفحه‌های ۲۰، ۲۷، ۳۶، ۶۱ و ۷۵)

(ترکیبی) (زیست‌شناسی ۲، صفحه‌های ۱۰ تا ۱۴، ۱۴، ۱۵، ۵۶ و ۵۷)

۴۷- گزینه «۴»

پاهای عقبی ملخ بزرگ‌ترین پاهای ملخ هستند. طبق شکل ۲۱ فصل اول یازدهم، رشته‌های عصبی که وارد پاهای عقبی ملخ می‌شوند از گره عصبی موجود در بخش سینه‌ای ملخ منشأ می‌گیرند. این گره نسبت به منافذ تنفس نایدیسی شکمی به مغز جانور نزدیک‌تر است.

بررسی سایر گزینه‌ها:

گزینه «۱»: مهره‌داران طناب عصبی پشتی دارند که بخش جلویی این طناب برجسته شده و مغز را تشکیل می‌دهد. توجه کنیم بعضی از مهره‌داران اسکلت غضروفی دارند که استخوان در اسکلت آن‌ها به کار نمی‌رود؛ مثل کوسه‌ماهی.

گزینه «۲»: طناب عصبی شکمی ملخ، واجد گره‌های متعدد در طول خود است. ولی طبق شکل ۲۱ فصل اول زیست یازدهم، این طناب عصبی متشکل از دو رشته عصبی است!

گزینه «۳»: در پلاناریا، مغز، طناب عصبی موازی و رشته‌های بین این دو طناب، بخش مرکزی دستگاه عصبی را تشکیل می‌دهند و رشته‌های جانبی متصل به طناب‌های عصبی موازی و رشته‌های متصل به مغز، بخش محیطی دستگاه عصبی را تشکیل می‌دهند.

(ترکیبی) (زیست‌شناسی ۱، صفحه ۴۵) (زیست‌شناسی ۲، صفحه‌های ۱۸ و ۵۲)

۴۸- گزینه «۱»

(علی داوری‌نیا)

فقط مورد الف صحیح است. دقت کنید که در حفظ هم‌ایستایی نورون‌ها علاوه بر گروهی از یاخته‌های پشتیبان خود نورون‌ها نیز نقش دارند. پس سوال درباره نورون‌ها و نوروگلیاها می‌باشد.

بررسی همه موارد:

الف) همه یاخته‌های زنده توانایی جابه‌جایی یون‌هایی با بار یکسان را از عرض غشا خود دارند. (همه یاخته‌ها پمپ سدیم پتاسیم داشته و یون‌های مثبت را جابه‌جا می‌کنند.)

ب) در نوروگلیاهای سازنده غلاف میلین و برخی نورون‌ها، هسته (حاوی بیشتر ماده وراثتی) در مجاورت غشا قرار دارد ولی همه نورون‌ها یا نوروگلیاها اینگونه نمی‌باشند.

ج) نورون‌ها دارای زوائد سیتوپلاسمی آکسون و دندریت هستند و درون آنها میتوکندری (اندامک تولیدکننده ATP) وجود دارد ولی دقت کنید که در همه یاخته‌های پشتیبان یا نوروگلیاها زوائد سیتوپلاسمی دیده نمی‌شود!

د) نوروگلیاها توانایی تبدیل اثر محرک به پیام الکتریکی را ندارند ولی خود نورون‌ها دارای این توانایی می‌باشند!

(ترکیبی) (زیست‌شناسی ۱، صفحه‌های ۱۰، ۱۲ و ۳۴) (زیست‌شناسی ۲، صفحه‌های ۶ تا ۸) (زیست‌شناسی ۳، صفحه‌های ۱۳ و ۵۱)

۴۹- گزینه «۲»

(علیرضا رضایی)

با توجه به شکل ۱۱ فصل ۲ زیست‌شناسی ۲، بخشی از انشعاب‌های تشکیل‌دهنده عصب تعادلی به قاعده گیرنده‌های تعادلی مرتبط می‌شود.

بررسی سایر گزینه‌ها:

گزینه «۱» و «۳»: با توجه به شکل ۱۱ فصل ۲ زیست‌شناسی ۲، هسته یاخته‌های پوششی اطراف گیرنده‌های تعادلی، فاصله کمی تا غشای پایه دارد؛ همچنین این گیرنده‌ها در لایه‌های یاخته‌هایی قرار دارند که به شکل سنگ‌فرشی دیده نمی‌شوند.

گزینه «۴»: لرزش درجه بیضی، سبب تحریک گیرنده‌های شنوایی می‌شود نه تعادلی.

(ترکیبی) (زیست‌شناسی ۱، صفحه ۱۵) (زیست‌شناسی ۲، صفحه‌های ۳۰ و ۳۱)

۵۰- گزینه «۲»

(مبین قربانی)

موارد (ب) و (د) صحیح هستند.

صورت سوال در ارتباط با گیرنده‌های مکانیکی خط جانبی می‌باشد.

بررسی همه موارد:

الف) خط جانبی در ماهی‌ها وجود دارد که در بخش پشتی آن ۲ باله بزرگ و در قسمت شکمی آن، دو باله کوچک زیرین و یک باله انتهایی قرار گرفته است. واضح است که تعداد باله‌ها در پایین، بیشتر از بالای محل قرارگیری این گیرنده‌ها است.

ب) از آنجا که در شکل ۱۵ فصل ۲ زیست ۲ مشاهده می‌شود، می‌توان دید که در محل هر گیرنده از سمت دم به سمت سر، رشته عصبی به عصب واقع در زیر خط جانبی ماهی اضافه می‌شود و موجب افزایش قطر آن می‌شود.

ج) گیرنده‌های مژک‌دار با دو رشته عصبی ارتباط دارند. با توجه به شکل کتاب درسی، ممکن نیست این یاخته‌ها با غشای پایه بافت پوششی در تماس مستقیم باشند.

د) خط جانبی از عقب، فاصله کمتری با دم نسبت به همین فاصله از سر جانور دارد.

(ترکیبی) (زیست‌شناسی ۱، صفحه‌های ۱۵ و ۱۶) (زیست‌شناسی ۲، صفحه‌های ۱۸، ۳۳ و ۵۲)

(نیمه شکورزاده)

هیپوکامپ	سامانه لیمبیک	هیپوتالاموس	تالاموس‌ها	مخچه	بصل النخاع	پل مغزی	مغز میانی	نیمکره‌های مخ	مغز
یکی از اجزای سامانه کناره‌ای	در ارتباط با قشر مخ تالاموس و هیپوتالاموس	بالای مغز میانی	بالای هیپوتالاموس	پشت مغز میانی	در ساقه مغز بالای نخاع جلوی مخچه	در ساقه مغز بالای بصل النخاع جلوی مخچه	در ساقه مغز بالای پل مغزی جلوی مخچه	بیشتر حجم مغز	محل قرارگیری
(۱) در تشکیل حافظه و یادگیری نقش دارد. (۲) پژوهشگران بر این باورند که اسبک مغز در ایجاد حافظه کوتاه‌مدت و تبدیل آن به حافظه بلندمدت نقش دارد.	(۱) سامانه کناره‌ای در حافظه و احساساتی مانند ترس، خشم و لذت نقش ایفا می‌کند. (۲) در تماس با تالاموس و هیپوتالاموس	دمای بدن، تعداد ضربان قلب، فشار خون، تشنگی، گرسنگی و خواب را تنظیم می‌کند.	(۱) محل پردازش اولیه و تقویت اطلاعات حساسی است. (۲) اغلب پیام‌های حساسی در تالاموس گرد هم می‌آیند.	(۱) مخچه مرکز تنظیم وضعیت بدن و تعادل آن است. (۲) به طور پیوسته از بخش‌های دیگر مغز نخاع و اندام‌های حساسی مانند گوش‌ها پیام را دریافت و بررسی می‌کند تا فعالیت ماهیچه‌ها و حرکات بدن در حالت‌های گوناگون را به کمک مغز نخاع هماهنگ کند.	(۱) فشار خون و ضربان قلب را تنظیم می‌کند. (۲) مرکز انعکاس‌هایی مانند عطسه، بلع، سرفه و مرکز اصلی تنظیم تنفس است.	در تنظیم فعالیت‌های مختلف از جمله تنفس، ترشح بزاق و اشک نقش دارد.	(۱) یاخته‌های عصبی آن در فعالیت‌های مختلف از جمله شنوایی بینایی و حرکت نقش دارند. (۲) برجستگی‌های چهارگانه بخشی از مغز میانی‌اند.	(۱) دو نیمکره با رشته‌های عصبی به هم متصل‌اند. رابط‌های سفیدرنگ به نام رابطه پینه‌ای و سه گوش از این رشته‌های عصبی‌اند. (۲) دو نیمکره به‌طور همزمان از همه بدن اطلاعات را دریافت و پردازش می‌کند تا بخش‌های مختلف بدن به‌طور هماهنگ فعالیت کنند. (۳) نیمکره راست در عبارت‌های هندی و نیمکره چپ در توانایی در ریاضیات و استدلال مربوط‌اند.	ویژگی‌ها

گونه‌زایی

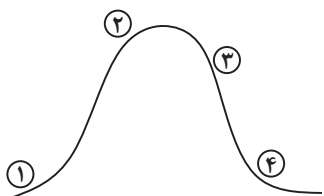
دگر میهنی	هم میهنی	
✓	✓	تولید زاده‌های زایا و زیستا
✓	✓	جدایی تولیدمثلی
✓	✗	جدایی جغرافیایی
✓	✓	جهش، نوترکیبی، انتخاب طبیعی و رانش
✗	✓	چندلادی شدن

شواهد تغییر گونه‌ها

مطالعات مولکولی	تشریح مقایسه‌ای	سنگواره‌ها	
✓	✓	✗	تشخیص خویشاوندی
✓	✗	✗	پی بردن به تاریخچه تغییر
✗	✓	✗	مشاهده تغییر گونه‌ها
✗	✓	✗	بررسی ساختار بدنی گونه‌ها
✗	✗	✓	می‌توان عمر آن را تعیین کرد.
✗	✗	✓	به کمک آن به‌وجود نوع جانداران در زمان‌های مختلف پی می‌برند.
✗	✗	✓	می‌توان به شیوه زندگی در زمان‌های مختلف پی برد.

جهش دگر معنا	جهش خاموش	جهش بی معنا	جهش اضافه	جهش حذف	جابه جایی	مضاعف شدگی	واژگونی	حذف	نوع جهش
جهش کوچک	جهش کوچک	جهش کوچک	جهش کوچک	جهش کوچک	ناهنجاری ساختاری	ناهنجاری ساختاری	ناهنجاری ساختاری	ناهنجاری ساختاری	تغییر در نوع زنجیره پلی پپتیدی
✓	×	✓	✓	✓	–	–	–	–	تعداد نوکلئوتیدهایی که تغییر می دهد
یک	یک	یک	یک یا چند	یک یا چند	چند	چند	چند	چند	موجب تغییر در خواندن می شود.
×	×	×	✓	✓	–	–	–	–	غالباً موجب مرگ می شود.
–	–	–	–	–	×	×	×	✓	طی آن قسمتی از فام تن به فام تن غیر همتا منتقل می شود.
×	×	×	×	×	✓	×	×	×	طی آن قسمتی از فام تن به فام تن های همتا منتقل می شود.
×	×	×	×	×	×	✓	×	×	طی آن قسمتی از فام تن به بخش دیگری از همان فام تن منتقل می شود.
×	×	×	×	×	✓	✓	✓	✓	می توان با کاربوتیپ آن را شناسایی کرد.

پتانسیل عمل



۱	۲	۳	۴	
باز	باز	باز	باز	کانال نشستی سدیم
باز	باز	باز	باز	کانال نشستی پتاسیم
بسته (در حال باز شدن)	باز	بسته می شود	بسته می ماند	کانال دریچه دار سدیمی
بسته می ماند	بسته می ماند	باز	بسته می شود	کانال دریچه داری پتاسیمی
فعال	فعال	فعال	فعال	فعالیت پمپ سدیم پتاسیم

گیرنده شنوایی گوش	گیرنده تعادلی بخش دهلیزی گوش	گیرنده خط جانبی ماهی	
مکانیکی	مکانیکی	مکانیکی	نوع گیرنده
پوششی	پوششی	پوششی	نوع یاخته
بخشی از مژک ها به طور در آن فرو رفته است.	مژک ها به طور کامل در آن فرو رفته	مژک ها به طور کامل در آن فرو رفته اند.	وضعیت ماده ژلاتینی
اندازه های کاملاً مساوی	اندازه های تقریباً مساوی	اندازه های نامساوی بلندترین به سمت دم کوتاه ترین به سمت سر	وضعیت مژک ها
مرکزی	مرکزی	هسته به سمت قاعده یاخته مایل شده است.	وضعیت هسته یاخته

فیزیک ۳

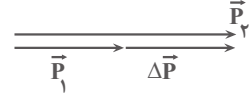
۵۱- گزینه «۱»

(امیرمسین برادران)

بردار تکانه با بردار سرعت هم جهت است هم چنین بردار تغییرات تکانه با بردار نیروی خالص متوسط هم جهت است.

$$\vec{F}_{av} = \frac{\Delta \vec{p}}{\Delta t}$$

بنابراین با توجه به اطلاعات سؤال بردار تغییر تکانه با بردار تکانه در لحظه t_1 هم جهت است که تنها در حالتی که بردارهای \vec{P}_1 و \vec{P}_2 هم جهت و $|\vec{P}_2| > |\vec{P}_1|$ باشد. این دو بردار (بردار تغییر تکانه و \vec{P}_1) هم جهت اند.



از طرفی چون $p = mv$ ، پس تندی در لحظه t_2 بزرگتر از تندی در لحظه t_1 است. (رینامیک) (فیزیک ۳، صفحه‌های ۳۴ تا ۳۶)

۵۲- گزینه «۳»

(معدری فتاحی)

گام اول ← ابتدا تکانه را قبل از برخورد و بعد از برخورد حساب می‌کنیم.

$$v_1 = 90 \frac{\text{km}}{\text{h}} \div 3.6 = 25 \frac{\text{m}}{\text{s}} \quad m = 2 \text{kg}$$

$$p_1 = mv_1 = 0.2 \times 25 = 5 \text{kg} \cdot \frac{\text{m}}{\text{s}}$$

$$v_2 = -54 \frac{\text{km}}{\text{h}} \div 3.6 = -15 \frac{\text{m}}{\text{s}} \quad \text{بعد از برخورد جهت حرکت برعکس می‌شود}$$

$$p_2 = mv_2 \rightarrow p_2 = 0.2 \times (-15) = -3 \text{kg} \cdot \frac{\text{m}}{\text{s}}$$

$$\Delta p = p_2 - p_1 \rightarrow \Delta p = -3 - 5 = -8 \rightarrow |\Delta p| = 8 \text{kg} \cdot \frac{\text{m}}{\text{s}}$$

گام دوم ← با توجه به رابطه (۱۱-۲) کتاب

$$F_{av} = \frac{\Delta p}{\Delta t} \quad \Delta t = 20 \text{ms}$$

$$F_{av} = \frac{-8}{20 \times 10^{-3}} = -400 \text{N} \rightarrow |F_{av}| = 400 \text{N}$$

(رینامیک) (فیزیک ۳، صفحه‌های ۳۴ تا ۳۶)

۵۳- گزینه «۴»

(مسین عبودی نژاد)

با توجه به رابطه مقابل داریم:

$$K = \frac{1}{2}mv^2 \quad p = mv \rightarrow K = \frac{1}{2}pv$$

$$\frac{K_B}{K_A} = \frac{p_B}{p_A} \times \frac{v_B}{v_A} = \frac{p_B}{p_A} \times \frac{v_A}{\frac{1}{2}p_B} = 2 \times \frac{v_A}{v_A} = 1/2$$

(رینامیک) (فیزیک ۳، صفحه ۴۵، مثال ۱۱-۲)

۵۴- گزینه «۱»

(معدری شریفی)

مساحت سطح زیر نمودار روی سوال $F-t$ برابر با تغییرات تکانه جسم است.

$$\Delta p = S = \frac{(20+8) \times 10}{2} = 140 \text{kg} \cdot \frac{\text{m}}{\text{s}}$$

$$F_{av} = \frac{\Delta p}{\Delta t} = \frac{140}{20} = 7 \text{N}$$

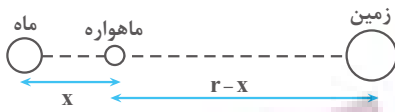
(رینامیک) (فیزیک ۳، صفحه‌های ۳۴ تا ۳۶)

۵۵- گزینه «۱»

(معدری فتاحی)

به ماهواره دو نیروی گرانشی وارد می‌شود یکی از طرف زمین و دیگری از طرف ماه. طبق شکل زیر برآیند این دو نیرو باید صفر باشد.

$$(r = 4 \times 10^5 \text{km} \text{ فاصله زمین تا ماه})$$



زمین به ماهواره $F =$ ماه به ماهواره F : شرط تعادل ماهواره

$$\rightarrow G \frac{m_{\text{ماه}} \times m_{\text{ماهوره}}}{x^2} = G \frac{m_{\text{زمین}} \times m_{\text{ماهوره}}}{(r-x)^2}$$

$$\rightarrow \frac{m_{\text{ماه}}}{x^2} = \frac{m_{\text{زمین}}}{(r-x)^2} \quad \frac{m_{\text{زمین}}}{r} \cong 11m_{\text{ماه}} \quad r = 4 \times 10^5 \text{km}$$

$$\frac{m_{\text{ماه}}}{x^2} = \frac{11m_{\text{ماه}}}{(r-x)^2} \rightarrow \frac{1}{x^2} = \frac{11}{(r-x)^2} \rightarrow \frac{1}{x} = \frac{\sqrt{11}}{r-x} \rightarrow \frac{1}{10}r = \frac{1}{x}$$

طبق شکل معلوم است که فاصله زمین تا ماهواره برابر $\frac{9}{10}r$ خواهد بود، پس:

$$\text{گزینه «۱»}: \text{فاصله زمین تا ماهواره} = \frac{9}{10}r = \frac{9}{10} \times 4 \times 10^5 = 3.6 \times 10^5 \text{km}$$

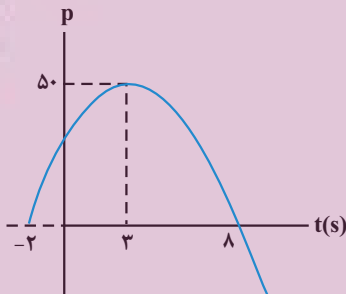
(رینامیک) (فیزیک ۳، صفحه‌های ۳۶ تا ۳۸)

۵۶- گزینه «۱»

آزمون وی ای پی

(امیرمسین برادران)

ابتدا معادله سهمی را به دست می‌آوریم، با توجه به اینکه رأس سهمی و یکی از ریشه‌ها مشخص است. داریم: (فاصله ریشه‌ها تا رأس سهمی برابر است.)



$$p = b(t+2)(t-8) \quad \begin{matrix} t=3s \\ p=5 \frac{\text{kg} \cdot \text{m}}{\text{s}} \end{matrix}$$

$$5 = b \times 5 \times (-5)$$

$$\Rightarrow b = -2 \Rightarrow p = -2(t^2 - 6t - 16)$$

$$\Rightarrow p = -2t^2 + 12t + 32$$

اکنون با توجه به رابطه نیروی خالص متوسط خواهیم داشت:

$$F_{av} = \frac{\Delta p}{\Delta t} \quad p = -2t^2 + 12t + 32 \rightarrow$$

$$F_{av} = \frac{(-2t_2^2 + 12t_2 + 32) - (-2t_1^2 + 12t_1 + 32)}{t_2 - t_1}$$

$$\Rightarrow F_{av} = \frac{-2(t_2^2 - t_1^2) + 12(t_2 - t_1)}{t_2 - t_1} \Rightarrow F_{av} = -2(t_2 + t_1) + 12$$

اکنون با توجه به گزینه‌ها، نیروی خالص را به دست می‌آوریم:

گزینه «۱»: $F_{av} = -2(4/5 + 9/5) + 12 = -16 \text{N}$

گزینه «۲»: $F_{av} = -2(4+8) + 12 = -12 \text{N}$

گزینه «۳»: $F_{av} = -2(1+10) + 12 = -10 \text{N}$

گزینه «۴»: $F_{av} = -2(2/5 + 10/5) + 12 = -14 \text{N}$

بنابراین در گزینه «۱» اندازه نیروی خالص متوسط بزرگتر است.

(رینامیک) (فیزیک ۳، صفحه‌های ۳۴ تا ۳۶)

۵۷- گزینه «۲»

(مقوی شریفی)

برای محاسبه شتاب گرانش برحسب شعاع سیاره و چگالی می توان از روابط زیر استفاده کرد:

$$g = \frac{GM}{R^2} = \frac{\rho \cdot \frac{4}{3}\pi R^3 \cdot g}{R^2} \Rightarrow \rho = \frac{3}{4\pi R} \frac{g}{R} \quad \text{①}$$

$$W = mg \Rightarrow \frac{W_{\text{سیاره}}}{W_{\text{زمین}}} = \frac{g_{\text{سیاره}}}{g_{\text{زمین}}} \quad \text{②}$$

$$\text{برابر ① و ②} \Rightarrow \frac{W_{\text{سیاره}}}{W_{\text{زمین}}} = \frac{R_{\text{سیاره}}}{R_{\text{زمین}}} \times \frac{\rho_{\text{سیاره}}}{\rho_{\text{زمین}}} = 2 \times 2 = 4$$

(رینامیک) (فیزیک ۳، صفحه های ۳۶ تا ۳۹)

۵۸- گزینه «۳»

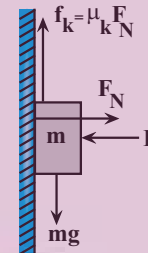
(امیرمسین برادران)

چون ابتدا جسم با تندی ثابت در حال حرکت است، بنابراین نیروی اصطکاک جنبشی با نیروی وزن برابر است.

$$\mu_k F = mg \Rightarrow \frac{g=10 \frac{N}{kg}}{F=20N, \mu_k=\frac{3}{4}} \times 20 = m \times 10 \Rightarrow m = \frac{3}{2} kg$$

با افزایش نیرو با آهنگ $0.5 \frac{N}{s}$ ، نیروی خالص وارد بر جسم با آهنگ $0.5 \times \mu_k$

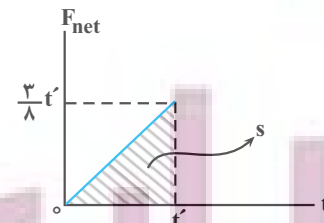
افزایش می یابد. اگر فرض کنیم در لحظه $t=0$ نیروی افقی شروع به افزایش کند، این صورت نمودار نیروی خالص برحسب زمان مطابق شکل زیر می شود. با در نظر گرفتن جهت مثبت به سمت بالا داریم:



$$F_{net} = f_k - mg \Rightarrow \mu_k F_N - mg = \frac{3}{4} F_N - 15N$$

$$F_{net} = \frac{3}{4} \times \frac{1}{2} \times t = \frac{3}{8} t$$

می دانیم مساحت محصور بین نمودار نیروی خالص برحسب زمان و محور زمان برابر تغییر مکان است.



$$\Delta p = S = \frac{1}{2} \times \frac{3}{8} t' \times t' \Rightarrow \Delta p = \frac{3}{16} t'^2$$

$$P_1 = mv_1, m=1/5 kg \Rightarrow \frac{3}{16} t'^2 = (0 + 1/5 \times 0/18) \Rightarrow P_2=0, v_1=-18 \frac{cm}{s} = -0.18 \frac{m}{s}$$

$$\Rightarrow t'^2 = 1/44 \Rightarrow t' = 1/22 s$$

(رینامیک) (فیزیک ۳، صفحه های ۳۴ تا ۳۶)

۵۹- گزینه «۴»

(امیرمسین برادران)

شتاب گرانش در فاصله h از سطح زمین برابر است با:

$$gh = G \frac{M_e}{(R_e + h)^2}$$

بنابراین با توجه به دو شتاب گرانش مشخص شده در نمودار داریم:

$$\frac{g_1}{\frac{1}{4} g_1} = \frac{(R_e + h_2)^2}{(R_e + h_1)^2} \Rightarrow \frac{h_2 = h_1 + R_e}{R_e + h_1} = \frac{49}{16} = \left(\frac{7R_e + h_1}{R_e + h_1}\right)^2$$

$$\Rightarrow \frac{7}{4} = \frac{7R_e + h_1}{R_e + h_1} \Rightarrow 7R_e + 7h_1 = 4R_e + 4h_1$$

$$\Rightarrow h_1 = \frac{R_e}{3}$$

$$g_1 = G \frac{M_e}{R_e^2} \Rightarrow g = G \frac{M_e}{R_e^2} \Rightarrow g = g_1 \left(\frac{R_e}{R_e + h_1}\right)^2$$

برابر است با:

$$\frac{g_1}{g_0} = \left(\frac{R_e}{R_e + h_1}\right)^2 \Rightarrow \frac{h_1 = \frac{R_e}{3}}{g_0} = \frac{9}{16}$$

(رینامیک) (فیزیک ۳، صفحه های ۳۶ تا ۳۸)

۶۰- گزینه «۴»

(علیرضا آزی)

$$T = 2\pi \sqrt{\frac{m}{k}} \Rightarrow T_1^2 = 4\pi^2 \frac{m_1}{k_1} \Rightarrow T_1^2 = 4\pi^2 \times \frac{0.8}{200}$$

$$= 4 \times 10 \times \frac{0.8}{200} = 0.16 \Rightarrow T_1 = 0.4 s$$

$$T_2^2 = 4\pi^2 \times \frac{0.9}{100} = 4 \times 10 \times \frac{0.9}{100} = 0.36 \Rightarrow T_2 = 0.6 s$$

$$n_1 = \frac{t}{0.4}, n_2 = \frac{t}{0.6}$$

$$n_1 - n_2 = 10 \Rightarrow \frac{t}{0.4} - \frac{t}{0.6} = 10 \Rightarrow t = 12 s$$

(نوسان و امواج) (فیزیک ۳، صفحه ۵۷)

۶۱- گزینه «۲» ازومون وی ای بی

(امسان مطلبی)

ابتدا به کمک رابطه مکان و شتاب نوسانگر هماهنگ ساده، بسامد زاویه ای نوسانگر را به دست می آوریم:

$$|a| = \omega^2 x \Rightarrow \frac{\pi^2}{3} = \omega^2 \times 0.03 \Rightarrow \omega^2 = \frac{\pi^2}{0.09}$$

$$\rightarrow \omega = \frac{\pi}{0.3} = \frac{10\pi}{3} \text{ Rad/s}$$

در لحظه عبور نوسانگر از نقطه تعادل تندی نوسانگر بیشینه است، بنابراین داریم:

$$A = \frac{L}{\gamma} = 6 \text{ cm}$$

$$|V_{max}| = A\omega = 0.06 \times \frac{10\pi}{3} = 0.2\pi \frac{m}{s}$$

(نوسان و امواج) (فیزیک ۳، صفحه های ۵۵ تا ۵۷)

۶۲- گزینه «۱»

(امسان مطلبی)

برای به دست آوردن نمودار $(x-t)$ نوسانگر هماهنگ ساده باید دوره تناوب (T) و دامنه نوسان (A) مشخص گردد. با توجه به میزان باز و بسته شدن فلز داریم:

$$L \text{ پارۀ نوسان} = 54 - 42 = 12 \text{ cm}$$

$$\rightarrow A \text{ دامنه نوسان} = \frac{L}{2} = \frac{12}{2} = 6 \text{ cm}$$

(رینامیک) (فیزیک ۳، صفحه های ۳۴ تا ۳۶)

(غلامرضا موی)

۶۶- گزینه «۱»

با نوسان آونگ (۲) تمامی آونگ‌ها به نوسان در می‌آیند. ولی آونگ شماره (۴) به دلیل یکسان بودن دوره‌اش با آونگ (۲) و رخ دادن پدیدهٔ تشدید، انرژی بیش‌تری به آن منتقل می‌شود و تعداد نوسان‌های آن بیشتر می‌شود و بنابراین پس از مدت طولانی‌تری خواهد ایستاد.

(نوسان و امواج) (فیزیک ۳، صفحه‌های ۶۰ و ۶۱)

۶۷- گزینه «۳»

(پژمان برزرا)

در حرکت نوسانی هماهنگ ساده، دامنه برابر با نصف طول پاره‌خط است، بنابراین داریم:

$$A = \frac{6 \text{ cm}}{2} = 3 \text{ cm} \quad \text{و سرعت ماکزیمم را طبق رابطه } V_{\max} = A\omega \text{ به دست می‌آوریم:}$$

$$V_{\max} = A\omega = A \times \frac{2\pi}{T} = 3 \times \frac{2\pi}{0.2} = 30\pi \frac{\text{cm}}{\text{s}}$$

و طبق رابطه انرژی مکانیکی داریم:

$$U = \Delta K \Rightarrow E = K + U \Rightarrow E = K + \Delta K \Rightarrow E = 9K$$

می‌دانیم $E = K_{\max}$ برابر است.

$$K_{\max} = 9k$$

$$\frac{1}{2} m v_{\max}^2 = 9 \times \frac{1}{2} m v^2$$

$$v^2 = \frac{v_{\max}^2}{9} \Rightarrow v = \frac{v_{\max}}{3} = \frac{30\pi}{3} = 10\pi \frac{\text{cm}}{\text{s}}$$

$$\Rightarrow v = \frac{\pi \text{ m}}{10 \text{ s}} \quad \text{برحسب متر بر ثانیه خواسته شده است.}$$

پس گزینه «۳» صحیح می‌باشد.

(نوسان و امواج) (فیزیک ۳، صفحه‌های ۵۸ و ۵۹)

۶۸- گزینه «۱»

(میتهم برناتی)

انرژی پتانسیل نوسانگر در انتهای مسیر، بیشینه بوده و برابر با بیشینه انرژی جنبشی نوسانگر است و می‌توان گفت

$$K_{\max} = U_{\max} = 4 \times 10^{-3} \text{ J}$$

$$K_{\max} = 4 \times 10^{-3} \text{ J} \quad \begin{matrix} K = \frac{1}{2} m v^2 \\ \frac{1}{2} m v_{\max}^2 = 4 \times 10^{-3} \text{ J} \end{matrix} \Rightarrow \frac{1}{2} m v_{\max}^2 = 4 \times 10^{-3} \text{ J}$$

$$\Rightarrow m v_{\max}^2 = 8 \times 10^{-3} \text{ J} \quad \begin{matrix} P = mv \\ P_{\max} = m \cdot v_{\max} = 4 \times 10^{-3} \frac{\text{kg} \cdot \text{m}}{\text{s}} \end{matrix}$$

$$\underbrace{(m v_{\max})}_{P_{\max}} v_{\max} = 8 \times 10^{-3}$$

$$\Rightarrow 4 \times 10^{-3} \times v_{\max} = 8 \times 10^{-3} \Rightarrow v_{\max} = 2 \frac{\text{m}}{\text{s}}$$

تندی نوسانگر هنگام عبور از مرکز نوسان برابر v_{\max} است.

(نوسان و امواج) (فیزیک ۳، صفحه‌های ۵۸ و ۵۹)

۶۹- گزینه «۳»

(مسین العوی)

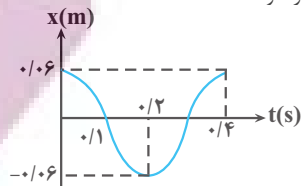
وزنه بین دو طول 78 cm و 38 cm فنر، نوسان می‌کند یعنی اندازه پاره‌خط نوسان

40 cm است. مرکز نوسان در وسط پاره‌خط نوسان یعنی در طول 58 cm فنر است.

دوره تناوب سامانه جرم - فنر به صورت زیر قابل محاسبه است:

$$T = 2\pi \sqrt{\frac{m}{k}} = 2 \times 2 \times \sqrt{\frac{0.4}{90}} = 6 \times \frac{2}{30} = 0.4 \text{ s}$$

بنابراین نمودار به شکل زیر خواهد شد.



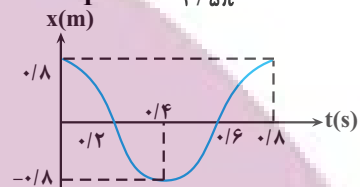
(نوسان و امواج) (فیزیک ۳، صفحه‌های ۵۵ تا ۵۷)

۶۳- گزینه «۴»

(امسان مطلبی)

ابتدا با به دست آوردن دوره تناوب نوسانگر، نمودار مکان - زمان آن را رسم می‌کنیم:

$$\omega = 2 / \Delta t \frac{\text{rad}}{\text{s}} \rightarrow \omega = \frac{2\pi}{T} \rightarrow T = \frac{2\pi}{2 / \Delta t} = 0.4 \text{ s}$$



با توجه به نمودار مکان - زمان این نوسانگر، در بازه زمانی $t = 0.6 \text{ s}$ تا $t = 0.8 \text{ s}$ ، شتاب نوسانگر منفی یعنی در خلاف جهت X و سرعت نوسانگر مثبت یعنی در جهت محور X است.

(نوسان و امواج) (فیزیک ۳، صفحه‌های ۵۵ و ۵۶)

۶۴- گزینه «۳»

(امیرمسین برادران)

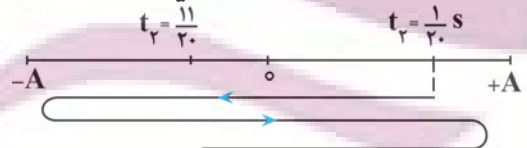
ابتدا بسامد زاویه‌ای حرکت را به دست می‌آوریم:

$$\omega = \sqrt{\frac{k}{m}} = \frac{k=200 \text{ N}}{m=800 \text{ g}=0.8 \text{ kg}} \rightarrow \omega = \frac{200}{\sqrt{0.8}} = \frac{100}{\sqrt{0.2}} = 100\sqrt{5} \quad \pi = \sqrt{10} \rightarrow$$

$$\omega = \Delta \pi \frac{\text{rad}}{\text{s}}$$

با به دست آوردن دوره تناوب حرکت مکان متحرک را در ابتدا و انتهای بازه زمانی مشخص می‌کنیم:

$$T = \frac{2\pi}{\omega} = \frac{2\pi}{\Delta \pi} \rightarrow T = \frac{2}{\Delta} = 0.4 \text{ s}$$



در بازه‌های زمانی که متحرک در حال دور شدن از مرکز نوسان است، بردار مکان و سرعت

با یکدیگر هم‌جهت‌اند. بنابراین در هر دوره $\frac{T}{2}$ ثانیه دو بردار هم‌جهت‌اند. پس از یک دور

کامل، در بازه زمانی که متحرک از مکان اولیه تا مبدأ مکان جابه‌جا می‌شود، حرکت تندشونده است، بنابراین مجموع زمانی که حرکت متحرک کندشونده است برابر است با:

$$\Delta t = \frac{T}{2} + \frac{T}{4} = \frac{1}{2} + \frac{1}{4} = \frac{3}{4} T = 0.3 \text{ s} \rightarrow \Delta t = 0.2 + 0.1 - 0.05 = 0.25 \text{ s}$$

(نوسان و امواج) (فیزیک ۳، صفحه‌های ۵۵ تا ۵۷)

۶۵- گزینه «۳»

(عباس موتابی)

$$T = 2\pi \sqrt{\frac{\ell}{g}} \Rightarrow 1/8 = 2\pi \sqrt{\frac{\ell}{g}}$$

$$1/8 = 2\pi \sqrt{\frac{\ell}{g}} \Rightarrow 1/8 = 2\sqrt{\ell} \Rightarrow \sqrt{\ell} = 0.19$$

$$\ell = 0.181 \text{ m} \Rightarrow \ell = 18.1 \text{ cm}$$

(نوسان و امواج) (فیزیک ۳، صفحه ۵۹)

نکته: در رابطه کولن، اگر بارها بر حسب میکروکولن و فاصله بر حسب سانتی متر داده شد، می توان $k = 90$ قرار داد و بارها و فاصله بین دو بار بدون تبدیل واحد در رابطه استفاده

$$\delta_0 = \frac{90 |q_A| |q_B|}{81} \text{ شود.}$$

$$|q_A| |q_B| = 45 \text{ (رابطه ۱)}$$

از طرفی با بستن کلید بین ۲ گوی تماس صورت می گیرد.

$$\frac{q_A + q_B}{2} = 2\mu C$$

$$q_A + q_B = 4\mu C \text{ (رابطه ۲)}$$

$$\begin{cases} |q_A| |q_B| = 45 \\ q_A + q_B = 4\mu C \end{cases} \xrightarrow{\text{از حل ۲ رابطه ۱ و ۲}} \begin{cases} q_A = 9\mu C \text{ یا } -5\mu C \\ q_B = -5\mu C \text{ یا } 9\mu C \end{cases}$$

با توجه به حرکت الکترون از گوی A به گوی B. $q_B = 9\mu C, q_A = -5\mu C$

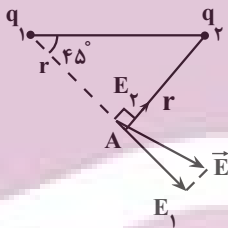
$$\frac{q_B}{q_A} = \frac{9}{-5} = -\frac{9}{5}$$

(الکتریسیته ساکن) (فیزیک ۳، صفحه های ۵ تا ۶)

(زهره آقاممردی)

گزینه ۲

با توجه به جهت و اندازه میدان خالص، میدان های الکتریکی حاصل از بارهای q_1 و q_2 در نقطه A، به صورت شکل زیر خواهد شد. از طرفی با توجه به اینکه مثلث تشکیل شده توسط بارهای نقطه ای و نقطه A متساوی الساقین است، فاصله نقطه A از بارهای q_1 و q_2 یکسان است. با توجه به رابطه میدان الکتریکی حاصل از بار نقطه ای q، داریم:



$$E = k \frac{|q|}{r^2} \rightarrow k \frac{|q_1|}{r_1^2} = k \frac{|q_2|}{r_2^2} \rightarrow r_1 = r_2 \rightarrow E_1 > E_2$$

تراکم خطوط میدان اطراف q_1 بیشتر است $|q_1| > |q_2|$ چون میدان E_1 از بار q_1 خارج شده است پس علامت q_1 مثبت است. میدان E_2 به بار q_2 داخل شده است، پس بار q_2 منفی است. یعنی خطوط میدان باید از بار q_1 خارج و به بار q_2 داخل شوند.

با توجه به این توضیحات، گزینه ۲ خطوط میدان الکتریکی اطراف بار q_1 و q_2 را به درستی نشان می دهد.

(الکتریسیته ساکن) (فیزیک ۳، صفحه های ۱۶ تا ۱۸)

(زهره آقاممردی)

گزینه ۲

با استفاده از رابطه میدان الکتریکی بار نقطه ای به صورت مقایسه ای می توانیم میدان الکتریکی را در فاصله $r = 45 \text{ cm}$ از بار q بدست آوریم:

بنابراین وقتی طول فنر به 61 cm برسد، فاصله نوسانگر از مرکز نوسان 3 cm خواهد بود.

$$k = 3 / 5 \frac{N}{cm} = 350 \frac{N}{m} \text{ می دانیم. (} x = 3 \text{ cm)}$$

$$\omega = \sqrt{\frac{k}{m}} = \sqrt{\frac{350}{0.7}} = \sqrt{500} \frac{\text{rad}}{\text{s}}$$

$$|a| = |\omega^2 x| = 500 \times 0.03 = 15 \frac{\text{m}}{\text{s}^2}$$

(نوسان و امواج) (فیزیک ۳، صفحه ۵۷)

(مهمرامین سلمان)

گزینه ۴

الف) نادرست ← موج مکانیکی برای انتشار به محیط مادی نیاز دارد.

ب) درست

پ) نادرست ← صوت، موجی مکانیکی است.

ت) نادرست ← به رغم متفاوت بودن منشأ امواج مکانیکی و الکترومغناطیسی همگی آن ها مشخصه های یکسانی دارند و رفتار آن ها از قاعده های کلی پیروی می کند.

(نوسان و امواج) (فیزیک ۳، صفحه های ۶۱ و ۶۲)

فیزیک ۲

(ماهان صفری)

گزینه ۳

مرحله اول) پارچه ابریشمی در اثر مالش با میله چوبی بار مثبت می گیرد.

مرحله دوم) پارچه کتان در اثر مالش با شیشه بار منفی می گیرد.

(الکتریسیته ساکن) (فیزیک ۲، صفحه ۴)

(عطاله شارآبار)

گزینه ۴

$$\sqrt{\frac{q_3}{q_1}} = \frac{60}{30} \rightarrow \frac{q_3}{q_1} = 4$$

$$q_3 = 36\mu C$$

$$\sqrt{\frac{|q_3|}{|q_2|}} = \frac{90}{30} \rightarrow \frac{36}{|q_2|} = 9$$

$$|q_2| = 4\mu C$$

$$q_2 = -4\mu C$$

ازمون وی ای بی

در حالت دوم داریم:

$$F_{12} = 90 \times \frac{9 \times 4}{900} = 3 / 6 \text{ N}$$

$$F_{32} = 90 \times \frac{36 \times 4}{900} = 14 / 4 \text{ N}$$

$$\vec{F}_{12} = -3 / 6 \vec{i} - 14 / 4 \vec{j}$$

(الکتریسیته ساکن) (فیزیک ۲، صفحه های ۸ و ۹)

(مرتضی مرتضوی)

گزینه ۲

$$F = \frac{k |q_A| |q_B|}{r^2}$$

اکنون می‌توانیم بار q_2 را به دست آوریم:

$$E_2 = k \frac{|q_2|}{r_2^2} \quad \frac{E_2 = 900\sqrt{2}N}{r_2 = (10\sqrt{2})\sqrt{2}cm = 20cm}$$

$$900\sqrt{2} = 9 \times 10^9 \times \frac{|q_2| \times 10^{-9}}{4 \times 10^{-2}} \rightarrow |q_2| = 4\sqrt{2}nC$$

چون میدان الکتریکی به بار منفی داخل می‌شود، با توجه به جهت \vec{E}_2 علامت بار q_2

$$q_2 = -4\sqrt{2}nC \quad \text{منفی است.}$$

(الکتربسته ساکن) (فیزیک ۲، صفحه‌های ۱۳ تا ۱۶)

۷۷- گزینه «۲»

(معدی کیوانلو)

$$\Delta V = \frac{\Delta U}{q}$$

$$V_A - V_B = \frac{U_A - U_B}{q} = \frac{3 \times 10^{-5} - (-7 \times 10^{-5})}{-2 \times 10^{-6}} = -50V$$

(الکتربسته ساکن) (فیزیک ۲، صفحه ۲۲)

۷۸- گزینه «۱»

(سعید شرق)

از فصل کار و انرژی می‌دانیم:

$$\Delta U = -\Delta K$$

$$\Delta U = K_1 - K_2 \quad K_2 = 0 \quad \text{الکترون در نهایت متوقف می‌شود یعنی}$$

$$\Delta U = K_1 \Rightarrow \begin{cases} K_1 = \frac{1}{2}mv_1^2 = \frac{1}{2} \times 9/1 \times 10^{-31} \times (4 \times 10^6)^2 \\ \Delta U = K_1 \Rightarrow 8 \times 9/1 \times 10^{-19} \\ \Delta U = -W_E = -Eqd \cos \theta \end{cases}$$

برای محاسبه میدان الکتریکی بین صفحات برای جابه‌جایی از صفحه مثبت تا منفی داریم:

$$\Delta V = -Ed \cos \theta \Rightarrow -91 = -E \times 0.01 \times \cos 60^\circ \Rightarrow E = 9100 \frac{N}{C}$$

از رابطه قبل داریم:

$$\Delta U = K_1$$

$$-Eqd \cos \theta = 8 \times 9/1 \times 10^{-19}$$

$$-9100 \times (-1/6 \times 10^{-19}) \times d \times \cos 60^\circ = 8 \times 9/1 \times 10^{-19}$$

$$\Rightarrow d = 0.005m = 5mm$$

(الکتربسته ساکن) (فیزیک ۲، صفحه‌های ۲۰ تا ۲۳)

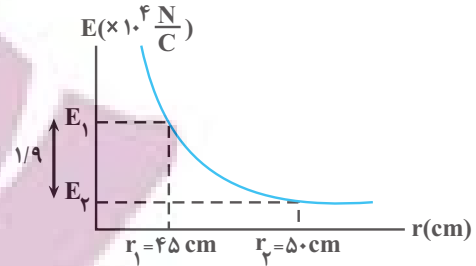
۷۹- گزینه «۱»

(میتنی کلونیان)

ابتدا طول ضلع AC را بر حسب r به صورت زیر به دست می‌آوریم:

$$\sin 37^\circ = \frac{CA}{BC} = \cos 53^\circ = 0.6$$

$$\Rightarrow CA = 0.6BC \rightarrow r_{CA} = 0.6r_{BC} = 0.6r$$



$$E = R \frac{|q|}{r^2} \rightarrow \frac{E_2}{E_1} = \left(\frac{r_1}{r_2}\right)^2$$

$$\frac{r_1 = 4.5cm}{r_2 = 5.0cm} \rightarrow \frac{E_2}{E_1} = \left(\frac{4.5}{5.0}\right)^2 = 0.81(*)$$

از طرفی طبق نمودار داریم:

$$E_1 - E_2 = 1/9 \times 10^4 \frac{N}{C} (*) \rightarrow E_1 - 0.81E_1 = 1/9 \times 10^4 \rightarrow E_1 = 1.5 \frac{N}{C}$$

وقتی بار نقطه‌ای $q' = 25\mu C$ را در فاصله $4.5cm$ از بار q که میدان الکتریکی در آن

نقطه برابر $1.5 \frac{N}{C}$ است، قرار دهیم، نیروی وارد بر آن برابر است با:

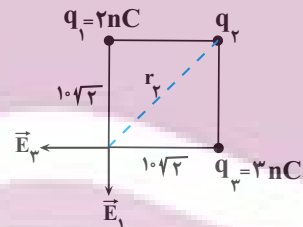
$$F = E_1 |q'| \quad \frac{E_1 = 1.5 \frac{N}{C}}{q' = 25\mu C = 25 \times 10^{-6}} \rightarrow F = 1.5 \times 25 \times 10^{-6} = 2/5N$$

(الکتربسته ساکن) (فیزیک ۲، صفحه‌های ۱۰ تا ۱۲)

۷۶- گزینه «۴»

(زهرا آقاممیری)

ابتدا میدان الکتریکی حاصل از بارهای q_1 و q_3 را در نقطه A محاسبه می‌کنیم.



$$E = k \frac{|q|}{r^2} \rightarrow E_1 = k \frac{|q_1|}{r_1^2} \quad \frac{q_1 = 2nC = 2 \times 10^{-9}C}{r_1 = 10\sqrt{2}cm = 10\sqrt{2}m}$$

$$E_1 = 9 \times 10^9 \times \frac{2 \times 10^{-9}}{2 \times 10^{-2}} = 900N$$

$$E_3 = k \frac{|q_3|}{r_3^2} \quad \frac{q_3 = 3nC = 3 \times 10^{-9}C}{r_3 = 10\sqrt{2}cm = 10\sqrt{2}m} \rightarrow E_3 = \frac{9 \times 10^9 \times 3 \times 10^{-9}}{2 \times 10^{-2}}$$

$$E_3 = 1350N$$

با توجه به اندازه و جهت بردارهای \vec{E}_1 و \vec{E}_3 داریم:

$$\vec{E}_t = \vec{E}_1 + \vec{E}_3 + \vec{E}_p \quad \vec{E}_t = -450\vec{i}$$

$$-450\vec{i} = -900\vec{j} + \vec{E}_p - 1350\vec{i}$$

$$\rightarrow \vec{E}_p = 900\vec{i} + 900\vec{j} \rightarrow E_p = \sqrt{(900)^2 + (900)^2} = 900\sqrt{2}N$$

$$(6/25 \times 10^6)^2 = (3/75 \times 10^6)^2 + E_1^2$$

$$\Rightarrow E_1 = 5 \times 10^6 \frac{N}{C}$$

در آخر به صورت زیر $|q_1|$ را می‌یابیم:

$$E_1 = k \frac{|q_1|}{r_1^2} \quad r_1 = 6\sqrt{2} \times 10^{-2} m \rightarrow 5 \times 10^6 = \frac{9 \times 10^9 \times |q_1|}{72 \times 10^{-4}}$$

$$\Rightarrow |q_1| = 4 \times 10^{-6} C = 4 \mu C$$

(الکتروسیسته ساکن) (فیزیک ۲ - صفحه ۱۶، مکمل و مرتبط با مثال ۸-۱)

فیزیک ۱

گزینه «۳» ۸۱-

(معمور متصوری)

نماد علمی یک عدد یک رقمی ($1 \leq a < 10$) ضربدر توالی از ۱۰ است. بنابراین خواهیم داشت:

$$150 Mkm = 1/5 \times 10^2 \times 10^6 \times 10^3 m \times \frac{10^3 mm}{1m}$$

$$= 1/5 \times 10^{14} mm$$

(فیزیک و اندازه‌گیری) (فیزیک ۱، صفحه‌های ۱۲ تا ۱۳)

گزینه «۴» ۸۲-

(آزمین بنای‌گذاری)

می‌دانیم یکای SI توان W (وات) است:

$$1W = 1 \frac{J}{s} = 1 \frac{kg \cdot m^2}{s^3}$$

تبدیل یکای واحد فرعی به شکل زیر است:

$$mg \xrightarrow{\times 10^{-6}} kg$$

$$Tm \xrightarrow{\times 10^{12}} m$$

$$ks \xrightarrow{\times 10^3} s$$

$$\frac{10^{-6} \times (10^{12})^2}{(10^3)^3} = \frac{10^{-6} \times 10^{24}}{10^9} = 10^9 \frac{kg \cdot m^2}{s^3} = GW$$

(فیزیک و اندازه‌گیری) (فیزیک ۱، صفحه ۱۰)

گزینه «۳» ۸۳-

(فیزیک ریاضی)

کمیت‌هایی که اندازه و جهت دارند، برداری هستند مثل نیرو و کمیت‌هایی مانند دما و فشار که تنها با یک عدد بیان می‌شوند نرده‌ای هستند، دما کمیت اصلی و بقیه کمیت فرعی هستند.

(فیزیک و اندازه‌گیری) (فیزیک ۱، صفحه‌های ۶ و ۷)

گزینه «۳» ۸۴-

(عبدالرضا امینی نسب)

سطح کره از رابطه $A = 4\pi r^2$ به‌دست می‌آید، داریم:

$$A = 4\pi r^2 \Rightarrow 1200 = 4 \times 3 \times r^2 \Rightarrow r = 10 cm$$

اگر میدان الکتریکی حاصل از بار q واقع در نقطه B را در نقطه C با E_C و میدان الکتریکی آن را پس از انتقال به نقطه C، در نقطه A با E_A نشان دهیم، طبق رابطه مقایسه‌ای میدان الکتریکی حاصل از یک ذره باردار داریم:

$$\frac{E_A}{E_C} = \left(\frac{r_{BC}}{r_{CA}}\right)^2 \xrightarrow{r_{CA} = 0/6 r_{BC}} \frac{E_A}{E} = \left(\frac{5}{3}\right)^2 = \frac{25}{9} \Rightarrow E_A = \frac{25}{9} E$$

(الکتروسیسته ساکن) (فیزیک ۲، صفحه‌های ۱۱ و ۱۲)

گزینه «۳» ۸۰-

(سراسری، فارغ از کشور، تهرپی - ۱۳۰۰)

ابتدا فاصله هر یک از بارهای الکتریکی را از مبدأ مختصات می‌یابیم:

$$r_1 = r_2 = r_3 = \sqrt{6^2 + 6^2} = 6\sqrt{2} cm = 6\sqrt{2} \times 10^{-2} m$$

اکنون، اندازه میدان‌های \vec{E}_1 و \vec{E}_2 را می‌یابیم و برابری آن‌ها را حساب می‌کنیم. دقت کنید، با توجه به شکل زیر و علامت بارهای q_1 و q_2 و بردارهای \vec{E}_1 و \vec{E}_2 ، هم‌راستا و در دو سوی مخالف یکدیگرند. در ضمن q_1 را مثبت فرض نموده‌ایم.

$$E_2 = k \frac{|q_2|}{r_2^2} \quad |q_2| = 9 \times 10^{-6} C \rightarrow E_2 = \frac{9 \times 10^9 \times 9 \times 10^{-6}}{72 \times 10^{-4}}$$

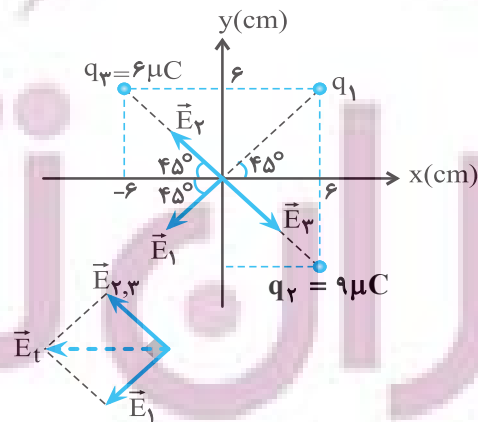
$$\Rightarrow E_2 = \frac{11}{72} \times 10^7 \frac{N}{C}$$

$$E_3 = k \frac{|q_3|}{r_3^2} \quad |q_3| = 6 \times 10^{-6} C \rightarrow E_3 = \frac{9 \times 10^9 \times 6 \times 10^{-6}}{72 \times 10^{-4}} = \frac{54}{72} \times 10^7 \frac{N}{C}$$

$$E_{2,3} = E_2 - E_3 = \frac{11}{72} \times 10^7 - \frac{54}{72} \times 10^7 = \frac{3}{8} \times 10^7 \frac{N}{C}$$

$$\Rightarrow E_{2,3} = 3/75 \times 10^6 \frac{N}{C}$$

باتوجه به شکل زیر، $\vec{E}_{2,3}$ که در راستای \vec{E}_2 است بر \vec{E}_1 عمود است؛ بنابراین چون اندازه بردارهای الکتریکی معلوم است، با استفاده از رابطه فیثاغورس، اندازه \vec{E}_1 می‌یابیم:



$$E_t^2 = E_{2,3}^2 + E_1^2 \quad \frac{E_t = 6/25 \times 10^6 \frac{N}{C}}{E_{2,3} = 3/75 \times 10^6 \frac{N}{C}}$$

(یوسف الویری زاره)

۸۸- گزینه «۳»

اندازه گیری های گزارش شده در آزمایش های ۳، ۵ و ۸ داده های پرت هستند و حذف می شوند، از داده های باقی مانده، میانگین می گیریم.

$$m \text{ جرم کره} = \frac{128 + 127/5 + 128/5 + 127 + 129}{5} = 128g$$

$$\rightarrow d(\text{قطر کره}) = 2cm \rightarrow r(\text{شعاع کره}) = 1cm \rightarrow V(\text{کره}) = \frac{4}{3}\pi r^3$$

$$\rightarrow V = \frac{4}{3} \times \pi \times (1cm)^3 = 4cm^3 \rightarrow \rho = \frac{m}{V} = \frac{128}{4} = 32 \frac{g}{cm^3}$$

(فیزیک و اندازه گیری) (فیزیک، صفحه های ۱۳ و ۱۵)

(معمود منفری)

۸۹- گزینه «۱»

در ابتدا حجم ظرف را محاسبه می کنیم:

$$m \text{ آب} = 75 - 15 = 60g$$

$$\rho \text{ آب} = 1 \frac{g}{cm^3}$$

$$\rho \text{ آب} = \frac{m \text{ آب}}{V} \rightarrow \frac{\rho = 1 \frac{g}{cm^3}}{m = 60g} \rightarrow 1 = \frac{60}{V} \rightarrow V = 60cm^3 = V \text{ ظرف آب}$$

حال با توجه به اینکه قرار است جرم ظرف و مایع ۹۵g شود، خواهیم داشت:

$$m \text{ مایع} = 95 - 15 = 80g$$

$$\rho \text{ مایع} = \frac{m \text{ مایع}}{V} \rightarrow \rho = \frac{80g}{V = 60cm^3} = \frac{80}{60} = \frac{4}{3} \frac{g}{cm^3}$$

(فیزیک و اندازه گیری) (فیزیک، صفحه های ۱۶ و ۱۸)

(سراسری خارج از کشور تهری - ۸۷)

۹۰- گزینه «۴»

برای به دست آوردن جرم باران باریده شده، طبق رابطه $m = \rho V$ ، به چگالی و حجم باران نیاز داریم. با توجه به معلوم بودن چگالی، برای محاسبه حجم کافی است مساحت سطح بارش را در ارتفاع باریده شده ضرب کنیم. داریم:

$$A = 2500km^2 \times \frac{(10^3)^2 m^2}{1km^2} = 2/5 \times 10^9 m^2$$

$$V = Ah$$

$$h = 40mm \times \frac{1m}{10^3 mm} = 4 \times 10^{-2} m$$

$$V = (2/5 \times 10^9) \times (4 \times 10^{-2}) = 10^8 m^3$$

حالا می توان نوشت:

$$m = \rho V \rightarrow \rho = 10^3 \frac{kg}{m^3} \rightarrow m = 10^3 \times 10^8 = 10^{11} kg$$

(فیزیک و اندازه گیری) (فیزیک - ۱، صفحه ۱۷، مکمل مثال ۱-۲ و تمرین ۱-۶)

اکنون حجم کره را محاسبه می کنیم:

$$V = \frac{4}{3}\pi r^3 = \frac{4}{3} \times \pi \times 10^3 = 4000cm^3$$

$$m = \rho \cdot V = 2/7 \times 4000 = 10800g$$

(فیزیک و اندازه گیری) (فیزیک، صفحه های ۱۶ تا ۱۸)

(عبدالرضا امینی نسب)

۸۵- گزینه «۲»

آهنگ رشد دختر بچه $1/7 \frac{nm}{s}$ است که باید این آهنگ رشد را بر حسب سانتی متر بر سال به دست آوریم. داریم:

$$1/7 \frac{nm}{s} = ? \frac{cm}{year}$$

$$1/7 \frac{nm}{s} \times \frac{10^{-9}m}{1nm} \times \frac{1cm}{10^{-2}m} \times \frac{86400s}{1day} \times \frac{365day}{1year} = 536112 \times 10^{-5}$$

$$= 5/26 \frac{cm}{year}$$

به عبارت دیگر دختر بچه در هر سال $5/26cm$ رشد می کند، بنابراین در ۲۰ سال داریم:

$$20 \times 5/26 = 107/26cm$$

قد اولیه دختر ۵۰cm بوده است پس از ۲۰ سال قدش به

$$107/26 + 50 = 157/26cm \text{ می رسد.}$$

(فیزیک و اندازه گیری) (فیزیک، صفحه ۱۰)

(عبدالرضا امینی نسب)

۸۶- گزینه «۴»

جرم آب و جرم الکل درون استوانه مدرج یکسان است، بنابراین داریم:

$$m_1 = m_2 \Rightarrow \rho_1 \cdot V_1 = \rho_2 \cdot V_2 \rightarrow \frac{A_1 = A_2}{h_1 = 10cm}$$

$$\rho_1 \cdot A_1 \cdot h_1 = \rho_2 \cdot A_2 \cdot h_2 \Rightarrow 1 \times 10 = 0/8 \times h_2$$

$$h_2 = \frac{10}{0/8} = 12/5cm$$

ارتفاع الکل درون استوانه:

سطح الکل $2/5cm$ بالاتر از سطح آب قرار می گیرد.

$$12/5 - 10 = 2/5cm$$

(فیزیک و اندازه گیری) (فیزیک، صفحه های ۱۶ تا ۱۸)

(امیرامیر میرسعید)

۸۷- گزینه «۳»

$$V = A \times h \rightarrow \Delta V = A \times \Delta h$$

$$\frac{\Delta V}{\Delta t} = 10 \frac{gal}{دقیقه} = 10 \times \frac{4/4 Lit}{60s} = \frac{10 \times 4/4}{60} \times \frac{10^{-3} m^3}{1 Lit} = \frac{4/4 \times 10^{-3} m^3}{6 s}$$

$$\frac{\Delta V}{\Delta t} = A \frac{\Delta h}{\Delta t} \rightarrow \frac{4/4 \times 10^{-3}}{6} = 11000 \times \frac{\Delta h}{\Delta t}$$

$$\rightarrow \frac{\Delta h}{\Delta t} = \frac{2}{3} \times 10^{-6} \frac{m}{s} \rightarrow \frac{\Delta h}{\Delta t} = \frac{2}{3} \times 10^{-3} \frac{mm}{s} = \frac{1}{1500} \frac{mm}{s}$$

(فیزیک و اندازه گیری) (فیزیک، صفحه ۱۰)

شیمی ۳

۹۱- گزینه «۳»

(علیرضا بیانی)

عبارت‌های اول، دوم نادرست هستند.

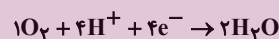
عبارت اول: واکنش کلی سلول به صورت $2H_2 + O_2 \rightarrow 2H_2O$ است که به ازای مبادله ۴ مول الکترون ۲ مول آب در کاتد تولید می‌شود. پس به ازای مبادله هر مول الکترون، ۰/۵ مول آب تولید خواهد شد.

عبارت دوم: در این سلول سوختی مولکول‌های هیدروژن اکسایش می‌یابند و نقش کاهنده را ایفا می‌کنند.

(آسایش و رفاه در سایه شیمی) (شیمی ۳، صفحه‌های ۵۰ تا ۵۲)

۹۲- گزینه «۳»

(علی رحیمی)



بعد از موازنه نیم‌واکنش‌ها، نیم‌واکنش آندی را در ۲ ضرب می‌کنیم تا تعداد اتم‌ها در دو نیم‌واکنش برابر باشد.

e^- مصرفی در کاتد همان الکترون تولیدی در آند (حاصل از گونه کاهنده) می‌باشد.

$$12/04 \times 10^{24} e^- \times \frac{1 \text{ mole } e^-}{6/02 \times 10^{23} e^-} \times \frac{2 \text{ mol } H_2}{4 \text{ mole } e^-} = 10 \text{ mol } H_2$$

$$336L \times \frac{1 \text{ mol گاز}}{22/4L} = 15 \text{ mol } (H_2 \text{ و } O_2)$$

$$\frac{10 \text{ mol } H_2}{15 \text{ mol } (O_2, H_2)} \times 100 = \%66/7$$

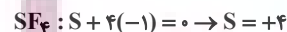
نکته: در واکنش سلول سوختی $2H_2 + O_2 \rightarrow 2H_2O$ همواره $\frac{2}{3}$ یا $\%66$ مخلوط گازهای مصرفی هیدروژن است (اطلاعات سوال نیاز نبود).

(آسایش و رفاه در سایه شیمی) (شیمی ۳، صفحه ۵۱)

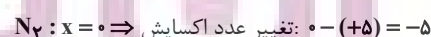
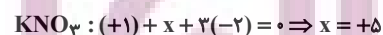
۹۳- گزینه «۳»

(سید محمدرضا غفوری)

بررسی عبارت‌ها:

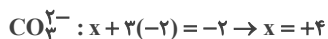
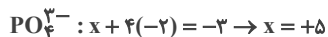
عبارت (آ) نادرست - اتم مرکزی در $HClO_3$ اتم Cl و در SF_6 اتم S است:

عبارت (ب) نادرست



عبارت (پ) درست - اتم‌ها در بالاترین عدد اکسایش خود فقط می‌توانند کاهش یابند یا اکسند باشند.

بالاترین عدد اکسایش برای عناصر گروه ۱۴ برابر (+۴) و برای عناصر گروه ۱۵ برابر (+۵) است.



عبارت (ت) درست

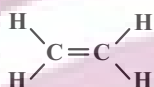
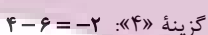
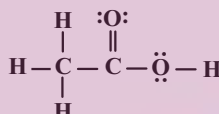
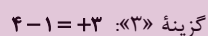
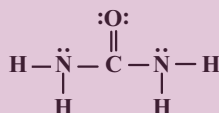
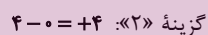
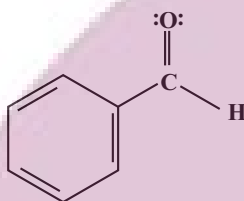
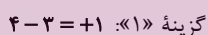
عبارت (ث) درست - عنصر آهن دارای دو عدد اکسایش (+۲) و (+۳) است. عنصر آهن در واکنش با اسیدها با عدد اکسایش پایین‌تر خود یعنی (+۲) شرکت می‌کند.

(آسایش و رفاه در سایه شیمی) (شیمی ۳، صفحه ۵۳)

۹۴- گزینه «۲»

(علیرضا بیانی)

با توجه به ساختارها داریم:



(آسایش و رفاه در سایه شیمی) (شیمی ۳، صفحه ۵۲)

۹۵- گزینه «۲»

(حسن رحمتی‌لوکنده)

بررسی موارد نادرست:

(پ) در فرایند خوردگی آهن، یون‌های آهن درون محلول الکترولیت از سمت آند به سمت کاتد می‌روند و الکترون‌ها نیز در سطح فلز هم‌جهت با یون‌های Fe^{2+} از آند به سمت کاتد می‌روند.

(ت) پوشاندن سطح فلز آهن با رنگ زدن، قیراندود کردن و روکش دادن، نمی‌تواند به‌طور کامل از خوردگی آن پیشگیری کند؛ زیرا به تدریج رطوبت و اکسیژن از روزنه‌های این پوشش‌ها عبور کرده و به سطح آهن می‌رسند و خوردگی دوباره آغاز می‌شود.

(آسایش و رفاه در سایه شیمی) (شیمی ۳، صفحه‌های ۵۶ تا ۵۸)

۹۶- گزینه «۴»

بررسی گزینه‌ها:

گزینه «۱»: آهنی که سطح آن با لایه نازکی از فلز قلع پوشیده شده است، حلبی نامیده می‌شود. هرگاه سطح آهن با لایه نازکی از فلز روی پوشانده شود، آن را آهن سفید یا آهن گالوانیزه می‌گویند.

گزینه «۲»: از آنجا که E° فلز قلع از E° آهن بزرگ‌تر است، بنابراین فلز قلع نقش کاتد را داشته و در سطح آن گاز اکسیژن کاهش می‌یابد.

گزینه «۳»: از آنجا که فلز قلع موجود در سطح حلبی با مواد غذایی واکنش نمی‌دهد، بنابراین می‌توان از آن برای ساختن ظروف بسته‌بندی مواد غذایی استفاده کرد.

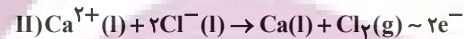
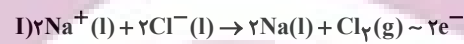
گزینه «۴»: در محل خراش و در حضور رطوبت و گاز اکسیژن، یک سلول گالوانی تشکیل می‌شود که در آن گاز اکسیژن کاهش می‌یابد و نقش کاتد را دارد.

(آسایش و رفاه در سایه شیمی) (شیمی ۳، صفحه ۵۹)

۹۷- گزینه «۴»

(مسعود بیفوری)

شاید در نگاه اول با خود بگویید چرا سوال هم تعداد الکترون‌ها و هم جرم سدیم را داده مگر این دو با هم متناسب نیستند؟ پاسخ این است که اگر صرفاً پای سدیم کلرید در میان باشد بله و مقادیر سدیم و الکترون با هم متناسب بوده و با توجه به فرمول NaCl ، پاسخ در همان نگاه اول گزینه «۱» خواهد بود. اما نکته‌ای که باید به آن توجه کنید این است که در سلول برقکافت NaCl ، برای کاهش نقطه ذوب NaCl ، آن را با کلسیم کلرید مخلوط می‌کنند تا انجام واکنش از لحاظ میزان مصرف انرژی به صرفه باشد. با توجه به اینکه بازده سلول ۱۰۰ درصد است، در پایان واکنش هر دو نوع نمک به‌طور کامل برقکافت شده‌اند. واکنش برقکافت این دو نمک به‌صورت زیر است:



تعداد الکترون‌های مبادله شده در این سلول، برابر مجموع الکترون‌های مبادله شده در واکنش‌های (I) و (II) است. با استفاده از این معادله می‌توان جرم کلسیم کلرید مصرفی را به‌دست آورد:

$$\frac{4}{816} \times 10^{27} e^- = (46 \text{ kg Na} \times \frac{1000 \text{ g Na}}{1 \text{ kg Na}} \times \frac{1 \text{ mol Na}}{23 \text{ g Na}} \times \frac{2 \text{ mole}^-}{2 \text{ mol Na}} + (x \text{ kg CaCl}_2 \times \frac{1000 \text{ g CaCl}_2}{1 \text{ kg CaCl}_2} \times \frac{1 \text{ mol CaCl}_2}{111 \text{ g CaCl}_2} \times \frac{2 \text{ mole}^-}{2 \text{ mol Na}} \times \frac{6.02 \times 10^{23} e^-}{1 \text{ mole}^-}) \Rightarrow x = 333 \text{ kg CaCl}_2$$

اکنون جرم NaCl هم به‌دست می‌آوریم:

$$? \text{ kg NaCl} = 46 \text{ kg Na} \times \frac{1000 \text{ g}}{1 \text{ kg}} \times \frac{1 \text{ mol Na}}{23 \text{ g Na}} \times \frac{2 \text{ mol NaCl}}{2 \text{ mol Na}} \times \frac{58.5 \text{ g NaCl}}{1 \text{ mol NaCl}} \times \frac{1 \text{ kg NaCl}}{1000 \text{ g NaCl}} = 117 \text{ kg NaCl}$$

در نهایت می‌توان درصد جرمی یون‌های Cl^- را محاسبه کرد:

$$\% \text{Cl}^- = 333 \text{ kg CaCl}_2 \times \frac{71 \text{ kg Cl}^-}{111 \text{ kg CaCl}_2} + (117 \text{ kg NaCl} \times \frac{35.5 \text{ kg Cl}^-}{58.5 \text{ kg NaCl}})$$

= ۲۸۴

مخلوط (۳۳۳ + ۱۱۷) kg

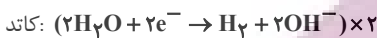
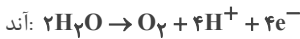
$$\text{Cl}^- \text{ درصد جرمی} = \frac{284}{450} = 63\%$$

(آسایش و رفاه در سایه شیمی) (شیمی ۳، صفحه ۵۵)

۹۸- گزینه «۴»

(فرزاد فتفی‌پور)

گزینه «۴» نادرست: آزمون وی ای پی



تعداد الکترون تولید شده در آند برابر تعداد الکترون مصرف شده در کاتد است.

بررسی سایر گزینه‌ها:

گزینه «۱»: درست. به ازای هر دو مول گاز هیدروژنی که در کاتد تولید می‌شود، یک مول گاز اکسیژن در آند تولید می‌گردد. بنابراین حجم گاز تولید شده در کاتد دو برابر حجم گاز تولیدی در آند است.

گزینه «۲»: درست. عدد اکسایش اتم‌های اکسیژن از (-۲) در آب، به صفر در گاز اکسیژن رسیده است، بنابراین اکسیژن اکسایش می‌یابد. عدد اکسایش اتم‌های هیدروژن نیز از (+۱) در آب، به صفر در گاز هیدروژن رسیده است، بنابراین هیدروژن کاهش می‌یابد.

گزینه «۳»: درست. توجه داریم که آب خالص رسانایی الکتریکی ناچیزی دارد. از این رو برای برقکافت آن باید اندکی الکترولیت به آب افزود. با برقکافت آب، تعداد مولکول‌های آب کاهش یافته و بنابراین غلظت محلول الکترولیت افزایش می‌یابد.

(آسایش و رفاه در سایه شیمی) (شیمی ۳، صفحه ۵۴)

۹۹- گزینه «۳»

(علی رمضان‌ی)

جمله‌های اول و چهارم نادرست‌اند.

بررسی موارد نادرست:

در این فرایند قاشق قطب منفی و تیغه فلزی قطب مثبت است.

در این فرایند قاشق به عنوان کاتد و تیغه فلزی به عنوان آند فعالیت می‌کند.

(آسایش و رفاه در سایه شیمی) (شیمی ۳، صفحه‌های ۵۵ تا ۶۲)

۱۰۰- گزینه «۳»

(علی رمضان‌ی)



زیروند \times ضریب \times تغییر عدد اکسایش اکسنده = ضریب موازنه الکترون

$$3 \times 2 \times 2 = 12e^-$$

$$3 \text{ mole}^- \times \frac{3 \text{ mol CO}_2}{12 \text{ mole}^-} \times \frac{22}{4 \text{ LCO}_2} = 16 / \text{LCO}_2$$

(آسایش و رفاه در سایه شیمی) (شیمی ۳، صفحه‌های ۵۵ تا ۶۲)

شیمی ۲

۱-۱- گزینه «۴»

(عین الله ابوالفتی)

با توجه به نمودار، سوخت‌های فسیلی در سال ۲۰۳۰ کمتر از ۲۰ میلیارد تن تولید و مصرف خواهند شد.

(قدر هدایای زمینی را برانیم) (شیمی ۲، صفحه ۳)

۱-۲- گزینه «۲»

بررسی موارد:

آ) درست؛ عنصر با عدد اتمی ۵۰ همان Sn است که هم گروه C در گروه ۱۴ جدول دوره‌ای است؛ در این گروه تا دوره ششم، ۵ عنصر قرار دارد که ۲ عنصر Si و

$$\frac{2}{5} = 40\% \text{ پس:}$$

Ge و Ge شبه‌فلز هستند؛ ب) نادرست؛ عنصری در دوره سوم که در آزمایشگاه زیر آب نگهداشته می‌شوند همان P ۱۵ است که نافلز است. عنصر قبلی آن Si ۱۴ است که شبه فلز است و از آنجایی که رفتار فیزیکی شبه‌فلزها مشابه نافلزها نیست این مورد نادرست است.

پ) نادرست؛ عنصر C که در گروه ۱۴ قرار دارد رسانایی گرمایی ندارد، اما رسانایی الکتریکی دارد این عنصر هم‌دوره Ne ۱۰، (دومین گاز نجیب) است، اما دقت کنید که Ne ۱۰ اولین گاز نجیب دسته p است زیرا He ۲ متعلق به دسته s است. ت) درست؛ بیشتر عناصر جدول دوره‌ای را فلزات تشکیل می‌دهند که به‌طور عمده در سمت چپ و مرکز جدول دوره‌ای قرار دارند.

(قدر هدایای زمینی را برانیم) (شیمی ۲، صفحه‌های ۱ تا ۱۰)

۱-۳- گزینه «۲»

بررسی گزینه‌ها:

گزینه «۱»: نادرست، هالوژن‌ها در دسته p جدول تناوبی قرار دارند و کوچکترین شعاع اتمی جدول مربوط به عناصر دوره اول است که در دسته s جدول دوره‌ای قرار دارد.

گزینه «۲»: درست، با افزایش شعاع اتمی، طبق جدول صفحه ۱۴ کتاب درسی دمای لازم برای واکنش آنها با گاز هیدروژن افزایش می‌یابد.

گزینه «۳»: نادرست، در گروه ۱۷ جدول تناوبی از بالا به پایین خاصیت نافلزی کاهش می‌یابد.

گزینه «۴»: نادرست، در تولید چراغ‌های جلیوی خودروها، از هالوژن‌ها استفاده می‌شود.

(قدر هدایای زمینی را برانیم) (شیمی ۲، صفحه‌های ۱۰ تا ۱۴)

۱-۴- گزینه «۲»

بررسی گزینه‌ها:

گزینه «۱»: در آرایش الکترونی 26Fe و 26Fe^{2+} ، ۶ الکترون با $l=2$ وجود دارد.

گزینه «۲»: فلزهای دسته d، عنصرهایی هستند که زیرلایه d آنها در حال پر شدن است. (نه لزوماً زیرلایه d!) $3d$

گزینه «۳»: کاتیون‌هایی از دسته d که هم‌الکترون باشند مثل 29Cu^+ و 30Zn^{2+} یا مثل 23V^{2+} و 24Cr^{3+} آرایش الکترونی یکسان دارند.

گزینه «۴»: در عنصرهای واسطه، اغلب کاتیون‌ها به آرایش گاز نجیب نمی‌رسند، ولی برخی از آنها مثل Sc^{3+} به این آرایش می‌رسند. در حالی که در عنصرهای اصلی، اغلب کاتیون‌ها به آرایش گاز نجیب می‌رسند و برخی مثل قلع و سرب به این آرایش نمی‌رسند.

(قدر هدایای زمینی را برانیم) (شیمی ۲، صفحه‌های ۱۴ تا ۱۷)

۱-۵- گزینه «۳»

(سید علی اشرفی دوست‌سالماس)

فقط مورد چهارم نادرست است.

بررسی موارد:

مورد اول) گاز کلر $\text{Cl}_2(\text{g})$ و گوگرد S(s) هر دو نافلز بوده و هر دو زردرنگ می‌باشند.

مورد دوم) در دوره سوم از چپ به راست، شمار لایه‌های الکترونی اتم‌ها ثابت است، زیرا $n=3$ است.

مورد سوم) با صرف‌نظر از گاز نجیب، در این دوره سه عنصر P, S, Cl نافلز و سه عنصر Al و Mg و Na فلز هستند.

مورد چهارم) عنصر کلر به‌صورت گاز است، نه جامد!!

مورد پنجم) اتم‌های عناصر کلر، گوگرد، فسفر، آلومینیم، منیزیم، سدیم (Na^+ , Mg^{2+} , Al^{3+} , P^{3-} , S^{2-} , Cl^-) با تشکیل یون به آرایش پایدار گاز نجیب می‌رسند.

(قدر هدایای زمینی را برانیم) (شیمی ۲، صفحه ۸)

۱-۶- گزینه «۱»

(عین الله ابوالفتی)

عنصر A همان فلز اسکاندیم با عدد اتمی ۲۱ است ($p=21$) و عنصر B همان نافلز فسفر با عدد اتمی ۱۵ است ($z=15$)، اسکاندیم شعاع اتمی بیشتری نسبت به فسفر داشته و چون فلز است، رسانایی الکتریکی بالا و سطح درخشان دارد، در حالی که فسفر نافلز بوده و نارساناست و کدر یا مات است.

بررسی سایر گزینه‌ها:

گزینه «۲»: بین فسفر و اسکاندیم ۵ عنصر گوگرد، کلر، آرگون، پتاسیم و کلسیم وجود دارند، که فقط پتاسیم و کلسیم فلزند و رسانایی الکتریکی دارند.

گزینه «۳»: عنصری با عدد اتمی ($z-1$) همان 14Si است که شبه‌فلز و نیمه‌رساناست همچنین عنصری با عدد اتمی ($p+1$) یعنی 22Ti فلزی رسانا است. (هر دو رسانایی الکتریکی دارند)

گزینه «۴»: عنصری با عدد اتمی ($z+1$) همان 16S یا گوگرد است که در طبیعت به حالت آزاد وجود دارد در حالی که عنصری با عدد اتمی ($p-2$) همان 19K یا پتاسیم است که در طبیعت به حالت آزاد یافت نمی‌شود.

(قدر هدایای زمینی را برانیم) (شیمی ۲، صفحه‌های ۶ تا ۱۳)

۱-۷- گزینه «۴»

(مهم‌مسین صادقی مقدم)

با توجه به جدول ارائه شده در صفحه ۱۴ کتاب درسی A، عنصر کلر و B، عنصر برم می‌باشد.

بررسی همه گزینه‌ها:

گزینه «۱»: نادرست است - در هر دوره از چپ به راست شعاع اتمی کاهش می‌یابد؛ بنابراین عناصر گروه ۱۷ کوچکترین شعاع اتمی را بین عناصر هم‌دوره خود

دارند (با صرف‌نظر از گازهای نجیب)

۱۱۱- گزینه «۱»

(امین نرورزی)

بررسی همه گزینه‌ها:

گزینه «۱»: مقایسه واکنش پذیری این ۳ عنصر به صورت $\text{Na} > \text{Zn} > \text{Cu}$ است پس Na بیشتر از Zn و Cu تمایل به از دست دادن e^- دارد.

گزینه «۲»: 19K دارای آرایش الکترونی $1s^2 2s^2 2p^6 3s^2 3p^6 4s^1$ است که در زیرلایه‌های p خود $(l=1)$ ، $19e^-$ دارد و تمایل به فعالیت شیمیایی $\text{K} > \text{Fe}$ است.

گزینه «۳»: با توجه به واکنش که به صورت طبیعی یا خودبه‌خودی انجام می‌شود، Ca توانسته جایگزین Al شود؛ پس واکنش پذیری $\text{Ca} > \text{Al}$ است.

گزینه «۴»: 21Sc با آرایش الکترونی $1s^2 2s^2 2p^6 3s^2 3p^6 3d^1 4s^2$ دارد که در $4s$ ، دارای دو الکترون و در $3d$ یعنی $n=3$ و $l=2$ ، دارای یک الکترون است و در ساخت تلویزیون رنگی کاربرد دارد.

(قدر هدایای زمینی را برانیم) (شیمی ۲، صفحه‌های ۱۶، ۲۰ و ۲۱)

۱۱۲- گزینه «۳»

(علی امینی)

مقایسه واکنش پذیری

$\left. \begin{array}{l} \text{Cr} > \text{Cd} \\ \text{Sn} > \text{Bi} \end{array} \right\}$	با توجه به انجام پذیر بودن واکنش‌های a و c داریم:
$\left. \begin{array}{l} \text{Sn} < \text{Cd} \\ \text{Cr} < \text{Mn} \end{array} \right\}$	با توجه به انجام ناپذیر بودن واکنش‌های b و d، داریم:

و مقایسه کلی به صورت مقابل است: $\text{Mn} > \text{Cr} > \text{Cd} > \text{Sn} > \text{Bi}$
هرچقدر واکنش پذیری فلزی بیشتر باشد، تمایل بیشتری به تشکیل کاتیون و ترکیب یونی داشته و لذا اغلب در طبیعت به صورت ترکیب پایدار یافت می‌شود و استخراج آن فلز دشوارتر خواهد بود.

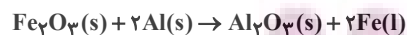
(مقایسه پایداری فلزات فوق روند معکوس دارد!)

(قدر هدایای زمینی را برانیم) (شیمی ۲، صفحه‌های ۲۰ و ۲۱)

۱۱۳- گزینه «۲»

(میثم کیانی)

فرآورده مذاب واکنش ترمیت، آهن است:



$$\frac{\text{مقدار عملی}}{\text{مقدار نظری}} \times 100 \Rightarrow 50 = \frac{12/8}{xg} \times 100 \Rightarrow 25/6g$$

$$?g \text{Fe}_2\text{O}_3 = 25/6g \text{Fe} \times \frac{1 \text{ mol Fe}}{56g \text{Fe}} \times \frac{1 \text{ mol Fe}_2\text{O}_3}{2 \text{ mol Fe}} \times \frac{160g \text{Fe}_2\text{O}_3}{1 \text{ mol Fe}_2\text{O}_3}$$

$$\times \frac{100g \text{Fe}}{80g \text{Fe}} = 45/7g \text{Fe} \text{ ناخالص}$$

روش تناسب:

$$\frac{50 \times 80 \times xg \text{Fe}_2\text{O}_3}{100 \times 100 \times 1 \times 160} = \frac{12/8g \text{Fe}}{2 \times 56} \Rightarrow xg \text{Fe}_2\text{O}_3 = 45/7$$

(قدر هدایای زمینی را برانیم) (شیمی ۲، صفحه‌های ۲۲ تا ۲۴)

گزینه «۲»: نادرست است - در بین عنصرهای این گروه فلزاترین بیشترین خصلت نافلزی و بیشترین واکنش پذیری را دارد.

گزینه «۳»: نادرست است - آرایش الکترونی آنها به $ns^2 np^5$ ختم می‌شود که در آخرین زیرلایه آنها ۵ الکترون وجود دارد.

گزینه «۴»: درست است - عنصر A، کلر بوده که در دما و فشار اتاق به صورت گازی زردرنگ می‌باشد.

(قدر هدایای زمینی را برانیم) (شیمی ۲، صفحه‌های ۱۳ و ۱۴)

۱۰۸- گزینه «۲»

(مهم‌ترین صاف‌مقرم)

از بین فلزهای منیزیم (Mg) و کلسیم (Ca) خصلت فلزی کلسیم بیشتر و فعالیت شیمیایی بیشتر و در بین دو نافلز کلر (Cl) و برم (Br) خصلت نافلزی کلر بیشتر و در نتیجه فعالیت شیمیایی بیشتری دارد. بنابراین شدت واکنش میان کلسیم و کلر بیشتر می‌باشد.

(قدر هدایای زمینی را برانیم) (شیمی ۲، صفحه‌های ۱۱ و ۱۲)

۱۰۹- گزینه «۲»

(سید رحیم هاشمی‌هکری)

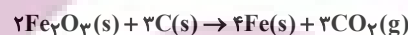

در واکنش‌هایی که به‌طور طبیعی و خودبه‌خود انجام می‌گیرند، فرآورده‌ها پایدارتر از واکنش‌دهنده‌ها هستند.

بررسی سایر گزینه‌ها:

گزینه «۱»: در بین فلزها، عناصر گروه فلزات قلیایی بیشترین فعالیت شیمیایی را دارند، بر این اساس شرایط نگهداری آنها دشوارتر از سایر عناصر فلزی است.

گزینه «۳»: هرچه یک عنصر تمایل بیشتری به انجام واکنش داشته باشد، واکنش پذیری آن بیشتر است.

گزینه «۴»:



(قدر هدایای زمینی را برانیم) (شیمی ۲، صفحه‌های ۱۸ تا ۲۲)

۱۱۰- گزینه «۳»

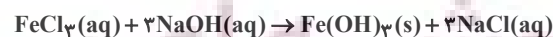
بررسی موارد:

مورد اول) نادرست - از این واکنش برای شناسایی یون هیدروکسید یا یون آهن استفاده می‌شود.

مورد دوم) درست - آهن (III) هیدروکسید ترکیبی نامحلول در آب است و به صورت رسوب به رنگ قرمز آجری تشکیل می‌شود.

مورد سوم) درست - با افزودن محلول سدیم هیدروکسید به محلول آهن (III) کلرید، یون‌های کلرید در واکنش شرکت نمی‌کنند و تعداد مول آنها ثابت است، ولی به دلیل افزایش حجم محلول، غلظت آن کاهش می‌یابد.

مورد چهارم) درست



(قدر هدایای زمینی را برانیم) (شیمی ۲، صفحه ۱۹)



۱۱۴- گزینه ۴»

(پوار سوری کس)



$$x \text{ ton} = \frac{\text{شکر } 1000 \text{ kg}}{\text{شکر } 1 \text{ ton}} \times \frac{\text{شکر } 1 \text{ kg}}{\text{نیشکر } 1 \text{ ton}} \times \frac{\text{نیشکر } 80 \text{ ton}}{\text{هکتار } 540} \times \text{اتانول } x \text{ ton}$$

$$\frac{46 \text{ g}}{1 \text{ mol}} \times \frac{2 \text{ mol}}{1 \text{ mol}} \times \frac{1 \text{ mol}}{180 \text{ g}} \times \frac{1 \text{ mol}}{100 \text{ g}} = \frac{46}{18000} \text{ mol/g}$$

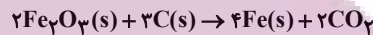
$$\frac{46}{18000} \text{ mol/g} \times \frac{1 \text{ ton}}{1000 \text{ kg}} \times \frac{80 \text{ ton}}{100 \text{ g}} = 8 / 822 \text{ ton}$$

(قدر هدایای زمینی را برانیم) (شیمی ۲، صفحه‌های ۲۲ تا ۲۴)

۱۱۵- گزینه ۲»

(رسول رمزیوی)

ابتدا باید واکنش را موازنه کنیم:



حالا کافی است که جرم گاز تولید شده را حساب کنیم که برابر با کاهش جرم محتویات ظرف واکنش می‌باشد.

$$gCO_2 = 100 \text{ g} \times \frac{60 \text{ g Fe}_2\text{O}_3}{100 \text{ g Fe}_2\text{O}_3} \times \frac{44 \text{ g CO}_2}{160 \text{ g Fe}_2\text{O}_3} \times \frac{2 \text{ mol CO}_2}{2 \text{ mol Fe}_2\text{O}_3} \times \frac{80}{100}$$

$$= 19 / 8 \text{ g CO}_2$$

میزان کاهش جرم محتویات ظرف واکنش $19 / 8 \text{ g CO}_2$

(قدر هدایای زمینی را برانیم) (شیمی ۲، صفحه‌های ۲۲ تا ۲۵)

۱۱۶- گزینه ۲»

(مهمر صالحی)

موارد سوم و چهارم درست‌اند. بررسی عبارت‌ها:

مورد اول) نادرست است، زیرا فلز طلا چکش‌خوار و نرم (و نه سخت) است. سایر ویژگی‌ها با توجه به متن کتاب درسی فقط مربوط به طلا هستند.

مورد دوم) نادرست است، زیرا اسکاندیم نخستین عنصر واسطه در جدول دوره‌ای است که در وسایل خانه و برخی شیشه‌ها وجود دارد، کاتیون پایدار آن به آرایش گاز نجیب آرگون در دوره قبل از خود می‌رسد.

مورد سوم) درست است، طلا به واسطه ویژگی‌هایش در هر دو محل کارایی دارد.

مورد چهارم) درست است، زیرا رنگ سبز زمرد و سرخ یاقوت و آبی فیروزه، به دلیل وجود برخی ترکیبات فلزات واسطه است.

(قدر هدایای زمینی را برانیم) (شیمی ۲، صفحه‌های ۱۵ تا ۱۷)

۱۱۷- گزینه ۳»

(مینم کیانی)

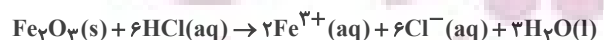
بررسی عبارت نادرست:

پ) هر چه واکنش‌پذیری یک فلز بیشتر باشد، استخراج آن دشوارتر است.

(قدر هدایای زمینی را برانیم) (شیمی ۲، صفحه‌های ۱۸ تا ۲۱)

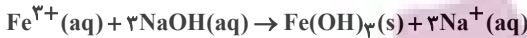
۱۱۸- گزینه ۲»

(سید رحیم هاشمی‌هگدری)



$$6 / 4 \text{ g Fe}_2\text{O}_3 \times \frac{1 \text{ mol Fe}_2\text{O}_3}{160 \text{ g Fe}_2\text{O}_3} \times \frac{2 \text{ mol Fe}^{3+}}{1 \text{ mol Fe}_2\text{O}_3}$$

$$\frac{\text{مقدار عملی } 50}{\text{مقدار نظری } 100} = 0.5 \text{ mol Fe}^{3+}$$



$$0.5 \text{ mol Fe}^{3+} \times \frac{1 \text{ mol Fe(OH)}_3}{1 \text{ mol Fe}^{3+}} \times \frac{107 \text{ g Fe(OH)}_3}{107 \text{ g Fe(OH)}_3}$$

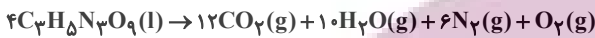
$$= 4 / 28 \text{ g Fe(OH)}_3$$

(قدر هدایای زمینی را برانیم) (شیمی ۲، صفحه‌های ۲۲ تا ۲۵)

۱۱۹- گزینه ۱»

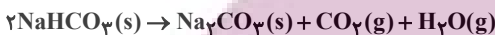
(مهمر خاترنیا)

مقدار مول CO_2 تولیدی حاصل از تجزیه $C_3H_5N_3O_9$ برابر است با:



$$0.5 \text{ mol } C_3H_5N_3O_9 \times \frac{12 \text{ mol } CO_2}{4 \text{ mol } C_3H_5N_3O_9} \times \frac{50}{100} = \frac{3}{4} \text{ mol } CO_2$$

حال مقدار n را به دست می‌آوریم:



$$\frac{3}{4} \text{ mol } CO_2 = n \text{ g } NaHCO_3 \times \frac{63 \text{ g } NaHCO_3}{100 \text{ g } NaHCO_3} \times \frac{1 \text{ mol } NaHCO_3}{84 \text{ g } NaHCO_3}$$

$$\times \frac{1 \text{ mol } CO_2}{2 \text{ mol } NaHCO_3} \times \frac{80}{100} \Rightarrow n = 25 \text{ g } NaHCO_3$$

جرم بخار آب تولیدی از هر واکنش، با توجه به مول کربن دی‌اکسید به دست آمده برابر است با:

$$\frac{3}{4} \text{ mol } CO_2 \times \frac{10 \text{ mol } H_2O}{12 \text{ mol } CO_2} \times \frac{18 \text{ g } H_2O}{18 \text{ g } H_2O} = 11 / 25 \text{ g } H_2O$$

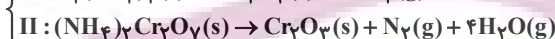
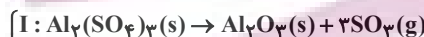
$$\frac{3}{4} \text{ mol } CO_2 \times \frac{1 \text{ mol } H_2O}{1 \text{ mol } CO_2} \times \frac{18 \text{ g } H_2O}{18 \text{ g } H_2O} = 13 / 5 \text{ g } H_2O$$

$$11 / 25 + 13 / 5 = 24 / 5 \text{ g } H_2O$$

(قدر هدایای زمینی را برانیم) (شیمی ۲، صفحه ۲۳)

۱۲۰- گزینه ۲»

(علی امینی)



در شرایط یکسان P و T \Leftarrow نسبت حجمی = نسبت مولی (در گازهای کامل)

$$\frac{1900 \text{ g I} \times \frac{3 \text{ mol } SO_2}{342 \text{ g } Al_2(SO_4)_3} \times \frac{22}{100}}{\frac{3 \text{ mol } SO_2}{1 \text{ mol } Al_2(SO_4)_3}} = 12 \text{ mol } SO_2 \xrightarrow{\text{واکنش I}} \text{گاز II (N}_2 \text{ و H}_2\text{O)}$$

$$6 \text{ mol گاز II} \times \frac{1 \text{ mol } (NH_4)_2Cr_2O_7}{5 \text{ mol گاز (N}_2 \text{, H}_2\text{O)}} \times \frac{100}{252} = 422 \text{ g} \Rightarrow Ra_{II} = 70\%$$

$$I: 12 \text{ mol } SO_2 \times \frac{80 \text{ g } SO_2}{1 \text{ mol } SO_2} = 960 \text{ g جرم کاهش}$$

$$\Rightarrow 1900 - 960 = 940 \text{ g جامد باقی‌مانده}$$

$$II: 6 \text{ mol گاز (N}_2 \text{, H}_2\text{O)} \times \frac{(1 \times 28 + 4 \times 18) \text{ g گاز}}{(1 + 4) \text{ mol (N}_2 \text{, H}_2\text{O)}}$$

$$= 120 \text{ g جرم کاهش} \Rightarrow 422 - 120 = 302 \text{ g جامد باقی‌مانده}$$

۱۲۴- گزینه «۲»

(عرفان علیزاده)

چون دو ذره ایزوتوپ یکدیگر هستند پس عدد اتمی آنها برابر است و چون تعداد پروتون‌های آنها برابر است، اختلاف عدد جرمی آنها برابر اختلاف تعداد نوترون است.

$$\begin{cases} 3x + 2 = 2y + 1 \rightarrow 2y - 3x = 1 \\ (7x + 2) - (4y + 2) = 2 \rightarrow 7x - 4y = 2 \end{cases} \begin{cases} x = 5 \\ y = 8 \end{cases}$$

$$\frac{y}{x} = \frac{8}{5} = 1.6$$

(کیهان زارگه الفبای هستی) (شیمی، ۱، صفحه ۵)

۱۲۵- گزینه «۳»

(میلاد عزیززی)

فقط مورد اول درست است.

بررسی همه عبارت‌ها:

مورد اول) سبک‌ترین ایزوتوپ پرتوزا ${}^3\text{H}$ است که $50\% (\frac{1}{2})$ ذرات زیراتمی آن را نوترون (ذره خنثی) تشکیل می‌دهد (یک الکترون، یک پروتون و دو نوترون) مورد دوم) نادرست است.

مورد سوم) رادیوایزوتوپ ${}^3\text{H}$ نیمه‌عمر طولانی دارد.

مورد چهارم) در ایزوتوپ ${}^2\text{H}$ شمار الکترون و پروتون و نوترون برابر است. اما فراوانی ${}^1\text{H}$ از همه ایزوتوپ‌های هیدروژن بیشتر است.

(کیهان زارگه الفبای هستی) (شیمی، ۱، صفحه ۶)

۱۲۶- گزینه «۴»

(میثم ثوری)

بررسی موارد:

مورد اول) درست - زمان نیم‌عمر تکنسیم کوتاه است در حالی که نیم‌عمر ${}^3\text{H}$ ، $12/3$ سال می‌باشد.

مورد دوم) درست - طبق متن کتاب درسی

مورد سوم) نادرست - یون دیدید و یون حاوی تکنسیم (نه خود تکنسیم) اندازه مشابهی دارند.

مورد چهارم) نادرست - از تکنسیم برای تصویربرداری (نه درمان) غده تیروئید استفاده می‌شود.

(کیهان زارگه الفبای هستی) (شیمی، ۱، صفحه‌های ۷ تا ۹)

۱۲۷- گزینه «۲»

(احمد عیون)

بررسی گزینه‌های نادرست:

گزینه «۱»: در جدول دوره‌ای (تناوبی) امروزی، عنصرها براساس افزایش عدد اتمی سازمان‌دهی شده‌اند.

گزینه «۳»: ایزوتوپ کلر - ۳۵، فراوان‌ترین ایزوتوپ کلر می‌باشد.

$$\text{گزینه «۴»: } 22\text{gCO}_2 = 22\text{gCO}_2 \times \frac{1\text{molCO}_2}{44\text{gCO}_2} \times \frac{1\text{molC}}{1\text{molCO}_2}$$

$$\text{اتم کربن} = \frac{6/02 \times 10^{23}}{1\text{molC}} = 3/01 \times 10^{23}$$

$$\text{اتم‌های کربن در CO} = 56\text{gCO} \times \frac{1\text{molCO}}{28\text{gCO}} \times \frac{1\text{molC}}{1\text{molCO}}$$

$$\text{اتم کربن} = \frac{6/02 \times 10^{23}}{1\text{molC}} = 12/04 \times 10^{23}$$

$$\text{برابر } 3 = \frac{940\text{g}}{312\text{g}} \times \frac{1}{2} \text{ نسبت جرم جامد باقی‌مانده}$$

(قدر هدایای زمینی را برانیم) (شیمی ۲، صفحه‌های ۲۲ تا ۲۴)

شیمی ۱

۱۲۱- گزینه «۴»

بررسی گزینه‌ها:

گزینه «۱»: جرم اتمی هیدروژن $1/008\text{amu}$ هست؛ نه جرم مولی!

گزینه «۲»: آخرین تصویری که وویجر ۱، پیش (نه پس!) از خروج از سامانه خورشیدی گرفت، از فاصله ۷ میلیارد کیلومتری بود.

گزینه «۳»: انرژی خیره‌کننده خورشید به دلیل تبدیل هیدروژن به هلیوم می‌باشد.

گزینه «۴»: عناصر سازنده زمین مثل Ca , Ni , Fe جزو عناصر سنگین‌اند و عناصر سازنده مشتری مثل C , He , H جزو عناصر سبک‌اند. ابتدا عناصر سبک و سپس عناصر سنگین تشکیل شده‌اند.

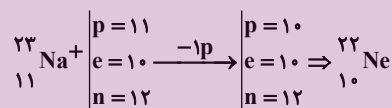
(کیهان زارگه الفبای هستی) (شیمی، ۱، صفحه‌های ۲ تا ۴ و ۱۲)

۱۲۲- گزینه «۳»

بررسی گزینه‌ها: آزمون وی ای بی

گزینه «۱»: پس از مهبانگ، سحابی‌ها تشکیل شدند و سپس ستاره‌ها پس خورشید چندین سال پس از مهبانگ ایجاد شده است.

گزینه «۲»:



گزینه «۳»: دومین عنصر فراوان در زمین، عنصر اکسیژن و دومین عنصر فراوان در مشتری، عنصر هلیوم است که هر دو گاز هستند.

گزینه «۴»: پایدارترین ایزوتوپ ساختگی هیدروژن ${}^5\text{H}$ است که دارای ۴ نوترون است اما ${}^6\text{Li}$ فقط ۳ نوترون دارد. (ترتیب پایداری ایزوتوپ‌های هیدروژن:



(کیهان زارگه الفبای هستی) (شیمی، ۱، صفحه‌های ۳ تا ۶)

۱۲۳- گزینه «۲»

(مسئن بابامیری)

موارد اول و آخر نادرست‌اند.

بررسی موارد:

مورد اول: مطالعه نوع و میزان فراوانی عنصرها، توزیع ناهمگون آنها را در جهان هستی نشان می‌دهد.

مورد دوم: ستاره‌ها در سحابی‌ها شکل می‌گیرند، رشد می‌کنند و می‌میرند.

مورد سوم: واکنش‌پذیری یک خاصیت شیمیایی بوده و به عدد اتمی وابسته است و در ایزوتوپ‌های یک عنصر یکسان است.

مورد چهارم: فراوانی صرفاً تعداد اتم‌های یک ایزوتوپ است درصد فراوانی نیز نسبت فراوانی اتم‌های یک ایزوتوپ به تعداد اتم‌های کل نمونه است.

(کیهان زارگه الفبای هستی) (شیمی، ۱، صفحه‌های ۲ تا ۶)

گزینه درست:

$$\begin{aligned} \text{جرم اتمی پروتون} &: 1/0073 \Rightarrow \frac{1/0073 + 1/0087}{2} \\ \text{جرم اتمی نوترون} &: 1/0087 \\ \text{جرم اتمی میانگین هیدروژن} &: 1/008 \end{aligned}$$

توجه: به خاطر جرم کم الکترون از محاسبه آن صرف نظر شده است.

(کیوان زارگه الفبای هستی) (شیمی، ا، صفحه‌های ۱۰ و ۱۵)

۱۲۸- گزینه ۲»

(امیرسین طیبی)

ابتدا درصد فراوانی‌ها و جرم‌های اتمی میانگین عنصرهای A و X را محاسبه می‌کنیم:

$$\begin{aligned} \text{صورت سوال} & \rightarrow \begin{cases} 18A \rightarrow f_1 \\ 20A \rightarrow f_2 = 100 - f_1 \end{cases} \\ \frac{f_1}{100 - f_1} &= 1/5 \Rightarrow f_1 = 60\%, f_2 = 40\% \\ \bar{M}_A &= \frac{(18 \times 60) + (20 \times 40)}{100} = 18/8 \end{aligned}$$

$$\begin{aligned} \text{صورت سوال} & \rightarrow \begin{cases} 43X \rightarrow f_1 \\ 44X \rightarrow f_2 = 100 - f_1 \end{cases} \\ \frac{f_1}{100 - f_1} &= 0/25 \Rightarrow f_1 = 20\%, f_2 = 80\% \\ \bar{M}_X &= \frac{(43 \times 20) + (44 \times 80)}{100} = 43/8 \end{aligned}$$

در نتیجه جرم مولی A_2X_3 به دست خواهد آمد:

$$\begin{aligned} \bar{M}_{A_2X_3} &= (2 \times \bar{M}_A) + (3 \times \bar{M}_X) = (2 \times 18/8) + (3 \times 43/8) \\ &= 169 \frac{g}{mol} \end{aligned}$$

می‌دانیم در هر مولکول A_2X_3 ، ۲ اتم A وجود دارد و ۴۰٪ از اتم‌های A، ایزوتوپ 20A هستند:

$$\begin{aligned} ? \text{atom } {}^20A : 118/3g A_2X_3 \times \frac{1 \text{ mol } A_2X_3}{169g A_2X_3} \\ \times \frac{N_A \text{ مولکول } A_2X_3}{1 \text{ mol } A_2X_3} \times \frac{2 \text{ atom } A}{1 \text{ مولکول } A_2X_3} \times \frac{40 \text{ atom } {}^20A}{100 \text{ atom } A} \\ = 0/56 N_A \text{ atom } {}^20A \end{aligned}$$

(کیوان زارگه الفبای هستی) (شیمی، ا، صفحه‌های ۱۳ تا ۱۹)

۱۲۹- گزینه ۱»

(میر معین السادات)

موارد آ و ت درست هستند.

بررسی همه موارد:

(الف) از ۱۱۸ عنصر، ۹۲ عنصر طبیعی و ۲۶ عنصر ساختگی‌اند یعنی طبیعی‌ها حدود ۳/۵ برابر ساختگی‌ها هستند.
(ب) نیم‌عمر عنصر تکنسیم کم است.

(پ) از رادیوایزوتوپ ${}^{235}U$ که در مخلوط طبیعی فراوانی کمتر از ۰/۷ درصد دارد، اغلب به عنوان سوخت راکتور اتمی استفاده می‌شود؛ نه فراوان‌ترین ایزوتوپ آن.
(ت) در محل توده سرطان به دلیل رشد سریع سلول‌ها، هر دو نوع گلوکز بیشتر جمع شده و بیشتر مصرف می‌شوند.

(کیوان زارگه الفبای هستی) (شیمی، ا، صفحه‌های ۷ تا ۹)

۱۳۰- گزینه ۳»

(ممد صفرزاده)

ابتدا باید عدد جرمی X^{3+} را به دست آوریم.

$$X^{3+} \Rightarrow e = p - (3) \Rightarrow 23 = p - 3 \Rightarrow p = 26$$

$$n - p = 4 \Rightarrow n = 30 \Rightarrow A = n + p = 30 + 26 = 56$$

طبق اطلاعات سوال عدد جرمی تقریباً برابر جرم مولی X است، پس داریم:

$$56 X \Rightarrow \text{جرم مولی} = 56g \cdot \text{mol}^{-1}$$

حال جرم مولی X_2O_3 را به دست می‌آوریم:

$$\text{جرم مولی } X_2O_3 = (2 \times 56) + (3 \times 16) = 160g \cdot \text{mol}^{-1}$$

حال داریم:

$$\begin{aligned} 16g X_2O_3 \times \frac{1 \text{ mol } X_2O_3}{160g X_2O_3} \times \frac{\Delta \text{ mol یون}}{1 \text{ mol } X_2O_3} \times \frac{N_A \text{ یون}}{1 \text{ mol یون}} \\ = 0/5 N_A \text{ یون} \end{aligned}$$

(کیوان زارگه الفبای هستی) (شیمی، ا، صفحه‌های ۱۶ تا ۱۹)

۱۳۱- گزینه ۲»

(سید رضا رضوی)

ابتدا جرم اتمی عنصر Z را بر حسب amu تعیین می‌کنیم:

$$\begin{aligned} 1 \text{ atom } Z \times \frac{1 \text{ mol } Z}{6/02 \times 10^{23} \text{ atom } Z} \times \frac{M_Z g Z}{1 \text{ mol } Z} = 6/64 \times 10^{-23} g Z \\ \rightarrow M_Z = 40 \text{ amu} \end{aligned}$$

$$Y \text{ جرم اتمی} = 3 \times 40 = 120 \text{ amu}$$

$$X \text{ جرم اتمی} = 1/5 \times 120 = 180 \text{ amu}$$

(کیوان زارگه الفبای هستی) (شیمی، ا، صفحه ۱۷)

۱۳۲- گزینه ۴»

(ممد صالحی)

موارد ب و پ درست هستند.

بررسی عبارت‌ها:

(آ) هر ۳ ایزوتوپ در طبیعت فراوانی برابر با صفر دارند و ساختگی هستند.

(ب) با توجه به شکل ۳ کتاب درسی، منیزیم ۳ ایزوتوپ طبیعی دارد و می‌توان آن را به شکل نوار درآورد.

(پ) نیم‌عمر هر ایزوتوپ نشان می‌دهد که آن ایزوتوپ تا چه اندازه پایدار است.

(ت) اغلب هسته‌هایی که نسبت تعداد نوترون به تعداد پروتون آن‌ها بیشتر یا برابر با ۱/۵ است ناپایدارند.

(کیوان زارگه الفبای هستی) (شیمی، ا، صفحه‌های ۵ و ۶)

۱۳۳- گزینه ۲»

(میثم کوثری لنگری)

موارد دوم، سوم و چهارم درست هستند.

مورد اول) عدد اتمی عنصر C برابر ۲۴ می‌باشد.

مورد دوم) در دوره دوم ۵ عنصر B و C و N و O و F از ۸ عنصر نماد تک‌حرفی

$$\frac{5}{8} \times 100 = 62/5$$

دارند.

مورد سوم) عدد اتمی عناصر D و E برابر ۹ و ۳۱ است و عدد اتمی عنصر F برابر

۱۱ می‌باشد.

$$9D \Rightarrow e = 9, 31E \Rightarrow e = 31, 11F \Rightarrow e = 11, p = 11$$

تعداد الکترون‌ها در هر یون کربنات را محاسبه می‌کنیم:

$$\text{CO}_3^{2-} \text{ الکترون‌های } = 6 + 3(8) - (-2) = 32e^-$$

حال خواسته سوال را محاسبه می‌کنیم:

$$? \text{amu} = 15 \text{gCO}_3^{2-} \times \frac{1 \text{molCO}_3^{2-}}{60 \text{gCO}_3^{2-}} \times \frac{6/02 \times 10^{23} \text{CO}_3^{2-}}{1 \text{molCO}_3^{2-}}$$

$$\times \frac{32e^-}{1 \text{CO}_3^{2-}} \times \frac{0/0005 \text{amu}}{1e^-} = 2/408 \times 10^{21} \text{amu} \text{ الکترون}$$

(کیهان زارکاه الفبای هستی) (شیمی ۱، صفحه‌های ۱۶ تا ۱۹)

۱۳۸- گزینه ۱

(ممد رضا جمشیری)

عبارت (آ) نادرست است. پرتوهای ایکس > فرسرخ > ریزموج: طول موج عبارت (ب) درست است. رنگ شعله ترکیبات مس، سدیم و لیتیم به ترتیب سبز، زرد و سرخ است.

عبارت (پ) درست است. ناحیه مرئی سدیم دارای ۷ عدد خط رنگی و هلیوم دارای ۶ عدد خط رنگی می‌باشد.

عبارت (ت) نادرست است. انرژی نور بنفش به علت طول موج کوتاه‌تر از انرژی نور زرد بیشتر است.

عبارت (ث) درست است. طبق تصویر صفحه ۲۰ کتاب درسی

(کیهان زارکاه الفبای هستی) (شیمی ۱، صفحه‌های ۱۹ تا ۲۳)

۱۳۹- گزینه ۳

(ممد رضا جمشیری)

مورد اول و آخر نادرست است.

بررسی موارد:

مورد اول: هیچ‌گونه رابطه‌ای بین تعداد خطوط مرئی و عدد اتمی وجود ندارد، به‌طور مثال در ناحیه مرئی تعداد خطوط طیف نشری خطی در اتم‌های لیتیم و هیدروژن برابر با ۴ است.

مورد دوم: هر قدر طول موج یک پرتو بیشتر باشد، انرژی آن کمتر است؛ پس میزان انحراف آن پرتو پس از عبور از منشور نیز کمتر است.

مورد سوم: رنگ نور حاصل از قرار دادن سدیم نیترات بر روی شعله، زرد است که طول موج آن از نور قرمز کمتر و از نور آبی بیشتر است.

مورد چهارم: دانشمندان با دستگاهی به نام طیف‌سنج نوری، اطلاعات ارزشمندی از پرتوهای گسیل شده به‌دست آوردند.

(کیهان زارکاه الفبای هستی) (شیمی ۱، صفحه‌های ۲۰، ۲۲ و ۲۳)

۱۴۰- گزینه ۲

(میلاد شیخ‌الاسلامی فیاوی)

موارد سوم و چهارم درست هستند.

بررسی عبارت‌ها:

مورد اول) نادرست - جایگاه خطوط (طول موج‌ها) برای هر عنصر منحصر به فرد است؛ اما تعداد خطوط می‌تواند برای دو عنصر یکسان باشد. عناصر لیتیم و هیدروژن هر دو دارای ۴ خط در ناحیه مرئی هستند!

مورد دوم) نادرست - طیف نشری خطی لیتیم در ناحیه مرئی دارای ۴ خط با طول موج مختلف است، اما در صورت سوال اشاره‌ای به ناحیه مرئی نشده!

مورد سوم) درست - رنگ شعله فلز مس و ترکیبات آن سبز است.

مورد چهارم) درست - اتم‌های بخار سدیم به دنبال جذب انرژی، نور زرد رنگ گسیل می‌کنند.

مورد پنجم) نادرست - رنگین‌کمان دارای ۷ رنگ اصلی است اما همین ۷ رنگ اصلی دارای بی‌نهایت طول موج مختلف هستند.

(کیهان زارکاه الفبای هستی) (شیمی ۱، صفحه‌های ۲۰، ۲۲ و ۲۳)

مورد چهارم) عنصر **G**، گوگرد با عدد اتمی ۱۶ است که در گروه ۱۶ جای دارد.

مورد پنجم) عنصر **H**، آرسنیک و دارای عدد اتمی ۳۳ است.

$$33\text{H} \Rightarrow p = e = 33$$

$$n - e = 4 \quad n = 4 + 33 = 37 \quad \text{عدد جرمی} = n + p = 37 + 33 = 70$$

(کیهان زارکاه الفبای هستی) (شیمی ۱، صفحه‌های ۱۰ تا ۱۲)

۱۳۴- گزینه ۲

(ممد رضا جمشیری)

فقط مورد دوم درست است.

بررسی موارد:

مورد اول: ایزوتوبی که به عنوان مقیاس جرم نسبی سایر اتم‌ها به‌کار می‌رود، ^{12}C

است، جرم این اتم معادل 12amu است ولی جرم مولی آن برابر 12g.mol^{-1} است.

مورد دوم: طبق متن کتاب درسی صحیح است.

مورد سوم: کاربرد طیف نشری خطی از برخی جنبه‌ها مانند کاربرد خط نماد (بارکد) روی بسیاری از کالاهاست.

مورد چهارم: در یک نمونه یک گرمی از گاز هیدروژن، به اندازه عدد آووگادرو اتم هیدروژن وجود دارد.

(کیهان زارکاه الفبای هستی) (شیمی ۱، صفحه‌های ۱۳، ۱۴، ۱۷، ۱۸، ۲۲ و ۲۳)

۱۳۵- گزینه ۱

(میتیم کوثری نلگری)

در حساب کردن جرم یک اتم از جرم e صرف‌نظر می‌شود. (چون مقدار بسیار کوچکی است.)

$$^{24}_{12}\text{Mg}: \frac{12e}{n+p+e} = \frac{12 \times 0/0005}{n+p} = \frac{12 \times 0/0005 \text{amu}}{24 \times 1 \text{amu}}$$

عدد جرمی

$$^4_2\text{He}: \frac{2e}{n+p+e} = \frac{2 \times 0/0005}{n+p} = \frac{2 \times 0/0005 \text{amu}}{4 \times 1 \text{amu}}$$

عدد جرمی

$$\frac{12 \times 0/0005 \text{amu}}{24 \times 1 \text{amu}} = \frac{1}{2} = 0/5$$

$$\frac{2 \times 0/0005 \text{amu}}{4 \times 1 \text{amu}} = \frac{1}{2} = 0/5$$

نکته: اطلاعات ابتدای سوال اضافی بود.

(کیهان زارکاه الفبای هستی) (شیمی ۱، صفحه‌های ۱۴ و ۱۵)

۱۳۶- گزینه ۱

(ممد رضا جمشیری)

تعداد مول مس و قلع را به ترتیب با **X** و **Y** نمایش می‌دهیم؛ پس داریم:

$$x + y = \frac{3/612 \times 10^{22}}{6/02 \times 10^{23}} = 0/06 \text{mol}$$

$$x \text{molCu} \times \frac{64 \text{gCu}}{1 \text{molCu}} + y \text{molSn} \times \frac{118 \text{gSn}}{1 \text{molSn}}$$

$$64x + 118y = 6/54 \Rightarrow 32x + 59y = 3/27$$

$$\begin{cases} x + y = 0/06 \\ 32x + 59y = 3/27 \end{cases} \Rightarrow x = 0/01, y = 0/05$$

با توجه به حل معادلات نسبت خواسته شده برابر ۰/۲ است.

(کیهان زارکاه الفبای هستی) (شیمی ۱، صفحه‌های ۱۳ تا ۱۹)

۱۳۷- گزینه ۲

(امیرسین طیبی)

جرم مولی یون کربنات (CO_3^{2-}) را محاسبه می‌کنیم:

$$M_{\text{CO}_3^{2-}} = 12 + 3(16) = 60 \text{g.mol}^{-1}$$

ریاضی ۳+ پایه مرتبط

۱۴۱- گزینه ۲»

(امیرمسین فسروی)

$$\lim_{x \rightarrow (-1)^-} f(x) = \lim_{x \rightarrow (-1)^+} f(x) = f(-1)$$

$$x = -1 \Rightarrow \begin{cases} 3(-1) = a \times (-1) - b \\ -a - b = -3 \rightarrow a + b = 3 \text{ (I)} \end{cases}$$

$$\lim_{x \rightarrow 2^-} f(x) = \lim_{x \rightarrow 2^+} f(x) = f(2)$$

$$x = 2 \Rightarrow \begin{cases} a \times 2 - b = 2^2 - 1 \\ 2a - b = 3 \text{ (II)} \end{cases}$$

$$\xrightarrow{\text{دستگاه (I), (II)}} a = 3, b = \frac{a}{b} = \frac{3}{2}$$

(مر و پیوستگی، ریاضی ۲، صفحه‌های ۱۳۷ تا ۱۳۶)

۱۴۲- گزینه ۲»

(یوسف عزاز)

شیب نقاط A و E مثبت و از طرفی شیب نقطه A از E بیشتر است. (چون خط مماس در نقطه A با محور افق زاویه بیشتری می‌سازد).
شیب نقاط B و D برابر صفر است. (چون در این نقاط خط موازی محور Xها بر تابع مماس شده است).

شیب نقطه C نیز منفی است، پس بین تمامی نقاط دارای کمترین شیب است.

$$m_C < m_D = m_B < m_E < m_A$$

(مشتق، ریاضی ۳، صفحه‌های ۶۶ تا ۷۶)

۱۴۳- گزینه ۳»

(رضا علی‌نواز)

$$\lim_{x \rightarrow -1^-} \frac{|x||x|+2}{|x^3+1|} = \lim_{x \rightarrow -1^-} \frac{(-x)(-2)+2}{-(x^3+1)}$$

$$= \lim_{x \rightarrow -1^-} \frac{2x+2}{-(x^3+1)} = \frac{0}{0} \text{ مبهم}$$

$$\xrightarrow{\text{رفع ابهام}} \lim_{x \rightarrow -1^-} \frac{2(x+1)}{-(x+1)(x^2-x+1)} = \frac{2}{-(1+1+1)} = -\frac{2}{3}$$

(مر و پیوستگی، ریاضی ۲، صفحه‌های ۱۲۸ تا ۱۳۶)

۱۴۴- گزینه ۲»

(سویل ساسانی)

حاصل حد تابع f در $x \rightarrow \infty$ عددی غیرصفر شده است، پس درجه پرتوان‌های صورت و مخرج باید مساوی باشند، پس:

$$m - 2 = 3 \rightarrow m = 5$$

$$\lim_{x \rightarrow \infty} \frac{kx^3}{3x^3} = \frac{2}{5} \rightarrow \frac{k}{3} = \frac{2}{5} \rightarrow k = \frac{6}{5} = 1\frac{1}{5}$$

$$k + m = 1\frac{1}{5} + 5 = 6\frac{1}{5}$$

(مر بی‌نهایت و مر در بی‌نهایت، ریاضی ۳، صفحه‌های ۵۸ تا ۶۴)

۱۴۵- گزینه ۴»

(رضا علی‌نواز)

می‌دانیم [x] در تمام نقاط صحیح فاقد حد است. اما در نقاطی که ضریب براکت صفر باشد دارای حد خواهد بود. پس:

$$x^3 - x = 0 \rightarrow x(x^2 - 1) = 0 \Rightarrow \begin{cases} x = 0 \\ x^2 - 1 = 0 \rightarrow x^2 = 1 \rightarrow x = \pm 1 \end{cases}$$

که مجموع مقادیر برابر صفر می‌باشد.

(مر و پیوستگی، ریاضی ۲، صفحه‌های ۱۲۴ تا ۱۳۶)

۱۴۶- گزینه ۴»

(شیوا امینی)

تابع از مبدأ مختصات عبور کرده است:

$$y(0) = 0 \Rightarrow b = 0$$

ضمناً می‌دانیم طبق شکل $\lim_{x \rightarrow +\infty} f(x) = 3$ است، پس:

$$\lim_{x \rightarrow +\infty} \frac{ax}{\sqrt{x^2}} = 3 \rightarrow \frac{ax}{x} = 3 \rightarrow a = 3$$

$$\text{پس: } b - 2a = 0 - 2 \times 3 = -6$$

(مر بی‌نهایت و مر در بی‌نهایت، ریاضی ۳، صفحه‌های ۵۸ تا ۶۴)

۱۴۷- گزینه ۱»

(یوسف عزاز)

ابتدا معادله خط d را می‌نویسیم.

$$\left\{ \begin{aligned} f'(4) = \frac{5}{2} = m \quad y = mx + h \rightarrow y = \frac{5}{2}x + h \rightarrow (4, 1) \\ (4, 1) \end{aligned} \right.$$

$$11 = \frac{5}{2} \times 4 + h \rightarrow h = 1$$

حال مختصات نقاط A و B را به‌دست می‌آوریم.

$$y = \frac{5}{2}x + 1 \rightarrow \begin{cases} x = 2 \rightarrow y = \frac{5}{2} \times 2 + 1 = 6 \rightarrow A(2, 6) \\ x = 8 \rightarrow y = \frac{5}{2} \times 8 + 1 = 21 \rightarrow B(8, 21) \end{cases}$$

در نهایت طول پاره خط AB را حساب می‌کنیم.

$$\overline{AB} = \sqrt{(y_B - y_A)^2 + (x_B - x_A)^2} = \sqrt{(21 - 6)^2 + (8 - 2)^2}$$

$$= \sqrt{225 + 36} = \sqrt{261} = 3\sqrt{29}$$

(مشتق، ریاضی ۳، صفحه‌های ۶۶ تا ۷۶)

۱۴۸- گزینه ۳»

(احمد رضا ذکریزاده)

$$\lim_{x \rightarrow (-4)^+} \left(\left| -\frac{x}{2} \right| - \left| \frac{x+1}{3} \right| \right) = |2^-| - |(-1)^+| = 1 - (-1) = 2$$

$$\lim_{x \rightarrow (-4)^-} \left(\left| -\frac{x}{2} \right| - \left| \frac{x+1}{3} \right| \right) = |2^+| - |(-1)^-| = 2 - (-2) = 4$$

$$f(-4) = 2 - (-1) = 3$$

تابع f نه پیوستگی راست دارد و نه چپ.

(مر و پیوستگی، ریاضی ۲، صفحه‌های ۱۳۷ تا ۱۳۴)

۱۴۹- گزینه «۳»

(معمری برای)

اگر تابع f در $x=a$ ناپیوسته باشد، پس $x=a$ ریشهٔ مخرج است.

$$3x^2 + 7x - 6 = 0 \rightarrow (3x-2)(x+3) = 0$$

$$\rightarrow x = \frac{2}{3} \text{ یا } x = -3$$

بنابراین a می‌تواند -3 یا $\frac{2}{3}$ باشد.حاصل حد عدد حقیقی است، پس با یک حد صفر صفرم روبرو می‌شویم. از طرف دیگر $\lim_{x \rightarrow a} f(x) = 0$ است، یعنی بعد از حذف عامل $(x-a)$ از صورت و مخرج حاصل حد برابر صفر است. بنابراین صورت کسر دارای ریشهٔ مضاعف $x=a$ و عامل $(x-a)^2$ می‌باشد:

$$1) \quad a = -3 \rightarrow \text{صورت: } m(x+3)^2 = mx^2 + 6mx + 9m$$

از مقایسهٔ عبارت بالا با عبارت $mx^2 - 12x + n$ واضح است که $6m = -12$ و $m = -2$ است. هم‌چنین $n = 9m$ است:

$$n = 9m = 9 \times (-2) = -18 \rightarrow m + n = -20$$

$$2) \quad a = \frac{2}{3} \rightarrow \text{صورت: } m(x - \frac{2}{3})^2 = mx^2 - \frac{4}{3}mx + \frac{4}{9}m$$

مشابه حالت قبل، در مقایسه با عبارت $mx^2 - 12x + n$ داریم:

$$-\frac{4}{3}m = -12 \rightarrow m = 9 \rightarrow n = \frac{4}{9}m = 4 \rightarrow m + n = 13$$

(مر و پیوستگی، ریاضی ۲، صفحه‌های ۱۳۷ تا ۱۴۲)

۱۵۰- گزینه «۲»

(اعدادضا ذکرها)

$$\lim_{x \rightarrow 0^+} [\sin^2 x] = [0^+] = 0, \quad \lim_{x \rightarrow 0^-} [-\sin^2 x] = [0^-] = -1$$

$$\lim_{x \rightarrow 0} \frac{\cos^2 x - 1}{\sin^2 x} = \lim_{x \rightarrow 0} \frac{-2\sin^2 x}{\sin^2 x} = -2$$

(مر و پیوستگی، ریاضی ۲، صفحه‌های ۱۲۸ تا ۱۳۶)

۱۵۱- گزینه «۱»

(توسعه اسری)

با توجه به نقاط $A(2-h, f(2-h))$ و $B(2+h, f(2+h))$ و تعریف شیب خط داریم:

$$m_{AB} = \frac{f(2+h) - f(2-h)}{2+h-2-h} = \frac{f(2+h) - f(2-h)}{2h}$$

شیب پاره‌خط AB وقتی $h \rightarrow 0$ برابر است با:

$$\lim_{h \rightarrow 0} m_{AB} = \lim_{h \rightarrow 0} \frac{f(2+h) - f(2-h)}{2h} = \frac{3 - (-1)}{2} \times f'(2) = f'(2)$$

نکته: اگر در f مشتق پذیر باشد:

$$\lim_{h \rightarrow 0} \frac{f(a+mh) - f(a+nh)}{kh} = \left(\frac{m-n}{k}\right) f'(a)$$

(مشتق، ریاضی ۳، صفحه‌های ۶۶ تا ۷۴)

۱۵۲- گزینه «۱»

(سعید پناهی)

باتوجه به اینکه $x \rightarrow +\infty$ لذا از جمله بزرگتر (پایه بیشتر) فاکتور می‌گیریم.

$$x \rightarrow +\infty \Rightarrow -x \rightarrow -\infty$$

$$\lim_{x \rightarrow +\infty} \frac{3^{-x} \left(1 + \left(\frac{5}{3}\right)^{-x}\right)}{3^{-x} \left(3 + 5\left(\frac{5}{3}\right)^{-x}\right)} = \lim_{x \rightarrow +\infty} \frac{1 + \left(\frac{5}{3}\right)^{-x}}{3 + 5\left(\frac{5}{3}\right)^{-x}} = \frac{1}{3}$$

چون $-x \rightarrow -\infty$ لذا $\left(\frac{5}{3}\right)^{-x} \rightarrow \left(\frac{5}{3}\right)^{-\infty}$ یا همان $\left(\frac{3}{5}\right)^{+\infty}$ که برابر صفر می‌شود.

(مر بی‌نهایت و مر در بی‌نهایت) (ریاضی ۳، صفحه‌های ۵۸ تا ۶۴)

۱۵۳- گزینه «۴»

(سعید پناهی)

$$\lim_{x \rightarrow +\infty} x \left(\sqrt{\frac{9x-1}{x+1}} - 3 \right) = \lim_{x \rightarrow +\infty} x \left(\frac{\sqrt{9x-1} - 3}{\sqrt{x+1} + 3} \right)$$

$$= \lim_{x \rightarrow +\infty} \left(x \frac{-10}{\sqrt{9x-1} + 3} \right) = \lim_{x \rightarrow +\infty} \frac{-10x}{\sqrt{9x-1} + 3}$$

$$\approx \lim_{x \rightarrow +\infty} \frac{-10x}{\sqrt{x}}$$

$$= \lim_{x \rightarrow +\infty} \frac{-10}{\sqrt{x}} = -\frac{10}{\infty} = 0$$

(مر بی‌نهایت و مر در بی‌نهایت) (ریاضی ۳، صفحه‌های ۵۸ تا ۶۴)

۱۵۴- گزینه «۱»

(مسمن اسماعیل پور)

طبق تعریف مشتق $f'(a) = \lim_{x \rightarrow a} \frac{f(x) - f(a)}{x - a}$ است، پس:

$$\begin{cases} f(1) = 2 \Rightarrow (1, 2) \\ f'(1) = 3 \Rightarrow m = 3 \text{ شیب} \end{cases}$$

پس می‌توان معادلهٔ خط مماس را به‌صورت زیر نوشت:

$$y - f(1) = f'(1)(x - 1) \rightarrow y - 2 = 3(x - 1)$$

$$\Rightarrow y = 3x - 1 \xrightarrow{y=0} x = \frac{1}{3}$$

(مشتق) (ریاضی ۳، صفحه‌های ۶۶ تا ۷۴)

۱۵۵- گزینه «۴»

(علیرضا فیضیان)

در حد تابع اول، مخرج به ازای $x=1$ برابر صفر می‌شود. پس صورت هم باید به ازای $x=1$ صفر شود.

$$\Rightarrow 2 + 2^{a-1} - 6 = 0 \Rightarrow 2^{a-1} = 4 \Rightarrow a-1 = 2 \Rightarrow a = 3$$

$$\lim_{x \rightarrow 1} \frac{2^x + 2^{3-x} - 6}{2^{x-1} - 1} = 0 \quad \begin{cases} x \rightarrow 1 \\ t \rightarrow 2 \end{cases} \lim_{t \rightarrow 2} \frac{t + \frac{1}{t} - 6}{\frac{t}{2} - 1}$$

صورت و مخرج ضرب در t

$$\Rightarrow (-n+1)(n^2+2n+2) = -n(n^2+1)$$

$$\Rightarrow -n^3 - 2n^2 - 2n + n^2 + 2n + 2 = -n^3 - n$$

$$\Rightarrow 0 = n^2 - n - 2$$

$$n = -1 \text{ یا } n = 2$$

پس:

و دو نقطه مورد نظر $A(2, \frac{-1}{5})$ و $B(-1, 1)$ هستند.

$$AB = \sqrt{(-1-2)^2 + (1-\frac{-1}{5})^2} = \sqrt{9 + \frac{36}{25}} = \sqrt{\frac{261}{25}} = \frac{\sqrt{261}}{5}$$

(مد و پیوستگی، ریاضی ۲، صفحه‌های ۱۳۷ تا ۱۴۲)

۱۵۹- گزینه «۲»

(معمرفسن سلامی‌سینی)

با توجه به اینکه می‌دانیم $f(\frac{x+1}{x-1}) = f(1 + \frac{2}{x-1}) = f(1 + \frac{2}{x-1})$ لذا داریم:

$$\lim_{x \rightarrow 1^-} f(x) = \lim_{x \rightarrow -\infty} f(1 + \frac{2}{x-1}) = \lim_{x \rightarrow -\infty} f(\frac{x+1}{x-1})$$

$$= \lim_{x \rightarrow -\infty} [\frac{4x+9}{x+2}] = \lim_{x \rightarrow -\infty} [\frac{4x+8+1}{x+2}] = \lim_{x \rightarrow -\infty} [4 + \frac{1}{x+2}]$$

$$= [4 + 0^-] = [4^-] = 2$$

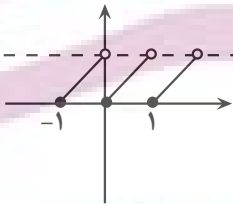
(مد بی‌نهایت و حد در بی‌نهایت) (ریاضی ۳، صفحه‌های ۵۸ تا ۶۴)

۱۶۰- گزینه «۴»

(امیرھوشنگ انصاری)

f در نقاط $k \in \mathbb{Z}$ ناپیوسته است پس باید وضعیت تابع $y = g(f(x))$ را در این نقاط بررسی کنیم.

$$y = g(f(x)) = [\cos \frac{\pi}{2}(x - [x])] \begin{cases} k^+ : [\cos \frac{\pi}{2}(0^+)] = 0 \\ k^- : [\cos \frac{\pi}{2}(1^-)] = 0 \\ k = [\cos \frac{\pi}{2}(0)] = 1 \end{cases}$$



پس تابع $g \circ f$ در همهٔ نقاط حد دارد ولی در نقاط صحیح ناپیوسته است.

(مد و پیوستگی) (ریاضی ۲، صفحه‌های ۱۳۸ تا ۱۴۲)

ریاضی ۱

۱۶۱- گزینه «۳»

(عباس الهی)

می‌دانیم متغیرهایی که قابل اندازه‌گیری هستند کمی و متغیرهایی که قابل اندازه‌گیری نیستند کیفی نامیده می‌شوند و متغیر کمی پیوسته به متغیری گفته می‌شود که اگر دو مقدار a و b را اختیار کند، هر مقدار بین آنها را نیز بتواند اختیار کند و متغیر کیفی اسمی متغیری است که غیرقابل شمارش بوده و ترتیب خاصی ندارد.

$$\lim_{t \rightarrow 2} \frac{t^2 - 6t + 8}{t^2 - t} = \lim_{t \rightarrow 2} \frac{2(t-2)(t-4)}{t(t-2)} = -2 \Rightarrow b = -2$$

$$\begin{aligned} \text{بنابراین: } \lim_{x \rightarrow b} \frac{\sqrt{x+a+3} + b}{x^3 - b^3} &= \frac{3}{b} \lim_{x \rightarrow -2} \frac{\sqrt{x+6} - 2}{x^3 + 8} \times \frac{\sqrt{x+6} + 2}{\sqrt{x+6} + 2} \\ &= \lim_{x \rightarrow -2} \frac{x+2}{(x+2)(x^2 - 2x + 4)(\sqrt{x+6} + 2)} = \frac{1}{48} \end{aligned}$$

(مد و پیوستگی) (ریاضی ۲، صفحه‌های ۱۳۸ تا ۱۳۶)

۱۵۶- گزینه «۳»

(سروش موئینی)

از شرط $f(1) = -1$ و $f(3) = \frac{-1}{2}$ داریم: $m = \frac{-1 - (-1)}{3 - 1} = \frac{0}{2} = 0$ شیب. پس $f(x) = \frac{1}{4}x - \frac{5}{4}$ و بنابراین:

$$f^{-1}(x) = 4x + 5$$

$$f(2x) = \frac{1}{4}x - \frac{5}{4} \quad f(|x|) = \frac{1}{4}|x| - \frac{5}{4}$$

پس وقتی $x \rightarrow -\infty$ با انتخاب جملات بتوان حاصل حد برابر است با:

$$\lim_{x \rightarrow -\infty} \frac{4x - \frac{1}{4}x}{\frac{1}{4}(-x) - x} = \frac{\frac{15}{4}x}{-\frac{5}{4}x} = \frac{15}{-5} = -3$$

(مد بی‌نهایت و حد در بی‌نهایت) (ریاضی ۳، صفحه‌های ۵۸ تا ۶۴)

۱۵۷- گزینه «۳»

(سعیل مسلمان‌پور)

نقطهٔ مماس خط و تابع f ، هم عضو خط و هم عضو تابع f می‌باشد بنابراین داریم:

$$y(3) = f(3) \xrightarrow{y=3x-5} f(3) = 3 \times 3 - 5 = 4$$

و هم چنین با توجه به مفهوم خط مماس و ارتباط آن با مشتق داریم:

$$f'(3) = 3 \text{ شیب خط}$$

حاصل حد مبهم است، برای رفع ابهام از اتحاد مزدوج استفاده می‌کنیم:

$$\begin{aligned} \lim_{x \rightarrow 3} \frac{\sqrt{f(x)} - 2}{x^3 - 2x - 3} \times \frac{\sqrt{f(x)} + 2}{\sqrt{f(x)} + 2} &= \lim_{x \rightarrow 3} \frac{f(x) - 4}{(x-3)(x+1) \times 4} \\ &= \lim_{x \rightarrow 3} \frac{f(x) - 4}{x-3} \times \lim_{x \rightarrow 3} \frac{1}{x+1} \times \frac{1}{4} = 3 \times \frac{1}{4} \times \frac{1}{4} = \frac{3}{16} \\ f'(3) &= 3 \end{aligned}$$

(مشتق) (ریاضی ۳، صفحه‌های ۶۶ تا ۷۶)

۱۵۸- گزینه «۲»

(سروش موئینی)

در $x = n \in \mathbb{Z}$ داریم:

$$\lim_{x \rightarrow n^-} f(x) = \frac{-n+1}{(-n)^2+1}, \quad \lim_{x \rightarrow n^+} f(x) = \frac{-n-1+1}{(-n-1)^2+1}$$

پس شرط پیوستگی این است که:

$$\frac{-n+1}{n^2+1} = \frac{-n}{n^2+2n+2}$$

۱۶۵- گزینه «۳»

(عمران پوررمیم)

انحراف معیار شش عدد برابر با ۳ داده شده است. پس واریانس مساوی با ۹ خواهد بود. بنابراین داریم:

$$\frac{(x_1 - \bar{x})^2 + (x_2 - \bar{x})^2 + \dots + (x_6 - \bar{x})^2}{6} = 9$$

$$\Rightarrow (x_1 - \bar{x})^2 + (x_2 - \bar{x})^2 + \dots + (x_6 - \bar{x})^2 = 54$$

اگر n داده برابر با مقدار میانگین به آنها اضافه کنیم، داریم:

$$\sigma = 1 \Rightarrow \sigma^2 = 1$$

$$\Rightarrow \sigma^2 = \frac{(x_1 - \bar{x})^2 + (x_2 - \bar{x})^2 + \dots + (x_6 - \bar{x})^2 + \overbrace{n(\bar{x} - \bar{x})^2}^{\text{صفر}}}{6 + n} = 1$$

$$\frac{54 + 0}{6 + n} = 1 \Rightarrow 6 + n = 54 \Rightarrow n = 54 - 6 = 48$$

(آمار، ریاضی ۲، صفحه‌های ۱۵۳ تا ۱۶۰)

(مهردار استقلالیان)

۱۶۶- گزینه «۴»

$$\bar{x} = \frac{4(10) + 4(12) + 4(17) + 4(25)}{16} = \frac{256}{16} = 16$$

$$\sigma^2 = \frac{4(-6)^2 + 4(-4)^2 + 4(1)^2 + 4(9)^2}{16} = \frac{4 \times 134}{16} = \frac{134}{4}$$

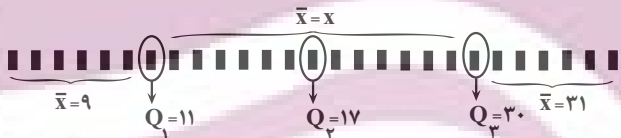
$$\Rightarrow \sigma^2 = \frac{\sqrt{134}}{2}$$

$$\Rightarrow C_v = \frac{\sigma}{\bar{x}} = \frac{\sqrt{134}}{32}$$

(آمار، ریاضی ۲، صفحه‌های ۱۵۳ تا ۱۶۰)

۱۶۷- گزینه «۲»

(سروش موئینی)



$$\text{میانگین کل} = \frac{\text{جمع کل}}{\text{تعداد کل}} = \frac{6 \times 9 + 11 + 13x + 30 + 31 \times 6}{27} = 17$$

$$\Rightarrow 459 = 54 + 186 + 41 + 13x$$

$$\Rightarrow 178 = 13x \Rightarrow x = \frac{178}{13} = 13 \frac{6}{13}$$

(آمار، ریاضی ۲، صفحه‌های ۱۵۳ تا ۱۶۳)

۱۶۸- گزینه «۲»

(امیر هوشنگ انصاری)

$$S = \{5, 8, 11, 14, 17, 20, \dots, 80, 83, 86, 89, 92, 95\}$$

هرچقدر این پنج عدد متوالی بزرگتر باشند میانگین بزرگتر و در نتیجه ضریب تغییرات کوچکتری دارند. در ضمن چون فاصله این اعداد ثابت است، انحراف معیار در هر زیرمجموعه ۵ عضوی ثابت است.

$$\{83, 86, 89, 92, 95\} \rightarrow \bar{x} = 89, \sigma = \sqrt{\frac{36 + 9 + 9 + 36}{5}} = 3\sqrt{2}$$

متغیرهای کمی گسسته: تعداد فارغ‌التحصیلان دانشگاه شریف در سال ۱۴۰۰
متغیرهای کمی پیوسته: شاخص توده بدن، دمای یک لیوان چای، میزان مصرف
بنزین به لیتر.

متغیرهای کیفی ترتیبی: درجه افراد در سازمان راهنمایی و رانندگی شهر تهران،
کیفیت محصولات

متغیرهای کیفی اسمی: وضعیت آب و هوا، اقوام ایرانی، رنگ مو

(آمار، ریاضی ۱، صفحه‌های ۱۵۹ تا ۱۷۰)

۱۶۹- گزینه «۳»

(امیرمسین نیکان)

اگر در کلیه داده آماری، یکی از شاخص‌های پراکندگی، صفر باشد، یعنی آن
داده‌های آماری با هم برابر هستند. $c = 2 - 2b - 1 = 2a - 4 \leftarrow$ هر ۴ داده
آماری ما ۴ هستند و سؤال مجموع مربعات داده‌ها را از ما خواسته است که
می‌شود:

$$4^2 + 4^2 + 4^2 + 4^2 = 4 \times 16 = 64$$

توجه: در این سؤال، نیازی به محاسبه خود a, b, c نداشتیم.

(آمار، ریاضی ۲، صفحه‌های ۱۵۳ تا ۱۵۹)

۱۶۳- گزینه «۲»

(پرشتک امانی)

$$\begin{aligned} \text{حالت اول} \Rightarrow b &= \frac{2+1+0+4+4+a}{6} \\ &= \frac{11+a}{6} \\ \text{حالت دوم} \Rightarrow b &= \frac{2+1+0+4+4+a+3}{7} \\ &= \frac{14+a}{7} \end{aligned}$$

$$\text{میانگین ثابت است} \Rightarrow \frac{11+a}{6} = \frac{14+a}{7} \Rightarrow 77 + 7a = 84 + 6a$$

$$\rightarrow a = 84 - 77 = 7$$

در نتیجه:

$$\frac{11+a}{6} = b \rightarrow \frac{11+7}{6} = 3 \Rightarrow b = 3$$

$$a - b = 4$$

پس:

نکته: چون داده اضافه شده تغییری در میانگین ایجاد نکرده پس با خود میانگین برابر بوده در نتیجه $b = 3$ است.

(آمار، ریاضی ۲، صفحه‌های ۱۵۳ تا ۱۵۵)

۱۶۴- گزینه «۴»

(سیار داوطلب)

هرچه داده حذف شده به میانگین نزدیک‌تر باشد، تغییرات میانگین جدید نسبت به
میانگین قدیم کم‌تر است. میانگین داده‌ها را به دست می‌آوریم:

$$\bar{x} = \frac{11 + 3(12) + 13 + 14 + 16}{7} = \frac{90}{7} \approx 12 \frac{6}{7}$$

عدد ۱۳ به $12 \frac{6}{7}$ نزدیک‌تر است. بنابراین با حذف این داده کمترین تغییر در
میانگین به وجود می‌آید.

(آمار، ریاضی ۲، صفحه‌های ۱۵۳ تا ۱۵۵)

$$Cv = \frac{\sigma}{x} = \frac{3\sqrt{2}}{89} = a \rightarrow [1778a] = [6\sqrt{2}] = 8$$

(آمار) (ریاضی ۲، صفحه‌های ۱۵۳ تا ۱۶۰)

۱۶۹- گزینه «۲»

(مدرسین سلامی فسینی)

چون اختلاف میانگین از داده‌ها به ترتیب از کوچک به بزرگ داده شده است و می‌دانیم که با افزودن یا کاستن عددی به داده‌ها مقدار دامنه تغییر نمی‌کند پس $a - b = 14$ می‌باشد. و چون می‌دانیم مجموع اختلاف میانگین از داده‌ها برابر صفر است لذا داریم:

$$a + 3 + 2 + 0 + (-3) + b = 0 \rightarrow a + b = -2$$

حال داریم:

$$\begin{cases} a - b = 14 \\ a + b = -2 \\ a = 6, b = -8 \end{cases}$$

حال داریم:

$$\begin{aligned} \sigma^2 &= \frac{\sum(x_i - \bar{x})^2}{n} = \frac{(6)^2 + 3^2 + 2^2 + 0^2 + (-3)^2 + (-8)^2}{6} \\ &= \frac{36 + 9 + 4 + 0 + 9 + 64}{6} = \frac{122}{6} = \frac{61}{3} \\ \Rightarrow \sigma^2 &= \frac{61}{3} \Rightarrow Cv = \frac{\sigma}{x} = \frac{\sqrt{\frac{61}{3}}}{10} \cong \frac{\sqrt{20}}{10} = \frac{4}{10} = 0.44 \end{aligned}$$

(آمار) (ریاضی ۲، صفحه‌های ۱۵۳ تا ۱۶۰)

۱۷۰- گزینه «۴»

(عباس اشرفی)

واریانس داده‌های بین ۴ و ۲۴ برابر است با:

$$\frac{(4-14)^2 + (5-14)^2 + \dots + (23-14)^2 + (24-14)^2}{21} = \sigma^2$$

$$\rightarrow (4-14)^2 + \dots + (24-14)^2 = 21\sigma^2$$

میانگین داده‌های ۴، ۸، ۱۲، ۱۶، ۲۰، ۲۴ و داده‌های باقی‌مانده برابر ۱۴ است.

$$\frac{(5-14)^2 + (6-14)^2 + (7-14)^2 + (9-14)^2 + \dots}{15}$$

$$= \frac{21\sigma^2 - (4-14)^2 - (8-14)^2 - \dots - (24-14)^2}{15}$$

$$= \frac{21\sigma^2 - 100 - 36 - 4 - 4 - 36 - 100}{15} = \frac{21\sigma^2 - 280}{15} = \frac{7\sigma^2}{5} = \frac{56}{3}$$

مقدار k برابر $\frac{7}{5}$ است.

(آمار) (ریاضی ۲، صفحه‌های ۱۵۳ تا ۱۵۹)

ایران توانسته
توشه‌ای برای موفقیت

زمین‌شناسی

۱۷۱- گزینه ۲

(صغری اصل‌معموری)

عنصر روی، از عناصر فلزی مهم به‌شمار می‌رود و یک عنصر جزئی اساسی با منشأ زمینی است که بیشتر از طریق گیاهان وارد بدن انسان می‌شود. روی، علاوه بر اینکه در کانی‌های سولفیدی به مقدار زیاد وجود دارد، در سنگ‌های آهکی و برخی سنگ‌های آتشفشانی نیز فراوان است. عوارض کمبود روی، شامل کوتاهی قد و اختلال در سیستم ایمنی بدن است.

(زمین‌شناسی و سلامت) (زمین‌شناسی، صفحه‌های ۸۲ و ۸۳)

۱۷۲- گزینه ۳

(امیرعلی ملک‌آرا)

بررسی مورد نادرست:

- منشأ همه عناصر سازنده بدن جانداران زمینی می‌باشد.

(زمین‌شناسی و سلامت) (زمین‌شناسی، صفحه‌های ۷۴ تا ۷۶)

۱۷۳- گزینه ۳

(فرشید مشعریور)

جیوه، عنصری سمی است که از سنگ‌های آتشفشانی، چشمه‌های آب گرم، در طی فرایند استخراج مواد معدنی و جداسازی طلا از کانسنگ آن به‌دست می‌آید. سلنیم، یک عنصر اساسی ضد سرطان است که در کانی‌های سولفیدی و به‌خصوص در معادن طلا و نقره، چشمه‌های آب گرم، سنگ‌های آتشفشانی و خاک‌های حاصل از آنها به مقدار زیاد یافت می‌شود.

(زمین‌شناسی و سلامت) (زمین‌شناسی، صفحه‌های ۸۰ و ۸۲)

۱۷۴- گزینه ۳

(روزبه اسحاقیان)

از آنجا که کادمیم همواره با عنصر روی همراه است، استفاده از کودهای روی که از سنگ معدن روی تولید می‌شود، در مزارع می‌تواند باعث افزایش غلظت کادمیم در گیاهان و زنجیره غذایی شود.

(زمین‌شناسی و سلامت) (زمین‌شناسی، صفحه ۸۰)

۱۷۵- گزینه ۴

(سید مصطفی هنجوی)

به ترتیب عنصر A سرب، عنصر B روی، عنصر C جیوه و عنصر D کادمیم را بیان می‌کند.

بررسی همه گزینه‌ها:

گزینه ۱: براساس فصل دوم کتاب درسی، عناصر سرب و روی هم در دسته کانسنگ‌های رسوبی و هم در دسته کانسنگ‌های گرمایی جای می‌گیرند.

گزینه ۲: استفاده از کودهای روی که از سنگ معدن روی تولید می‌شوند، در مزارع می‌تواند باعث افزایش غلظت کادمیم در گیاهان و زنجیره غذایی شوند.

گزینه ۳: مسمومیت با سرب سبب شیوع شدید ناباروری، مرده‌زایی و عقب‌افتادگی ذهنی می‌شود. مسمومیت با جیوه هم سبب بیماری میناماتا و تولد کودکان ناقص می‌شود. بنابراین هر دو این عناصر در تولد نوزادان سالم اختلال ایجاد می‌کنند.

گزینه ۴: قرارگیری درازمدت در معرض جیوه سبب آسیب به دستگاه گوارش، عصبی و ایمنی می‌شود. عوارض کمبود روی شامل کوتاهی قد و اختلال در سیستم ایمنی می‌باشد. پس این کمبود روی است که سبب اختلال در دستگاه ایمنی می‌شود نه مسمومیت با روی!

(ترکیبی) (زمین‌شناسی، صفحه‌های ۳۱، ۷۸، ۸۰ تا ۸۳ و ۸۶)

۱۷۶- گزینه ۲

(روزبه اسحاقیان)

عناصر جزئی در پوسته زمین و بدن موجودات زنده به مقدار بسیار کم یافت می‌شوند. (کمتر از ۰/۱ درصد) این عناصر گاهی در بدن به عنوان عنصر اساسی و مورد نیاز و گاهی به عنوان عنصر سمی محسوب می‌شوند که باعث ایجاد عوارض و بیماری می‌گردند.

(زمین‌شناسی و سلامت) (زمین‌شناسی، صفحه‌های ۷۶ تا ۷۸)

۱۷۷- گزینه ۳

(سراسری رافل کشور تیرماه ۱۳۹۱)

زمین‌شناسی پزشکی یک علم درمانی نیست؛ بلکه به دنبال بررسی عامل بیماری‌های زمین‌زاد است.

(زمین‌شناسی و سلامت) (زمین‌شناسی، صفحه ۷۴)

۱۷۸- گزینه ۲

(سراسری رافل کشور ۹۸)

نقشه‌ای که احتمال خطر بیماری خاصی را شناسایی می‌کند نقشه پراکندگی ژئوشیمیایی عناصر است که باید توسط زمین‌شناسان شاخه ژئوشیمی تهیه شود.

(ترکیبی) (زمین‌شناسی، صفحه‌های ۳۹ و ۷۸)

۱۷۹- گزینه ۴

(صغری اصل‌معموری)

اثرات توفان‌های گردوغبار و ریزگردها:

- کاهش میزان انرژی دریافتی از خورشید (غبارها گرما را بازتاب و زمین را سرد می‌کنند).

- انتقال باکتری‌های بیماری‌زا به مناطق پرجمعیت

- افت کیفیت هوا

- انتقال مواد سمی

- فراهم کردن مواد مغذی اساسی برای جنگلهای بارانی مناطق گرمسیری

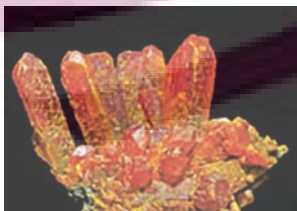
- هسته‌های رشد قطرات باران

(زمین‌شناسی و سلامت) (زمین‌شناسی، صفحه ۸۴)

۱۸۰- گزینه ۳

(فرشید مشعریور)

کانی رالگار به ترکیب AsS ، یک کانی سمی و به رنگ قرمز می‌باشد، در حالی که اورپیمان به ترکیب As_2S_3 ، یک کانی سمی و به رنگ نارنجی است.



اورپیمان



رالگار

(ترکیبی) (زمین‌شناسی، صفحه‌های ۲۸، ۷۴ و ۷۹)