

# آزمون ۳ آذر ماه ۱۴۰۲

## یازدهم انسانی

مدت پاسخ‌گویی: ۱۵۵ دقیقه

تعداد سؤال: ۱۴۰

عنوان مواد امتحانی گروه آزمایشی علوم انسانی، تعداد، شماره سؤال‌ها و مدت پاسخ‌گویی

ردیف	مواد امتحانی	تعداد سؤال	از شماره	تا شماره	مدت پاسخ‌گویی (به دقیقه)
۱	ریاضی و آمار (۲)	۱۰	۱	۱۰	۱۵
۲	علوم و فنون ادبی (۲)	۱۰	۱۱	۲۰	۱۵
۳	جامعه‌شناسی (۲)	۱۰	۲۱	۳۰	۱۰
۴	روان‌شناسی	۱۰	۳۱	۴۰	۱۰
۵	عربی، زبان قرآن (۲)	۱۰	۴۱	۵۰	۱۵
۶	تاریخ (۲)	۱۰	۵۱	۶۰	۱۰
۷	جغرافیا (۲)	۱۰	۶۱	۷۰	۲۰
۸	جغرافیا (۲) - آشنا	۱۰	۷۱	۸۰	
۹	فلسفه	۱۰	۸۱	۹۰	۲۵
۱۰	فلسفه - آشنا	۱۰	۹۱	۱۰۰	
۱۱	فارسی (۲)	۱۰	۱۰۱	۱۱۰	۱۰
۱۲	دین و زندگی (۲)	۱۰	۱۱۱	۱۲۰	۱۰
۱۳	زبان انگلیسی (۲)	۲۰	۱۲۱	۱۴۰	۱۵

# پدید آورندگان آزمون

## طراحان به ترتیب حروف الفبا

نام طراحان	نام درس
علی آزاد، سامان اسپهرم، محمد حمیدی، علی حسینی، نوه، امیر زراندوز، فرشید کریمی	ریاضی و آمار (۲)
سعید جعفری، سیدعلیرضا علویان، محمد نورانی، علی وفائی خسروشاهی	علوم و فنون ادبی (۲)
زینب آذری، مهرشاد ایمانی نسب، کوثر شاه حسینی، فاطمه صفری، علیرضا مختاری	جامعه‌شناسی (۲)
حمیدرضا توکلی، ریحانه خدابخشی، فرزانه حاجی، فاطمه صفری، فاطمه قائم مقامی	روان‌شناسی
علی اکبر ایمان پرور، منیژه خسروی، آرمن ساعدیناه، ولی الله نوروزی، مجید همایی	عربی، زبان قرآن (۲)
امیر حمزه اردی، سجاد رضیان، مهدی کاردان، حبیبه محبی	تاریخ (۲)
سجاد رضیان، سمیه طالبی، مهدی کاردان، حبیبه محبی	جغرافیا (۲)
محمد رضایی بقا، موسی سپاهی، غلامحسین عزیزی، علیرضا نصیری	فلسفه
محسن اصغری، حسن افتاده، مریم شمیرانی، الهام محمدی، علی وفایی خسروشاهی	فارسی (۲)
امیر مهدی افشار، محسن بیاتی، مرتضی محسنی کبیر	دین و زندگی (۲)
مجتبی درخشان گرمی، محسن رحیمی، عقیل محمدی روش، محمدحسین مرتضوی	زبان انگلیسی (۲)

## گزینشگران و ویراستاران

نام درس	مسئول درس	ویراستار	فیلتر نهایی	مستندسازی
ریاضی و آمار (۲)	محمد حمیدی	محمد بحیرایی، امیر حسین ابومحبوب	سهند ولیزاده	سمیه اسکندری
علوم و فنون ادبی (۲)	اعظم نوری نیا	احسان کلاته عربی	معین دانایی	الناز معتمدی
جامعه‌شناسی (۲)	کوثر شاه حسینی	امیر حسین کاروین، فاطمه ایزدی	رامیلا عسگری	زهره قموشی
روان‌شناسی	ریحانه خدابخشی	محمد صمدی زاداسفنگر، عاطفه طاهر	فاطمه ایزدی	زهره قموشی
عربی، زبان قرآن (۲)	مریم آقایی	درویشعلی ابراهیمی، اسماعیل یونس پور	احسان کلاته	لیلا ایزدی
تاریخ (۲)	سجاد رضیان	حبیبه محبی	زهره کتیبه	عطیه محلوچی
جغرافیا (۲)	سجاد رضیان	حبیبه محبی	زهره کتیبه	عطیه محلوچی
فلسفه	علیرضا نصیری	فاطمه ایزدی	رامیلا عسگری	سوگند بیگلری
فارسی (۲)	علی وفایی خسروشاهی	اعظم رجایی، مرتضی منشاری	-	الناز معتمدی
دین و زندگی (۲)	امیر مهدی افشار	سکینه گلشنی	-	زهره قموشی
زبان انگلیسی (۲)	عقیل محمدی روش	رحمت الله استیری، فاطمه نقدی	-	سوگند بیگلری

## گروه فنی و تولید

گروه اختصاصی	گروه عمومی
مدیر گروه	آفرین ساجدی
مسئول دفترچه	حبیبه محبی
مدیر گروه مستندسازی	محیا اصغری
مسئول دفترچه گروه مستندسازی	لیلا ایزدی
حروفچین و صفحه‌آرا	مهین علی محمدی جلالی
ناظر چاپ	سوران نعیمی
	فریبا رثوفی
	سحر ایروانی



۶- کدام گزینه در مورد استدلال زیر، نادرست است؟

مقدمه ۱: اگر یک چهارضلعی مستطیل باشد، آن گاه تمام زوایای داخلی آن ۹۰ است.

مقدمه ۲: در مربع  $ABCD$  داریم:  $\hat{A} = \hat{B} = \hat{C} = \hat{D} = 90$

∴  $ABCD$  مستطیل است.

- (۱) نام این استدلال، قیاس استثنایی است.  
 (۲) نام این استدلال، مغالطه است.  
 (۳) نتیجه به دست آمده درست است.  
 (۴) این روش استدلال کردن، نادرست است.

۷- در مورد استدلال زیر مطلب ذکر شده در کدام گزینه درست است؟

مقدمه ۱: اگر دو عدد فرد باشد، آن گاه حاصل ضربشان هم فرد است.

مقدمه ۲:  $a \times b = 25$

∴ .....

- (۱) نتیجه استدلال بالا همیشه نادرست است.  
 (۲) نتیجه استدلال بالا به این صورت است که،  $a$  و  $b$  هر دو زوج هستند.  
 (۳) روش به کار رفته در این استدلال، درست است.  
 (۴) این استدلال، مغالطه است.

۸- نماد ریاضی عبارت توصیفی «تفاضل سه برابر عددی از جذرش را نصف می‌کنیم، حاصل، مربع عدد است» کدام است؟

(۱)  $\frac{3x - \sqrt{x}}{2} = x^2$       (۲)  $\frac{\sqrt{x} - 3x}{2} = x^2$       (۳)  $\frac{3(\sqrt{x} - x)}{2} = x^2$       (۴)  $\frac{3(x - \sqrt{x})}{2} = x^2$

۹- در مورد استدلال زیر، کدام گزینه نادرست است؟

مقدمه ۱: اگر در رانندگی تمرکز نداشته باشید، آن گاه تصادف خواهید کرد.

مقدمه ۲: رضا با ماشینش تصادف کرد.

∴ رضا موقع رانندگی، تمرکز نداشته است.

- (۱) نوع استدلال، مغالطه است.  
 (۲) این روش استدلال، نادرست است.  
 (۳) نتیجه این استدلال، قطعاً نادرست است.  
 (۴) نتیجه این استدلال، ممکن است درست باشد.

۱۰- اگر  $x^2 + 1$  عددی زوج باشد، کدام نتیجه زیر نادرست است؟

- (۱)  $x$  فرد است.  
 (۲)  $x + 1$  زوج است.  
 (۳)  $(x + 1)^2$  زوج است.  
 (۴)  $x^3 + 1$  فرد است.

یک روز، یک درس: روزهای چهارشنبه در سایت [www.kanooon.ir](http://www.kanooon.ir) به درس ریاضی و آمار اختصاص دارد. شما می‌توانید خلاصه درس‌ها، نمونه

سؤالات پیشنهادی و آزمونک مربوط به درس ریاضی و آمار را در این روز از قسمت تازه‌ها در سایت کانون و نیز صفحه مقطع خود دریافت کنید.



علوم و فنون ادبی (۲)

وقت پیشنهادی: ۱۵ دقیقه

تشبیه / سبک عراقی  
تا پایان  
ویژگی‌های شعر سبک عراقی  
صفحه ۲۶ تا ۳۸

۱۱- کدام بیت مربوط به سبک عراقی است؟

- (۱) رنگ صحرا دارد آن سدی که خاست
  - (۲) از خطر آتش و عذاب ابد
  - (۳) انگور سیاه است و چو ماه است و عجب نیست
  - (۴) اکنون که گل سعادتت پر بار است
- او نمی‌داند که آن سد قضاست  
دین و خرد کرد در حصار مرا  
زیرا که سیاهی صفت ماه روان است  
دست تو ز جام می چرا بیکار است

۱۲- در کدام بیت ویژگی‌های زبانی و ادبی شعر سبک عراقی مشهود نیست؟

- (۱) موسی طور عشقم در وادی تمنا
  - (۲) خام را جز آتش هجر و فراق
  - (۳) در سر خلقان می‌روی در راه پنهان می‌روی
  - (۴) با کام خشک و با جگر تفته در گذر
- مجروح لن ترانی چون خود هزار دارم  
کی پزد، کی وارهند از نفاق؟  
بستان به بستان می‌روی آن جا که خیزد نقش‌ها  
ایدون که در سراسر این سبز گلستان

۱۳- تعداد تشبیه در کدام بیت متفاوت است؟

- (۱) چو ابر زلف تو پیرا من قمر می‌گشت
  - (۲) ز آب دیده من فرش خاک تر می‌شد
  - (۳) سعدی نگفتمت که مرو در کمند عشق
  - (۴) چون قامتم کمان صفت از غم خمیده دید
- ز ابر دیده کنارم به اشک تر می‌گشت  
ز بانگ ناله من گوش چرخ کر می‌گشت  
تیر نظر بیفکنند افراسیاب را  
چون تیر ناگهان ز کنارم بجست یار

۱۴- در کدام بیت هر دو نوع تشبیه فشرده و گسترده وجود دارد؟

- (۱) ای رستخیز ناگهان، وی رحمت بی‌منتها
  - (۲) از رحمة للعالمین اقبال درویشان ببین
  - (۳) ای عشق چون آتشکده، در نقش و صورت آمده
  - (۴) دل گفت حسن روی او، وان نرگس جادوی او
- ای آتشی افروخته در بیشه اندیشه‌ها  
چون مه منور خرقه‌ها، چون گل معطر شال‌ها  
بر کاروان دل زده، یک دم امان ده یا فتی!  
وان سنبل ابروی او، وان لعل شیرین ماجرا

۱۵- در تمام ابیات کدام گزینه، تشبیه گسترده وجود دارد؟

- (الف) روی خوش و آواز خوش دارند هر یک لذتی
  - (ب) ای که گفתי هیچ مشکل چون فراق یار نیست
  - (پ) مرد گستاخی نیم تا جان در آغوشت کشم
  - (ت) هر دم کمند زلفت صیدی دگر بگیرد
  - (ث) آن بر سر گنج است که چون نقطه به کنجی
- بنگر که لذت چون بود محبوب خوش آواز را  
گر امید وصل باشد همچنان دشوار نیست  
بوسه بر پایت دهم چون دست بالاییم نیست  
بیکان غمزه در دل ز ابروی چون کمانت  
بنشیند و سرگشته چو پرگار نباشد

(۴) ت - ث - الف

(۳) پ - الف - ث

(۲) ب - ث - ت

(۱) پ - ت - ب

**۱۶- کدام بیت فاقد «تشبیه فشرده اضافی» است؟**

- |   |                                       |
|---|---------------------------------------|
| ۱) کجاست بارشی از ابر مهربان صدایت      | که تشنه مانده دلم در هوای زمزمه‌هایت  |
| ۲) من همین قدر که با حال و هوایت گه‌گاه | برگی از باغچه شعر بچینم کافی است      |
| ۳) دریای شورانگیز چشمانت چه زیباست      | آن‌جا که باید دل به دریا زد همین جاست |
| ۴) جان هدیه‌ای است پیشکش آورده از خودت  | این هدیه را اگر نپذیری کجا برم        |

**۱۷- در کدام بیت هر دو آرایه ذکر شده در مقابل آن یافت می‌شود؟**

- |  |  |
|--|--|
| ۱) اگر به خانه من آمدی به جای چراغ     | دو شیشه ناز بیاور، نیاز خواهد شد (تشخیص - جناس)          |
| ۲) جز گوشه قناعت از این خاکدان مگیر    | غیر از کنار هیچ ز اهل جهان مگیر (استعاره - کنایه)        |
| ۳) آبروی دو جهان جویم و از آتش عشق     | خاک سازم تن و در راه تو بر باد شوم (تشبیه فشرده - تلمیح) |
| ۴) روز از برم چو رفتی شب آمدی به خوابم | این است اگر کسی را عمری بود دوباره (تضاد - تشبیه گسترده) |

**۱۸- در کدام بیت «ادات تشبیه» وجود ندارد؟**

- |   |                                  |
|---|----------------------------------|
| ۱) خود آهوانه به دام من آمدی تو و گر نه | من این بهار در اندیشه شکار نبودم |
| ۲) من زبان باز نکردم که نرنجی از من     | مثل زخمی که لبش باز به لبخند نشد |
| ۳) من مستم و این مستی من مستی می نیست   | چون یاد جمال تو کنم مست شوم من   |
| ۴) لب از گفتن چنان بستم که گویی         | دهان بر چهره زخمی بود و به شد    |

**۱۹- مفهوم کدام بیت در کمانک مقابل آن به درستی نوشته نشده است؟**

- |  |  |
|--|--|
| ۱) گناه اگر چه نبود اختیار ما حافظ     | تو در طریق ادب باش، گو گناه من است (باور به قضا و قدر و جبرگرایی)  |
| ۲) رفتی و در رکابت دل رفت و صبر و دانش | باز آنکه نیم جانی بهر نثار دارم (فراق)                             |
| ۳) گنج عشق خود نهادی در دل ویران ما    | سایه دولت بر این کنج خراب انداختی (ستایش عشق)                      |
| ۴) قحح به شرط ادب گیر زان که ترکیبش    | ز کاسه سر جمشید و بهمن است و قباد (لزوم توجه به صفا و پالایش درون) |

**۲۰- مفهوم کدام بیت با بیت زیر تناسب دارد؟**

«دست از مس وجود چو مردان ره بشوی / تا کیمیای عشق بیابی و زر شوی»

- |                                  |                              |
|----------------------------------|------------------------------|
| ۱) چون نماندت نیک و بد عاشق شوی  | پس فنای عشق را لایق شوی      |
| ۲) چو دریا شو اگر دریا شوی تو    | ز عشق دوست ناپروا شوی تو     |
| ۳) غلام عشق شو تا جان شوی تو     | ز عشق آن‌گه سوی جانان شوی تو |
| ۴) بشست از جان و از دل دست جاوید | کسی کو مرد راه این سفر شد    |

**یک روز، یک درس:** روزهای یکشنبه در سایت کانون [www.kanoon.ir](http://www.kanoon.ir) به درس علوم و فنون ادبی اختصاص دارد. شما می‌توانید خلاصه درس‌ها، نمونه سؤالات پیشنهادی و آزمونک مربوط به درس علوم و فنون ادبی را در این روز از قسمت تازه‌ها در سایت کانون و نیز صفحه مقطع خود دریافت کنید.

توسعه ای برای موفقیت

وقت پیشنهادی: ۱۰ دقیقه

جامعه‌شناسی (۲)

**فرهنگ جهانی**

نمونه‌های فرهنگ جهانی ۱ و ۲  
صفحه ۱۹ تا ۳۳

۲۱- در ارتباط با موارد زیر، کدام گزینه صحیح است؟

(الف) زیباترین و محبوب‌ترین مخلوق خداوند در فرهنگ اسلام

(ب) قومی که جهان‌گشایی‌ها منجر به جهانی شدن فرهنگ آنان نشد.

(ج) عامل به‌خدمت گرفتن گروه مهاجم توسط قوم مغلوب پس از شکست در تهاجم نظامی

(۱) عقل - مغولان - حفظ هویت فرهنگی

(۲) انسان - مغولان - داشتن فرهنگ غنی و قوی

(۳) عقل - ایرانیان باستان - داشتن فرهنگ غنی و قوی

(۴) انسان - ایرانیان باستان - دستیابی به استقلال سیاسی

۲۲- به ترتیب، عبارات کدام گزینه در رابطه با ویژگی‌های دوران خلافت، درست و نادرست است؟

(۱) غلبه قدرتهایی مانند سلجوقیان، خوارزمشاهیان، مغولان و عثمانی مانع می‌شد تا ارزش‌های اجتماعی فرهنگ اسلامی به‌طور کامل آشکار شود. - این دوران از زمان حکومت رسول خدا (ص) آغاز شد و در طول خلافت اموی، عباسی و عثمانی ادامه یافت.

(۲) عقاید و ارزش‌های جهانی اسلام، با کمک عملکرد قدرت‌های سیاسی و با تلاش و کوشش عالمان مسلمان، از مرزهای جغرافیایی و سیاسی جوامع مختلف عبور کرد. - فرهنگ اسلامی، به دلیل قدرت و غنای خود، گروه‌های مهاجم بیگانه را نیز درون خود هضم و جذب می‌کرد.

(۳) در این دوران، ارزش‌ها، هنجارها و رفتارهای جاهلی دوباره در جامعه اسلامی نمایان شد و به تدریج قدرت در جامعه اسلامی را براساس روابط قبیله‌ای و عشیره‌ای شکل داد. - فرهنگ اسلامی، گروه‌های مهاجم بیگانه را ناگزیر می‌ساخت که برای بقای خود، در ظاهر از مفاهیم و ارزش‌های دینی استفاده کنند.

(۴) فرهنگ جاهلی در این دوران در برابر اسلام آشکارا مقاومت کرد. - غلبه فرهنگ قومی و قبیله‌ای از آشکار شدن ظرفیت‌های فرهنگ اسلامی جلوگیری کرد.

۲۳- به ترتیب، هدف استعمار قدیم، ابزار استعمار نو و شکل حضور استعمار فرانو چگونه بود؟

(۱) سلطه اقتصادی - کودتا - استعمارگران پنهان و مجریان آشکار

(۲) سلطه اقتصادی - فناوری اطلاعات - حضور مستقیم و آشکار

(۳) نسل‌کشی و جهان‌گشایی - کودتا - مجریان و استعمارگران پنهان

(۴) نسل‌کشی و جهان‌گشایی - فناوری اطلاعات - مجریان و استعمارگران پنهان

۲۴- کدام یک از گزینه‌های زیر در ارتباط با فرهنگ اسلام در عصر نبوی، نادرست است؟

(۱) رسول خدا (ص) پس از ده سال دعوت مردم به اسلام و مقاومت در برابر فشار نظام قبیله‌ای عرب جاهلی، حکومت اسلامی را تشکیل داد.

(۲) قبل از ظهور اسلام، شبه‌جزیره عربستان، فرهنگ جاهلی قبیله‌ای داشت.

(۳) پیامبر خدا (ص) پیش از رحلت، نامه‌های دعوت به دین خدا را به امپراتوری‌های ایران و روم فرستاده بود.

(۴) هم‌زمان با دوران فرهنگ جاهلی قبیله‌ای خداوند سبحان، پیامبر خود را با آیات روشنگر برای تبلیغ توحید و گسترش فرهنگ اسلامی در جامعه بشری برانگیخت.

۲۵- در متن زیر، چند عبارت نادرست است؟

- در تقسیم‌بندی جوامع توسط افلاطون، یکی از انواع جوامع جاهلی، جامعه تغلب نام دارد. در این جامعه مردم شیفته غلبه بر

مردم خود هستند و گمان می‌کنند که فقط آن‌ها خوشبخت و پیروز هستند. مردمانی که برتری سیاسی جهان غرب را پذیرفته

باشند، هویت خود را در حاشیه جهان غرب جست‌وجو می‌کنند و به مسیری می‌روند که جهان غرب برای آنان ترسیم می‌کند.

(۴) پنج

(۳) سه

(۲) یک

(۱) دو



۲۶- کدام گزینه جاهای خالی را به درستی کامل می کند؟

(الف) ... پس از شکل گیری جنبش های استقلال طلبانه کشورهای مستعمره طی قرن ... شکل گرفت.

(ب) کودتای ... نمونه ناموفق کودتا است.

(پ) کشورهای استعمارگر، با استفاده از شرایط مساعدی که در دوره استعمار ایجاد کردند، از ... برای رسیدن به اهداف استعماری خود استفاده می کنند.

(۱) استعمار فرانسه، ۱۹ - ۳ اسفند ۱۲۹۹ - مجریان بومی و داخلی کشورهای مستعمره

(۲) استعمار نو، ۲۰ - آمریکایی، انگلیسی نوژه - مجریان بومی و داخلی کشورهای مستعمره

(۳) استعمار فرانسه، ۱۹ - ۲۸ مرداد ۱۳۳۲ - مجریان کشورهای استعمارگر

(۴) استعمار نو، ۲۰ - ۲۸ مرداد ۱۳۳۲ - مجریان کشورهای استعمارگر

۲۷- نسبت و رابطه امپریالیسم و استعمار چگونه است؟

(۱) دو دایره که بر هم منطبق هستند و در تمامی مصادیق اشتراک دارند.

(۲) دو دایره که هر کدام در برخی مصادیق مشترک هستند و در برخی مصادیق هیچ اشتراکی ندارند.

(۳) دو دایره که امپریالیسم درون استعمار قرار دارد ولی استعمار درون امپریالیسم قرار ندارد.

(۴) دو دایره که استعمار درون امپریالیسم قرار دارد ولی امپریالیسم درون استعمار قرار ندارد.

۲۸- کدام گزینه ویژگی عصر بیداری اسلامی نمی باشد؟

(۱) انقلاب اسلامی ایران، نقطه عطفی در بازگشت به فرهنگ اسلامی در جهان اسلام است.

(۲) بسیاری از نخبگان کشورهای غربی تا قبل از انقلاب اسلامی، برای مقابله با سلطه استعمار، از مکاتبی مانند ناسیونالیسم و لیبرالیسم استفاده می کردند.

(۳) در مقابل نفوذ و سلطه فرهنگ غرب، مقاومت هایی شکل گرفت که ریشه در فرهنگ اسلامی داشت.

(۴) متفکران جهان اسلام، خطرات سلطه فرهنگ غرب و فراموشی فرهنگ اسلامی را گوشزد کردند.

۲۹- به ترتیب، پاسخ پرسش های زیر کدام است؟

(الف) فرهنگ اروپا در پنج قرن اخیر، چه نام دارد؟

(ب) بزرگ ترین برده داری تاریخ بشریت توسط استعمار اروپایی، در چه سده هایی برپا شد؟

(۱) فرهنگ استعمار - هفدهم و هجدهم

(۲) فرهنگ غرب - هفدهم و هجدهم

(۳) فرهنگ استعمار - هجدهم و نوزدهم

(۴) فرهنگ غرب - شانزدهم و هفدهم

۳۰- کدام یک از عبارات زیر، در رابطه با دوره استعمار، صحیح می باشد؟

(۱) دولت های استعماری غربی، بر قدرت نظامی و صنعتی خویش متکی بودند.

(۲) قدرت سیاسی جوامع اسلامی در زمان استعمار، قومی و قبیله ای بود.

(۳) استبداد استعماری، پشتوانه و پیشینه ای غیر از جهان اسلام نداشت.

(۴) استبداد استعماری، مجبور به تأمین نیازهای سیاسی و فرهنگی جهان غرب بود.

یک روز، یک درس: روزهای دوشنبه در سایت کانون [www.kanon.ir](http://www.kanon.ir) به درس جامعه شناسی اختصاص دارد. شما می توانید خلاصه درس ها، نمونه سوالات پیشنهادی و آزمونک مربوط به درس جامعه شناسی را در این روز از قسمت تازه ها در سایت کانون و نیز صفحه مقطع خود دریافت کنید.



وقت پیشنهادی: ۱۰ دقیقه

روان‌شناسی

روان‌شناسی رشد

تا پایان «رشد درک اخلاقی در دوره کودکی»  
صفحه ۳۴ تا ۵۲

۳۱- کدام گزینه برای پر کردن جای خالی زیر، مناسب‌تر است؟

«کار روان‌شناسی رشد، ...»

- (۱) مطالعه تغییرات در جنبه‌های مختلف شناختی، هیجانی، جسمانی و ... در انسان و حیوانات است.
- (۲) مطالعه تغییرات در جنبه‌های مختلف شناختی، هیجانی، جسمانی و ... در همه موجودات است.
- (۳) مطالعه تغییرات در جنبه‌های مختلف شناختی، هیجانی، جسمانی و ... فقط در انسان‌ها است.
- (۴) صرفاً به مطالعه و بررسی ابعاد شناختی و هیجانی می‌پردازد.

۳۲- کدام یک از گزینه‌های زیر درست است؟

- (۱) هیجان‌ات ساده کودکان با توجه به واکنش اطرافیان به هیجان‌های مرکب گسترش می‌یابد.
- (۲) اینکه آیا در دوران انتقال از کودکی به نوجوانی، غالب قضاوت‌های فرد بر مدار هیجان‌های زودگذر است، در حیطه هیجانی مسائل رشد قرار می‌گیرد.

(۳) روان‌شناسی رشد صرفاً به تغییرات افزایشی و صعودی مانند بلند شدن قد می‌پردازد.

(۴) بررسی اینکه احساس ترحم کردن به دیگران در چه سنی شکل می‌گیرد و چگونه تحول می‌یابد، از حیطه‌های اخلاقی روان‌شناسی رشد است.

۳۳- کدام عبارت صحیح نیست؟

- (۱) رشد توانایی‌های زبانی کودک مربوط به رشد اجتماعی است.
- (۲) کودکان قبل از دبستان هدایای بزرگ و کم‌ارزش را بر هدایای کوچک و پرارزش ترجیح می‌دهند.
- (۳) عوامل محیطی در تسلط کودکان بر لغات تأثیر بسزایی دارد.
- (۴) کودکان در ابتدا قادر به حرکات درشتی مانند بالا رفتن از پله‌ها هستند.

۳۴- عبارت زیر، به کدام یک از مفاهیم اشاره دارد؟

«مادر علی به خاطر دیر راه افتادن کودک خود نگران است ولی دکتر به او گفته است که طبق برنامه رشد طبیعی او جای نگرانی وجود ندارد و کودک هنوز به آمادگی نرسیده است.»

(۱) عوامل محیطی

(۲) عوامل وراثتی

(۳) اثرپذیری از رشد بقیه اعضای خانواده

(۴) ریش

منبع پخش: آزمون وی ای پی

۳۵- اگر در تأدیب فردی کوشش شود و به‌صورت آمرانه برخورد شود، با کدام مرحله از مراحل هفت‌گانه تقسیم‌بندی شده

رفتار شده و سپس با کدام مراحل سه‌گانه تربیت پیامبر، رفتار نشده است؟

(۱) کودکی دوم - هفت سال سوم

(۲) کودکی اول - هفت سال دوم

(۳) کودکی دوم - هفت سال دوم

(۴) کودکی اول - هفت سال اول

۳۶- کدام گزینه جاهای خالی زیر را به درستی تکمیل می‌کند؟

- ابتدایی‌ترین و شاخص‌ترین جنبه رشد، ... است.

- منظور از رشد در دوره کودکی ... است.

- روان‌شناسی رشد، مطالعه علمی انسان از ... تا پایان زندگی است.

(۱) رشد جسمانی - حرکتی، از تولد تا ۱۱ - ۱۲ سالگی، انعقاد نطفه (۲) رشد جسمانی - حرکتی، از ۲ سالگی تا ۱۲ سالگی، تولد

(۳) رشد هیجانی، از تولد تا ۱۱ - ۱۲ سالگی، تولد (۴) رشد هیجانی - از ۲ سالگی تا ۱۲ سالگی، انعقاد نطفه

۳۷- کدام عامل به ترتیب، در «توانایی کودک برای راه رفتن مستقل در پانزده ماهگی» و «تسلط یافتن بر راه رفتن در دو سالگی»،

نقش اساسی دارد؟

(۱) عوامل وراثتی و محیطی - عوامل محیطی (۲) عوامل محیطی - عوامل وراثتی

(۳) عوامل وراثتی - عوامل محیطی و وراثتی (۴) عوامل محیطی - عوامل محیطی و وراثتی

۳۸- نخستین علامت رشد اجتماعی در چه زمانی پدیدار می‌شود؟

(۱) ۵-۶ ماهگی (۲) ۷-۸ ماهگی (۳) ۲-۳ ماهگی (۴) ۴-۵ ماهگی

۳۹- درستی و نادرستی عبارات زیر در رابطه با عوامل مؤثر بر رشد در کدام گزینه است؟

(الف) به دلیل نقش تعیین‌کننده عوامل محیطی در رشد افراد برای تغییرات، می‌توان با بررسی خصوصیات افراد فامیل نزدیک و دور احتمال وقوع ویژگی‌های رفتاری و شناختی را در دامنه‌های سنی خاص پیش‌بینی کرد.

(ب) دوقلوهای همسان الزاماً هم جنس و دارای ویژگی‌های وراثتی یکسان هستند.

(ج) در روان‌شناسی به رفتارهایی که وابسته به یادگیری است، پختگی می‌گویند.

(د) عوامل وراثتی، ایجادکننده صفاتی هستند که از قبل در فرد نهفته است و برخی از این صفات از بدو تولد در رفتار نوزاد ظاهر می‌شود.

(۱) نادرست - درست - درست - درست (۲) درست - نادرست - نادرست - درست

(۳) نادرست - درست - نادرست - درست (۴) درست - درست - درست - نادرست

۴۰- در رابطه با دوره طفولیت کدام گزینه صحیح نیست؟

(۱) بروز هیجانات ساده در این دوره، تحت تأثیر نظام پدیده‌های فردی نیست و غالباً به یک صورت پدیدار می‌شود.

(۲) به دلیل اینکه هیچ تصویری از کار خوب و بد ندارند؛ مسئول رفتار خود نیستند.

(۳) در این دوره کودکان علاقه‌مندند در کنار یکدیگر باشند، ولی به تنهایی بازی کنند.

(۴) اولین علامت رشد اجتماعی در این دوره، لبخند اجتماعی است.

یک روز، یک درس: روزهای سه‌شنبه در سایت [www.kanoon.ir](http://www.kanoon.ir) به درسی روان‌شناسی اختصاص دارد. شما می‌توانید خلاصه درس‌ها، نمونه

سوالات پیشنهادی و آزمونک مربوط به درس روان‌شناسی را در این روز از قسمت تازه‌ها در سایت کانون و نیز صفحه مقطع خود دریافت کنید.

توشه ای برای موفقیت

## عربی، زبان قرآن (۲)

وقت پیشنهادی: ۱۵ دقیقه

مواظب قیمة /صناعة التلمیع

فی الأدب الفارسی تمارین  
درس ۱، ترجمه و لغات درس ۲  
صفحه ۱۱ تا ۲۰

## ■ عین الأصح و الأدق في الجواب للترجمة أو التعريب أو المفهوم للعبارة التالية: (۴۱ - ۴۵)

۴۱- «هؤلاء الشعراء كانوا قد أنشدوا أبياتاً ممزوجةً بالعربية تُسمى بالملّمع!»:

(۱) اینان شاعرانی هستند که ابیاتی درآمیخته با عربی سروده‌اند که ملّمع نامیده می‌شود!

(۲) اینان همان شاعرانی هستند که بیت‌هایی درآمیخته به زبان عربی سروده بودند که ملّمع نامیده می‌شود!

(۳) این شاعران بیت‌هایی درآمیخته با عربی سروده بودند که ملّمع نامیده می‌شود!

(۴) این شاعران بیت‌هایی درآمیخته با عربی که ملّمع نامیده می‌شود سروده‌اند!

## ۴۲- عین الصّحیح:

(۱) ساء خلقُ والدي حينما يرى لا أقدرُ على الحلم أمام المصاعب: اخلاق پدرم بد شد هنگامی که دید نمی‌توانم در مقابل سختی‌ها بردباری کنم!

(۲) غداتي يُريدون أن أنساك ولكنني أتذكر ذكريات جميلة: دشمنانم می‌خواستند که تو را فراموش کنم ولی من خاطرات زیبایی را به یاد می‌آورم!

(۳) إن يخاطبك الحمقى بكلام سييء فعليك السكوت: اگر احمق، تو را با سخنی زشت خطاب کرد تو باید سکوت کنی!

(۴) الوفاء بالعهد في الإنسان نموذج ثقافي في التربية و التعليم: وفای به عهد در انسان نمونه‌ای فرهنگی در تربیت و تعلیم است!

## ۴۳- عین الخطأ:

(۱) ذع شاتم الناس مهناً تُرض ربك و تُسخط الشيطان: دشنام‌دهنده به مردم را خوار رها کن تا پروردگارت را راضی کنی و شیطان را خشمگین کنی!

(۲) أشكو إلى الطائر من هجرک و هو ينوح في الوكئة: به پرنده از دوری تو شکایت کردم و آن در لانه‌اش شیون می‌کند!

(۳) أعطيتي بعد التّخفيض مئتين و عشرين ألفاً: بعد از تخفیف دویست و بیست هزار به من بده!

(۴) إن الله بعث النبيّ (ص) لیتّم للناس مكارم الأخلاق: قطعاً خداوند پیامبر (ص) را فرستاد تا کرامت‌های اخلاق را برای مردم کامل کند!

## ۴۴- «أن مسافران گاهی انبارهای آب را در بیابان جستجو می‌کنند!» عین الصّحیح:

(۱) هذان مسافران قد يُفتّشان المصانع في الفلوات!

(۲) قد يُفتّش أولئك المسافرون مصانع في الفلاة!

(۳) هؤلاء المسافرون كانوا قد يُفتّشون عن المصانع في الفلاة!

(۴) أولئك المسافرون قد يُفتّشون المصانع في الفلاة!

## ۴۵- عین الصّحیح في مفهوم البيت التّالی: «وجودی دارم از مهرت گدازان / وجودم رفت و مهرت همچنان هست»

(۱) وجدت رائحة الوُد إن شَممت رُفاني. (۲) وصفت كلّ مَليح كما تحبّ و ترضی.

(۳) فی بُعدها عذابٌ فی قُربها السّلامه. (۴) مَنْ جَرّب المجرّب حلّت به النّدامه.

۴۶- عین الخطأ في ضبط حركات الكلمات:

- (۱) الحِمَارُ حَيَوَانٌ يُسْتَعْدَمُ لِلْحَمَلِ وَالرُّكُوبِ!  
(۲) أَعْبُدُ النَّاسَ، مَن أَقَامَ الْفَرَائِضَ!  
(۳) المِيزَانُ آلَةٌ لِمَعْرِفَةِ وَزَنِ الْأَشْيَاءِ!  
(۴) يَا أَحْسَنَ الْخَالِقِينَ، حَسَّنْ خُلُقِي!

۴۷- عین عبارة ماجاء فيها اسم المكان:

- (۱) أ في متحرك فساتين بأسعارٍ رخيصةٍ!  
(۲) كان والدي يشتغل في المعمل من الصباح!  
(۳) طلبتُ من سعيدٍ إطفاء مصباح العُرفةِ!  
(۴) هناك في قريتنا ثلاثة مساجد كبيرة مع المكتبة.

۴۸- عین الخطأ في المترادفات و المتضادات:

- (۱) وُدٌّ ≠ عداوة (۲) بُعِدَ ≠ قُرب (۳) شاءَ ≠ إستغاثَ (۴) أنكرَ ≠ أفتَحَ

۴۹- عین عبارة ماجاء فيها اسم التفضيل:

- (۱) أشتري أرخصَ سراويل لِنَفْسِي من هذا السوق.  
(۲) المديرُ أهدى هديةً لزميلنا الفائز في المسابقة.  
(۳) أختي الكبرى تُساعدُ أمي في أمور المنزل.  
(۴) خيرُ الناسِ من يَنفَعُ الآخرينَ.

۵۰- عین اسم المكان في المحلّ الإعرابي للمفعول:

- (۱) صُنِعَ مَعْبَدٌ لِعِبَادَةِ الْمُؤْمِنِينَ.  
(۲) رَأَيْتُ مِيَادِينَ الْمَلَابِسِ فِي هَذِهِ الْمَدِينَةِ.  
(۳) شاهدنا منازل جميلة في قرية جدتي.  
(۴) أَحَبُّ الدُّنْيَا وَ هِيَ مَوْضِعٌ غَيْرُ أَبَدِيّ.

یک روز، یک درس: روزهای سه شنبه در سایت کانون [www.kanoon.ir](http://www.kanoon.ir) به درس عربی و زبان قرآن اختصاص دارد. شما می توانید خلاصه درس ها، نمونه سؤالات پیشنهادی و آزمونک مربوط به درس عربی و زبان قرآن را در این روز از قسمت تازه ها در سایت کانون و نیز صفحه مقطع خود دریافت کنید.

توشه ای برای موفقیت

وقت پیشنهادی: ۱۰ دقیقه

تاریخ (۲)

ظهور اسلام، حرکتی تازه در تاریخ بشر  
اسلام در مکه، امت و حکومت نبوی  
در مدینه  
صفحه ۱۹ تا ۴۱

۵۱- کدام گزینه درستی یا نادرستی عبارات زیر را به درستی بیان می کند؟

الف) نزول نخستین آیات سوره علق به منزله آغاز پیامبری و رسالت الهی حضرت محمد (ص) بود.

ب) خانه کعبه در شهر مکه تنها عبادتگاه بتها در شبه جزیره عربستان محسوب می شد.

ج) معدود قبیله های مسیحی شبه جزیره عربستان در نجران مستقر بودند.

۴) د - ن - د

۳) د - ن - ن

۲) ن - ن - د

۱) د - د - د

۵۲- چه عاملی زمینه ساز هجرت تاریخی رسول خدا به یثرب شد؟

۱) رحلت ابوطالب و پیامدهای ناشی از تحریم و محاصره اقتصادی و اجتماعی

۲) نبود مرجع سیاسی قدرتمند برای رسیدگی به اختلافها

۳) عدم استقبال اهالی طائف از پیامبر و اهانت و بی احترامی به ایشان

۴) پذیرفتن دعوت پیامبر توسط تعدادی از اهالی یثرب در جریان مراسم حج

۵۳- کدام موارد درباره اوضاع مکه قبل از بعثت و مدینه قبل از هجرت پیامبر (ص)، درست است؟

۱) وضعیت اقتصادی به شدت متأثر از موقعیت جغرافیایی و شرایط طبیعی و اقلیمی آن بود.

۲) در مدینه، عرب قحطانی و عدنانی و در مکه، اوس و خزرج از طایفه های مهم بودند.

۳) هر دو، از نظر تجاری با سرزمین های مجاور عربستان داد و ستد بازرگانی داشتند.

۴) مکیان، از نظر علم و فرهنگ نسبت به یثربیان، دستاوردهای قابل توجهی داشتند.

۵۴- سران قریش به چه دلیلی بنی هاشم را تحت محاصره اقتصادی و اجتماعی قرار دادند و این محاصره حدود چند سال به طول انجامید؟

۱) عدم گسترش دین اسلام در شبه جزیره عربستان - ۲ سال

۲) ناکامی در جلب رضایت ابوطالب برای عدم حمایت از پیامبر (ص) - ۲ سال

۳) عدم گسترش دین اسلام در شبه جزیره عربستان - ۳ سال

۴) ناکامی در جلب رضایت ابوطالب برای عدم حمایت از پیامبر (ص) - ۳ سال

۵۵- کدام گزینه، پاسخ صحیح سؤال های زیر است؟

الف) یثرب از نظر اقتصادی، چگونه شهری بود؟

ب) به لحاظ اعتقادی، اکثر اعضای قبیله های عرب ساکن شهر یثرب را چه کسانی تشکیل می دادند؟

ج) در نتیجه کدام پیمان، پایگاه امن و مطمئنی برای مسلمانان در یثرب به وجود آمد؟

۱) ثروتمند - حنفایی - عقبه اول

۲) غیر ثروتمند - بت پرست - عقبه دوم

۳) ثروتمند - حنفایی - عقبه دوم

۴) غیر ثروتمند - بت پرست - عقبه اول

ایران توانسته  
توانسته ای برای موفقیت

۵۶- کدام مورد، درباره زمان وقوع رویدادهای زیر، (ترتیب وقایع) درست است؟

«دوره دعوت خاص و محدود / پیمان عقبه دوم / پیمان عقبه اول / آغاز دعوت عمومی / وفات حضرت خدیجه و ابوطالب / محاصره اقتصادی، در شعب ابی طالب»

(۱) دوره دعوت خاص و محدود - آغاز دعوت عمومی - محاصره اقتصادی در شعب ابی طالب - وفات حضرت خدیجه و ابوطالب - پیمان عقبه اول - پیمان عقبه دوم

(۲) آغاز دعوت عمومی - دوره دعوت خاص و محدود - وفات حضرت خدیجه و ابوطالب - محاصره اقتصادی در شعب ابی طالب - پیمان عقبه اول - پیمان عقبه دوم

(۳) دوره دعوت خاص و محدود - آغاز دعوت عمومی - وفات حضرت خدیجه و ابوطالب - محاصره اقتصادی در شعب ابی طالب - پیمان عقبه اول - پیمان عقبه دوم

(۴) آغاز دعوت عمومی - دوره دعوت خاص و محدود - محاصره اقتصادی در شعب ابی طالب - وفات حضرت خدیجه و ابوطالب - پیمان عقبه دوم - پیمان عقبه اول

۵۷- پاسخ صحیح سؤالات زیر در کدام گزینه قرار دارد؟

(الف) چند سال از دوران ۲۳ ساله رسالت پیامبر اسلام، در مدینه گذشت؟

(ب) گروه یهودی شهر یثرب، از کجا به یثرب کوچ کردند؟

(ج) قبایل بزرگ شهر یثرب از کجا به آن شهر مهاجرت کرده بودند؟

(۱) ۱۰ سال - روم - سوریه (۲) ۱۱ سال - مصر - یمن

(۳) ۱۱ سال - لبنان - روم (۴) ۱۰ سال - فلسطین - یمن

۵۸- مؤلفین کتاب درسی تاریخ (۲): برای توضیح موارد زیر از کدام منابع استفاده کرده‌اند؟

(الف) عدم وجود حکومت یا سلطه اشراف و سران قبیله‌ها در یثرب

(ب) رقابت و درگیری پیایی اوس و خزرج

(ج) بیم از دست دادن موقعیت تجاری و سیاسی قریش در صورت پذیرش اسلام

(د) گرایش عده‌ای از مردم عرب به آیین زرتشتی و کیش مانوی

(۱) «الف»: منابع تاریخی و متون دینی، «ب»: سیره‌نویسان، «ج»: آیات قرآن کریم، «د»: شواهد و مدارک

(۲) «الف»: سیره‌نویسان، «ب»: منابع تاریخی و متون دینی، «ج» و «د»: شواهد و مدارک

(۳) «الف» و «ب»: آیات قرآن کریم، «ج» و «د»: شواهد و مدارک

(۴) «الف»: شواهد و مدارک: «ب»: آیات قرآن کریم، «ج»: منابع تاریخی و متون دینی، «د»: باستان‌شناسان

۵۹- به ترتیب، صحیح یا غلط بودن عبارات زیر در کدام گزینه مشخص شده است؟

- قبل از هجرت پیامبر (ص) به یثرب عبدالله بن ابی ریاست آن شهر را بر عهده داشت.

- در سال یازدهم بعثت، ۱۲ مرد یثربی در مکانی موسوم به عقبه در منا، با پیامبر بیعت کردند.

- پیمان عقبه دوم بیانگر نفوذ و گسترش اسلام در یثرب بود.

(۱) ص - غ - غ (۲) غ - ص - ص (۳) غ - غ - ص (۴) غ - غ - غ

۶۰- کدام گزینه از جمله دلایل انعقاد پیمان برادری و پیمان‌نامه عمومی مدینه توسط پیامبر نیست؟

(۱) ایجاد همبستگی میان مهاجران و انصار (۲) همزیستی مسالمت‌آمیز ساکنان مدینه

(۳) مقابله با تهدیدات رومیان در سرحدات شام (۴) تأمین نظم و امنیت در مدینه

یک روز، یک درس: روزهای پنج‌شنبه در سایت کانون [www.kanoon.ir](http://www.kanoon.ir) به درس تاریخ اختصاص دارد. شما می‌توانید خلاصه‌درس‌ها، نمونه سؤالات

پیشنهادی و آزمونک مربوط به درس تاریخ اسلام را در این روز از قسمت تازه‌ها در سایت کانون و نیز صفحه مقطع خود دریافت کنید.



جغرافیا (۲)

وقت پیشنهادی: ۲۰ دقیقه

نواحی طبیعی

نواحی آب و هوایی  
صفحه ۱۹ تا ۳۶

۶۱- کدام عبارت تعریف درستی را شامل نمی‌شود؟

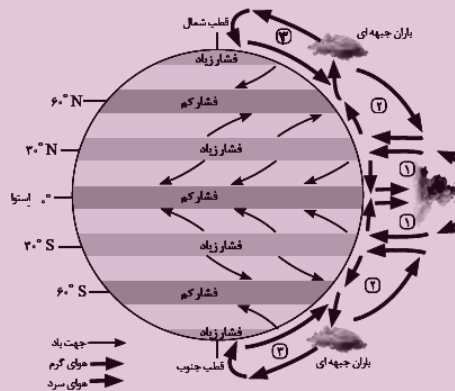
(۱) هوا همیشه از جایی که فشار بیشتری وجود دارد به سمت جایی که فشار کمتری دارد جریان می‌یابد و به این ترتیب، باد به وجود می‌آید.

(۲) هوای سرد سنگین است و به سمت بالا صعود می‌کند؛ بنابراین بر روی منطقه سرد یک مرکز پرفشار ایجاد می‌شود.

(۳) برخورد توده‌های مختلف هوا با یکدیگر، باعث ناپایداری هوا و در صورت دارا بودن رطوبت، باعث بارندگی می‌شود.

(۴) یکی از مهم‌ترین عوامل تغییرات آب و هوایی کشور ما جبهه قطبی است که بین هوای سرد و گرم ایجاد شده است.

۶۲- با بررسی شکل زیر، کدام گزینه در رابطه با آن صدق می‌کند؟



(۱) در نواحی فوق استوا هوای سرد شده به سمت عرض‌های بالاتر حرکت می‌کند.

(۲) در منطقه استوا  $۳۳^{\circ}$  -  $۶۶^{\circ}$  / ۵ شمالی و جنوبی، هوا سرد و سنگین است.

(۳) در ناحیه استوایی حوالی عرض جغرافیایی  $۶۰$  درجه، منطقه فشار زیاد ایجاد می‌شود.

(۴) قطب‌ها، به دلیل سردی فوق‌العاده مراکز کم‌فشار هستند.

۶۳- به ترتیب، عامل اصلی ایجاد ویژگی‌های آب و هوایی و مهم‌ترین منبع انرژی برای زمین کدام‌اند؟

- (۱) نور خورشید - دما  
(۲) نور خورشید - نور خورشید  
(۳) بارش - دما  
(۴) بارش - نور خورشید

۶۴- علت به وجود آمدن هر یک از بیابان‌های ذکر شده کدام است؟ (به ترتیب)

«بیابان استرالیا، بیابان آتاکاما، بیابان ترکستان»

(۱) نزدیکی به مدار رأس السرطان، جریان آب سرد پرو (مرکز پرفشار)، دوری از منابع رطوبتی

(۲) نزدیکی به مدار رأس السرطان، نزدیکی به مدار رأس الجدی، حضور در ارتفاعات

(۳) نزدیکی به مدار رأس الجدی، جریان آب سرد پرو (مرکز پرفشار)، دوری از منابع رطوبتی

(۴) حضور در مرکز پرفشار، نزدیکی به مدار رأس الجدی، حضور در ارتفاعات

۶۵- به ترتیب، کدام گزینه صحیح یا غلط بودن عبارت‌های زیر را به درستی بیان می‌کند؟

(الف) در تقسیم‌بندی کوپن یکی از انواع نواحی آب و هوایی، اقلیم گروه B یا نواحی خشک است.

(ب) بیابان‌های سرد عمدتاً در عرض جغرافیایی پایین یا در ارتفاعات قرار دارند.

(ج) بیابان‌های گرم عمدتاً در نواحی مجاور استوا و مدار رأس الجدی واقع شده‌اند.

(د) در سال ۲۰۰۹ ماهواره‌ها دمای  $۷۰$  درجه سانتی‌گراد را برای دره مرگ در کالیفرنیا به عنوان داغ‌ترین نقطه زمین ثبت کردند.

- (۱) ص - غ - غ - غ  
(۲) ص - ص - غ - غ  
(۳) غ - ص - غ - ص  
(۴) غ - غ - ص - ص



۶۶- به ترتیب کدام ابرها در بارندگی همرفتی تأثیر دارند و کدام بارش‌ها بیشتر به صورت همرفتی اتفاق می‌افتند و کدام عامل معیار

مؤثری در طبقه‌بندی آب‌وهوایی کوپن نیست؟

- (۱) کومولوس - ناگهانی - بارش  
(۲) کومولونیمبوس - ناگهانی - فشار هوا  
(۳) کومولوس - بهاری - فشار هوا  
(۴) کومولونیمبوس - بهاری - دما

۶۷- به ترتیب هر کدام از ویژگی‌های زیر، به کدام یک از گروه‌های آب‌وهوایی در طبقه‌بندی کوپن مربوط می‌شود؟

- میانگین سردترین ماه بین  $+18^{\circ}\text{C}$  تا  $-3^{\circ}\text{C}$  است. منبع پخش: آزمون وی ای پی

- نامناسب برای رویش گیاه است.

- کمبود بارش دارد.

- اختلاف دما زیاد است.

- (۱) معتدل - خشک - بسیار سرد (قطبی) - استوایی  
(۲) سرد - بسیار سرد (قطبی) - خشک - خشک  
(۳) سرد - خشک - بسیار سرد (قطبی) - استوایی  
(۴) معتدل - بسیار سرد (قطبی) - خشک - خشک

۶۸- به ترتیب، کدام گزینه پاسخ درست جاهای خالی زیر می‌باشد؟

(الف) جبهه هوا ... است.

(ب) برخورد توده‌های هوا با یکدیگر موجب ... هوا و در صورت دارا بودن ... موجب بارندگی می‌شود.

(ج) جبهه قطبی در منطقه ... تشکیل می‌شود.

(۱) مرز بین دو توده‌های مجاورند و آن‌ها را از هم جدا می‌کنند - ناپایداری، رطوبت - معتدله

(۲) مرز بین دو توده‌های غیرمجاورند و آن‌ها را به هم نزدیک می‌کنند - صعود، سرما - قطبی

(۳) مرز بین دو توده‌های مجاورند و آن‌ها را از هم جدا می‌کنند - صعود، سرما - معتدله

(۴) مرز بین دو توده‌های غیرمجاورند و آن‌ها را به هم نزدیک می‌کنند - ناپایداری، رطوبت - قطبی

۶۹- شکل زیر، کدام نوع بارش را نشان می‌دهد؟


(۱) ناهموازی

(۲) همرفتی

(۳) سیکلونی

(۴) سیلابی

تشکیل ابر، تراکم و بارش



۷۰- با توجه به موارد زیر، کدام یک در خصوص «صحرای بزرگ آفریقا»، درست است؟

(الف) کشور لیبی در صحرای بزرگ آفریقا در سال ۱۹۱۳ با دمای  $56/7$  درجه سانتی‌گراد به عنوان گرم‌ترین نقطه جهان ثبت شده است.

(ب) اطراف مدار رأس السرطان واقع شده است.

(ج) در منطقه پرفشار جنب‌حاره‌ای در حوالی مدارهای رأس السرطان و رأس‌الجدی به‌وجود آمده است.

(د) در عرض‌های جغرافیایی بالا واقع شده است.

(۱) موارد «الف» و «ب» برخلاف «ج» و «د» با جغرافیای این منطقه مطابقت دارد.

(۲) موارد «ب» و «ج» برخلاف «الف» و «د» با جغرافیای این منطقه مطابقت دارد.

(۳) موارد «ب» و «د» برخلاف «الف» و «ج» با جغرافیای این منطقه مغایرت دارد.

(۴) موارد «ج» و «الف» برخلاف «ب» و «د» با جغرافیای این منطقه مغایرت دارد.

**جغرافیا (۲) - آشنا**

۷۱- کدام گازها به ترتیب بیشترین حجم هواکره را تشکیل می دهند؟

- (۱) اکسیژن - دی اکسید کربن  
 (۲) نیتروژن - اکسیژن  
 (۳) اکسیژن - نیتروژن  
 (۴) نیتروژن - دی اکسید کربن

۷۲- جابه جایی توده های هوا بین کمربندهای فشار چه پیامدی دارد؟

- (۱) گرمای هوا در مناطق استوایی و نزدیک استوا  
 (۲) وزش بادهای مختلف در سطح کره زمین و تغییرات آب و هوایی  
 (۳) ایجاد رابطه بین هوا کره و زیست کره  
 (۴) وقوع طوفان های شدید در برخی مناطق کره زمین

۷۳- به ترتیب برای پی بردن به نوع آب و هوای یک ناحیه چه اقدامی انجام می دهند و کدام گزینه در ارتباط با آب و هوا نادرست است؟

(۱) داده های آماری مربوط به دما، بارش و رطوبت و ... را طی سال های طولانی جمع آوری و میانگین آن را محاسبه می کنند - ویژگی های آب و هوایی متفاوت موجب می شود که بخش های مختلف سیاره زمین یا یکدیگر تفاوت داشته باشند.

(۲) داده های آماری ایستگاه های هواشناسی را طی یک دوره یک ساله جمع آوری و میانگین آن را محاسبه می کنند - آب و هوا یکی از عوامل مهم پدید آمدن ناحیه نیست.

(۳) داده های آماری مربوط به دما، بارش و رطوبت و ... را طی سال های طولانی جمع آوری و میانگین آن را محاسبه می کنند - آب و هوا یکی از عوامل مهم پدید آمدن ناحیه نیست.

(۴) داده های آماری ایستگاه های هواشناسی را طی یک دوره یک ساله جمع آوری و میانگین آن را محاسبه می کنند - ویژگی های آب و هوایی متفاوت موجب می شود که بخش های مختلف سیاره زمین با یکدیگر تفاوت داشته باشند.

۷۴- هواپیمایی از ارتفاع ۸۰۰۰ متری یک کشتی اقیانوس پیما، در حال عبور است. دماسنج روی عرشه کشتی ۱۶ درجه سانتی گراد را نشان می دهد. در این زمان دماسنج هواپیما تقریباً چه درجه ای بر حسب سانتی گراد را نشان می دهد؟

- (۱) ۳۲-      (۲) ۲۶-      (۳) ۱۶-      (۴) ۳۸-

۷۵- با توجه به عبارت های زیر چند مورد صحیح می باشند؟

- الف) در مناطق استوایی، هر روز صبح باران های تند و رعد و برق مشاهده می شود.  
 ب) وقوع بارش به هوای مرطوب و عامل صعود بستگی دارد.  
 پ) بارندگی های جبهه های در نواحی استوایی صورت می گیرد.  
 ت) آسیای موسمی از نواحی بسیار پر باران در جهان است.  
 ث) وزش بادهای مختلف در سطح کره زمین موجب جابه جایی توده های هوا می شود.

- (۱) چهار      (۲) سه      (۳) دو      (۴) یک

۷۶- کدام یک از گزینه‌های زیر نادرست است؟

- (۱) کاهش دما با دور شدن از خط استوا
- (۲) کاهش دمای ۶ درجه‌ای بازای هر ۱۰۰۰ متر افزایش ارتفاع در وردسپهر
- (۳) نواحی استوایی سرچشمه جریان‌های دریایی آب گرم در اقیانوس‌ها
- (۴) مایل بودن محور زمین بر مدار گردش وضعی

۷۷- در رابطه با جبهه هوا:

(الف) کدام یک بر فراز دیگری بالا می‌رود؟

(ب) کدام یک در تغییرات آب و هوایی کشور ما نقش دارد؟

- (۱) هوای گرم بر فراز هوای سرد - جبهه استوایی
- (۲) هوای سرد بر فراز هوای گرم - جبهه استوایی
- (۳) هوای سرد بر فراز هوای گرم - جبهه قطبی
- (۴) هوای گرم بر فراز هوای سرد - جبهه قطبی

۷۸- به ترتیب پاسخ صحیح هریک از سؤال‌های زیر در کدام گزینه بیان شده است؟

(الف) عامل تمایز سیاره زمین از سایر سیارات در چیست؟

(ب) تابش عمود یا نزدیک به عمود خورشید در مناطق استوایی نتیجه چیست؟

(ج) اگر در منطقه A تنها عامل کاهش دما را افزایش ارتفاع در نظر بگیریم، صعود ۴۵۰۰ متری در این منطقه چند درجه روی دمای هوا تأثیر می‌گذارد؟

- (۱) الف) هواکره (ب) حرکت چرخشی زمین (ج) ۲۴ درجه
- (۲) الف) هواکره (ب) مایل بودن محور زمین (ج) ۲۷ درجه
- (۳) الف) زیست‌کره (ب) حرکت چرخشی زمین (ج) ۲۷ درجه
- (۴) الف) زیست‌کره (ب) مایل بودن محور زمین (ج) ۲۴ درجه

۷۹- به ترتیب به موازات فاصله گرفتن از استوا به سمت عرض‌های جغرافیایی بالاتر دمای هوا چه تغییری می‌یابد و سرچشمه

جریان‌های دریایی آب گرم کدام نواحی‌اند و تعریف هوا کدام است؟

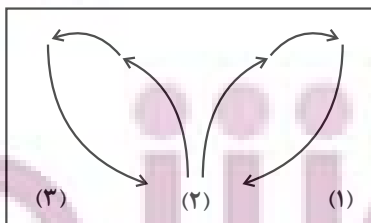
- (۱) کاهش می‌یابد. - استوا - شرایط و وضعیت هوای یک ناحیه در مدت زمان نسبتاً طولانی
- (۲) افزایش می‌یابد. - مدار ۶۰ درجه - شرایط و وضعیت هوای یک ناحیه در مدت زمان نسبتاً طولانی
- (۳) کاهش می‌یابد. - استوا - وضعیت گذرا و موقتی هواکره در یک محل در مدت زمانی کوتاه
- (۴) افزایش می‌یابد. - مدار ۶۰ درجه - وضعیت گذرا و موقتی هواکره در یک محل در مدت زمانی کوتاه

۸۰- با توجه به تصویر پاسخ پرسش‌های زیر به ترتیب کدام است؟

(الف) در کدام قسمت فشار هوا کم است؟

(ب) در مرکز پرفشار چه اتفاقی می‌افتد؟

- (۱) قسمت ۳ - فشار هوا به سمت مرکز ناحیه کم می‌شود.
- (۲) قسمت ۳ - فشار هوا به سمت مرکز ناحیه افزایش می‌یابد.
- (۳) قسمت ۲ - فشار هوا به سمت مرکز ناحیه کم می‌شود.
- (۴) قسمت ۲ - فشار هوا به سمت مرکز ناحیه افزایش می‌یابد.



یک روز، یک درس: روزهای پنج‌شنبه در سایت [www.kanoon.ir](http://www.kanoon.ir) به درس جغرافیا اختصاص دارد. شما می‌توانید خلاصه درس‌ها، نمونه سؤالات

پیشنهادی و آزمونک مربوط به درس جغرافیا را در این روز از قسمت تازه‌ها در سایت کانون و نیز صفحه مقطع خود دریافت کنید.

فلسفه

وقت پیشنهادی: ۲۵ دقیقه

فلسفه و زندگی / آغاز تاریخی فلسفه  
تا پایان «فلسفه در یونان»  
صفحه ۱۹ تا ۳۴

۸۱- کدام گزینه درباره استقلال در اندیشه درست است؟

- (۱) فقط برای فیلسوف اتفاق می افتد.
- (۲) کسی که دارای این ویژگی است سخن هیچ کس را نمی پذیرد.
- (۳) برای رسیدن به آن باید درباره همه باورها اندیشه کرد.
- (۴) عواملی که می توانند آن را تحت الشعاع قرار دهند، ممکن است مربوط به خود فرد باشند.

۸۲- کدام گزینه با توجه به تمثیل غار افلاطون درست است؟

- (۱) آنچه فرد زندانی در غار می بیند، متناظر با اشیاء واقعی در جهان است.
- (۲) در این تمثیل نور آتش، عامل هر چیز و عامل شناخت اشیاء است.
- (۳) اگر فرد زندانی به تدریج وارد نور شود، به دردی طاقت فرسا مبتلا خواهد شد.
- (۴) اگر فرد زندانی ناگهان به سوی مدخل غار برود، می تواند عین اشیایی که فقط سایه هایشان را می دیده، ببیند.

۸۳- اندیشه های «هستی و وجود، حقیقتی ثابت دارد.» و «تأکید بر نقش عقل در درک حرکت و سکون» به ترتیب، به کدام فیلسوف مربوط می شوند؟

- |                          |                           |
|--------------------------|---------------------------|
| (۱) پارمنیدس - هراکلیتوس | (۲) هراکلیتوس - پارمنیدس  |
| (۳) پارمنیدس - پارمنیدس  | (۴) هراکلیتوس - هراکلیتوس |

۸۴- سیر مطرح شده در کدام گزینه درست است؟

- (۱) معنای زندگی ← انتخاب اهداف ← فلسفه شخصی هر کس
- (۲) انتخاب اهداف ← معنای زندگی ← فلسفه شخصی هر کس
- (۳) فلسفه شخصی هر کس ← انتخاب اهداف ← معنای زندگی
- (۴) فلسفه شخصی هر کس ← باورهای فرد ← معنای زندگی

۸۵- کدام گزینه در مورد گاتاها نادرست است؟

- (۱) سروده های زرتشت می باشد.
- (۲) حکیمانی که آن را تألیف کرده اند در تمدنی می زیسته اند که پیش از تمدن یونان شکل گرفته است.
- (۳) حکایت از تفکر در مسائل غیربنیادی داشته است.
- (۴) شامل متون هندو نمی باشد.

۸۶- کدام گزینه به فایده متفاوتی از فواید تفکر فلسفی اشاره دارد؟

- (۱) ارائه فهم درستی از حقایق  
(۲) هموار شدن راه رسیدن به اعتقادات درست  
(۳) رهایی از عادت‌های غیرمنطقی  
(۴) نشان دادن مغالطه‌هایی جهت عبرت گرفتن مردم

۸۷- کدام گزینه در مورد زندانی رها شده از بند در تمثیل غار صحیح است؟

- (۱) اگر شخص تنومندی، فرد را از غار بیرون بکشد، او نمی‌تواند اشیای حقیقی را ببیند.  
(۲) وقتی فرد به غار برگردد، اطرافیانش سخنش را می‌پذیرند.  
(۳) زندانیانی که هرگز از غار بیرون نرفتند، اشیای حقیقی را سایه می‌پندارند.  
(۴) زندانیانی که بیرون آمده‌اند، هرگز نمی‌توانند اشیای حقیقی را بشناسند.

۸۸- هر عبارت سخن کدام فیلسوف می‌تواند باشد؟

(الف) دامنه یک کوه با این‌که از یک سمت سربالایی محسوب می‌گردد اما از سمت دیگر نیز سرپایینی است و این دو جمله منبع پخش: آزمون وی ای پی  
تضادی با هم ندارند.

(ب) حتی کره ماه هم از آب نشأت گرفته است.

(ج) دو مفهوم «بودن» و «شدن» با یکدیگر متفاوت‌اند و نمی‌توان آن‌ها را یکی دانست.

(د) عناصر اولیه موجودات همان اعداد و اصول اعدادند.

- (۱) پارمنیدس - فیثاغورس - هراکلیتوس - هرمس  
(۲) هراکلیتوس - تالس - پارمنیدس - فیثاغورس  
(۳) پارمنیدس - فیثاغورس - فیثاغورس - تالس  
(۴) هراکلیتوس - تالس - هراکلیتوس - فیثاغورس

۸۹- کدام گزینه صحیح است؟

- (۱) به ندرت، افراد یک جامعه افکار و عقایدی را می‌پذیرند که پشتوانه عقلی و منطقی محکمی ندارند.  
(۲) برای دانش فلسفه نمی‌توان، از نظر زمانی آغازی تعیین کرد اما از نظر مکانی می‌توان برای آن مبدایی در نظر آورد.  
(۳) فلسفه چون به سؤالات اساسی می‌پردازد، ممکن نیست در اولین تمدن‌ها مورد توجه بوده باشد.  
(۴) تمثیل غار افلاطون، مثالی برای استقلال در اندیشه و رهایی از عادت‌های غیرمنطقی است.

۹۰- استدلال تالس برای این گزاره که «همه چیز از آب ساخته شده است»، چیست؟

- (۱) تغییرات آب در درجات بالا و پایین  
(۲) نیاز حیوانات به نوشیدن آب  
(۳) این که بیشتر زمین از آب پوشیده شده  
(۴) این که آب مایع است و می‌تواند در زمین فرو رود

## فلسفه - آشنا

۹۱- کدام یک از گزینه‌های زیر، به تفکر فیلسوفانه معروف نیست؟

- (۱) آموختن چرایی باورها  
 (۲) یافتن صرفاً دلایل نادرستی‌ها  
 (۳) تأمل در باورهای زندگی  
 (۴) پذیرفتن باورهای درست و کنار گذاشتن باورهای نادرست

۹۲- کدام گروه از مردم، در انتخاب هدف به خطا رفته و زندگی آنان معنای نادرستی به خود گرفته است؟

- (۱) کسانی که نگرش نادرست درباره جهان و انسان دارند.  
 (۲) کسانی که کمتر به اموری مانند حقیقت انسان و جهان می‌اندیشند.  
 (۳) کسانی که فواید تفکر فلسفی را درک کرده‌اند.  
 (۴) کسانی که نتوانسته‌اند هدف درست را از غلط تشخیص دهند.

۹۳- مفهوم کدام عبارت نادرست است؟ افراد جامعه معمولاً...

- (۱) عقایدی را می‌پذیرند که پشتوانه عقلی و منطقی محکمی ندارد.  
 (۲) افکار اندیشمندان را مورد ارزیابی و نقد قرار می‌دهند.  
 (۳) افکاری را که بر اثر مرور زمان تبدیل به عادت شده را می‌پذیرند.  
 (۴) بدون دلیل افکاری را می‌پذیرند که از نسلی به نسل بعد انتقال یافته است.

۹۴- کدام یک از گزینه‌های زیر از فواید تفکر فلسفی سخن نمی‌گوید؟

- (۱) زمانی که در بحث پاسخ مناسبی به سؤال مطرح شده نداریم، برای پیروزی مطلب را دور می‌زنیم.  
 (۲) به کسی اجازه نمی‌دهیم که پاسخ اشتباه و عوام‌فریب به سؤال ما بدهد.  
 (۳) آموخته‌ها را به درستی برای دیگران تفهیم می‌کنیم.  
 (۴) خودمان می‌توانیم فکر کنیم و تصمیم خودمان را بدون تقلید بگیریم و دیگران را هم همراه خود کنیم.

۹۵- کدام یک از عبارتهای زیر مرتبط با «رهایی از عادات غیرمنطقی» از فواید تفکر فلسفی است؟

- الف) اندیشیدن و نظر دادن عموم مردم درباره مسائل بنیادین فلسفی  
 ب) نمایان شدن حقیقت با استقامت و پایداری متفکران حق طلب  
 ج) ارائه فهم درستی از حقایق عالم هستی و مسائل بنیادین توسط فیلسوفان  
 د) پذیرفتن یک عقیده توسط اکثر افراد جامعه بر اثر مرور زمان

(۴) الف و ج

(۳) ج و د

(۲) ب و د

(۱) الف و ب

۹۶- در تمدن‌های باستانی مانند ... نیز که ... از تمدن یونان شکل گرفته‌اند، کم و بیش ... رواج داشته است.

(۱) چین، هند، ایران و مصر - پس - حکمت و فلسفه

(۲) چین، هند، بین‌النهرین و مصر - پس - منطق و فلسفه

(۳) چین، هند، بین‌النهرین و مصر - پیش - حکمت و فلسفه

(۴) مصر، چین، بین‌النهرین و روم - پس - منطق و فلسفه

۹۷- کدام گزینه در ارتباط با فلاسفه یونان صحیح است؟

(۱) پارمنیدس معتقد بود، همه چیز در سیلان و حرکت است و هیچ چیز ثابتی در این جهان وجود ندارد.

(۲) بنا به نقل سقراط، افلاطون در جوانی با پارمنیدس ملاقات کرده است.

(۳) هراکلیتوس، عقیده داشت اموری که با هم ضد هستند، نمی‌توانند با یکدیگر جمع شوند.

(۴) از نظر پارمنیدس در جهان واقع، نیستی راه ندارد و نمی‌توان گفت: «نیستی، هست»، زیرا این جمله تناقض‌آمیز است.

۹۸- به ترتیب، هر یک از عبارات زیر مربوط به کدام فیلسوف است؟

- فلسفه خود را به صورت شعر عرضه می‌کرد.

- جهان دائماً در حال تغییر و تحول است.

- آب اولین عنصر و پایه و اساس سایر چیزها است.

(۱) تالس - هراکلیتوس - فیثاغورس

(۲) پارمنیدس - هراکلیتوس - تالس

(۳) پارمنیدس - فیثاغورس - هراکلیتوس

(۴) فیثاغورس - افلاطون - تالس

۹۹- زادگاه فلسفه یونانی کدام یک از گزینه‌های زیر است؟

(۱) ایونیا بخشی از سرزمین روسیه

(۲) ترکیه بخشی از یونان

(۳) ایونیا بخشی از ترکیه کنونی

(۴) روسیه بخشی از سرزمین یونان

۱۰۰- در کدام گزینه به درستی به دو دلیل شهرت هراکلیتوس در تاریخ فلسفه اشاره شده است؟

(۱) ارائه نظریه وحدت اضداد - اعتقاد به ثبات در جهان

(۲) رد نظریه وحدت اضداد - اعتقاد به تحول دائمی جهان

(۳) ارائه نظریه وحدت اضداد - اعتقاد به سیلان و حرکت در جهان

(۴) رد نظریه وحدت اضداد - اعتقاد به ثبات در جهان

**یک روز، یک درس:** روزهای شنبه در سایت [www.kanoon.ir](http://www.kanoon.ir) به درس فلسفه اختصاص دارد. شما می‌توانید خلاصه درس‌ها، نمونه

سوالات پیشنهادی و آزمونک مربوط به درس فلسفه را در این روز از قسمت تازه‌ها در سایت کانون و نیز صفحه مقطع خود دریافت کنید.

توشه ای برای موفقیت



## ادبیات پایداری

درس ۳ تا ۵

صفحه ۲۷ تا ۴۹

۱۰۱- معنای واژه‌های مشخص شده در مقابل کدام یک از گزینه‌های زیر، نادرست است؟

- (۱) صداها و نعره‌های درهم شترهای حامل زنبورک، با آهنگ شیپورها درمی آمیخت: (نوعی توپ جنگی)
- (۲) سپیده فردای گنجه با نهیب و صغیر گلوله‌های توپ روس، باز شد: (فرستاده)
- (۳) انگار از همه بریده بودند و حتی کورسویی از امید در دلشان پیدا نبود: (نور اندک)
- (۴) حکیمی را پرسیدند: «چندین درخت نامور که خدای عزّ و جل آفریده است.»: (مشهور)

۱۰۲- در کدام گزینه تعداد واژگان با املای نادرست بیشتر است؟

- (۱) معین بودن، قرن جدید، تشرّف کشور
- (۲) خرگه خوارزشاهی، غرض خورشید، قلت خوردن
- (۳) چشم طمع، موضوع مسلم، سلیب سرخ
- (۴) دشمنان بعثی، اعیاد مذهبی، عقربه‌های تنبل

۱۰۳- در متن زیر آرایه‌های کدام گزینه وجود دارد؟

«قفقاز زخم خورده و ستم دیده، نگاه منتظر و یاری جویش را به جنوب دوخته بود. موج‌های سنگین و افسارگسیخته ارس، سدوار در برابر سپاه ایستاده بود و چشم ناظران را خیره می کرد.»

- (۱) مجاز، کنایه، تشبیه، استعاره، تشخیص
- (۲) تشبیه، تضاد، استعاره، کنایه، ایهام
- (۳) کنایه، واج آرایی، مراعات نظیر، جناس، تشخیص
- (۴) حس آمیزی، تضاد، استعاره، واج آرایی، جناس

۱۰۴- با توجه به ابیات زیر، کدام گزینه درست است؟

«ز رخسارش فرو می ریخت اشکی  
در آن سیماب گون امواج لـرزان  
«ز رخسارش فرو می ریخت اشکی» آرایه تشخیص دارد.

- (۱) در بیت دوم، «خیال تازه» کنایه دارد.
- (۲) در بیت نخست کنایه وجود ندارد.
- (۳) در ابیات ادات تشبیه، مشاهده می شود.
- (۴) در بیت دوم، «خیال تازه» کنایه دارد.

۱۰۵- کدام یک از گزینه‌های زیر در مورد قالب «چهارپاره»، نادرست است؟

- (۱) نام دیگر این نوع شعر و قالب، «دوبیتی‌های پیوسته» است.
- (۲) «چهارپاره»، بیشتر برای طرح مضامین اجتماعی و سیاسی به کار می رود.
- (۳) رواج «چهارپاره»، از دوره پهلوی بوده و تاکنون ادامه یافته است.
- (۴) ملک الشعرای بهار، فریدون مشیری و فریدون تولّی سروده‌هایی در این قالب دارند.

## ۱۰۶- در کدام گزینه «شاخص» نمی‌یابید؟

- (۱) علامه دهخدا با تدوین لغت‌نامه خدمت فرهنگی بی‌نظیری انجام داد.
- (۲) به در خانه حاج‌آقا مدرس رسید و ایستاد.
- (۳) خاله‌ام با همه تمکّنی که داشت به زندگی درویشانه‌ای قناعت کرده بود.
- (۴) سیدرضی از شاعران و فقیهان قرن دوازدهم و گردآورنده نهج‌البلاغه است.

۱۰۷- واژه «دیروز» در کدام یک از گزینه‌های زیر نقش قیدی دارد؟

- (۱) دیروز، برایم روز بسیار خوبی بود.
- (۲) مطالب جلسه دیروز، در مدرسه مطرح شد.
- (۳) اتفاقات دیروز را بی‌اهمیت بدان.
- (۴) دیروز، با علی به اداره رفتیم.

## ۱۰۸- در عبارات زیر، چند «ترکیب اضافی» وجود دارد؟

«شهر، عرصه محشر را به خاطر می‌آورد. گنجه با واپسین رمق‌هایش، زیر سقفی از دود و غبار نفس می‌کشید. بادهای زمستان، ناله‌های واماندگان را با بوی خون هزاران شجاع گنجه تا فراز قلّه‌های قفقاز می‌برد.»

- (۱) هفت
- (۲) هشت
- (۳) نه
- (۴) ده

## ۱۰۹- مفهوم کدام بیت متفاوت است؟

- (۱) میان نیک و بد تخیل کردیم
- (۲) همه اخلاق نیکو در میانه است
- (۳) راه حق آن بود که در وسط است
- (۴) مباش عاشق افراط و مایل تفریط

## ۱۱۰- بیت زیر با کدام گزینه قرابت معنایی ندارد؟

- «در ره عشق وطن از سر جان خاسته‌ایم
- (۱) گر همه سر به سر، تن به کشتن دهیم
  - (۲) شبی آمد که می‌باید فدا کرد
  - (۳) خار گلزار وطن دامن آنسش بکشید
  - (۴) چنین گفت کامروز مردن به نام
- تا در این ره چه کند همّت مردانه ما»
- از آن به که کشور به دشمن دهیم
- به راه مملکت فرزندان و زن را
- هر که درگلشن پرخار جهان مأوا کرد
- به از زنده دشمن بدو شادکام

**یک روز، یک درس:** روزهای یکشنبه در سایت کانون <https://www.kanoon.ir> به درس فارسی اختصاص دارد. شما می‌توانید خلاصه‌درس‌ها و آزمونک مربوط به درس فارسی را در این روز از قسمت تازه‌ها در سایت کانون و نیز صفحه مقطع خود دریافت کنید.



## دین و زندگی (۲)

۱۰ دقیقه

## دین و زندگی (۲)

## تفکر و اندیشه

آخرین پیامبر، معجزه  
جاویدان

درس ۳ و ۴

صفحه ۲۵ تا ۵۰

۱۱۱- اگر کسی به واسطه آشنایی با زبان عربی دریابد که آیات قرآن با سایر سخن‌ها کاملاً فرق می‌کند، کدام اعجاز قرآن را دریافت نموده است و برطرف شدن نیاز مردم تا روز قیامت، بنا به گفته امام باقر (ع)، مؤید کدام جنبه از اعجاز قرآن است؟

(۱) لفظی - لفظی (۲) محتوایی - محتوایی

(۳) لفظی - محتوایی (۴) محتوایی - لفظی

۱۱۲- در هر یک از موارد زیر، به ترتیب، به کدام جنبه از اعجاز محتوایی قرآن کریم اشاره می‌شود؟

- قائل شدن حقوق خانوادگی و اجتماعی برای زن در قرآن

- نکوهش جهل در قرآن

(۱) ذکر نکات علمی بی‌سابقه - ذکر نکات علمی بی‌سابقه

(۲) تأثیرناپذیری از عقاید جاهلیت - ذکر نکات علمی بی‌سابقه

(۳) ذکر نکات علمی بی‌سابقه - تأثیرناپذیری از عقاید جاهلیت

(۴) تأثیرناپذیری از عقاید جاهلیت - تأثیرناپذیری از عقاید جاهلیت

۱۱۳- کدام مورد کارهای خارق‌العاده پیامبران را معجزه می‌نامد و معجزه آخرین پیامبر الهی باید چه ویژگی خاصی داشته باشد؟

(۱) قرآن کریم - اندیشمندان و ادیبان زمان خودش آن را معجزه بدانند.

(۲) قرآن کریم - آیندگان هم علاوه بر مردم زمان خودش آن را معجزه بدانند.

(۳) اندیشمندان اسلامی - آیندگان هم علاوه بر مردم زمان خودش آن را معجزه بدانند.

(۴) اندیشمندان اسلامی - اندیشمندان و ادیبان زمان خودش آن را معجزه بدانند.

۱۱۴- با توجه به آیه ۸۸ سوره اسراء، خداوند در مورد کدام یک می‌فرماید: «علی ان یأتوا بمثل هذا القرآن لا یأتون بمثله»؟

(۱) تمامی جن و انس

(۲) کسانی که در الهی بودن قرآن شک دارند.

(۳) کسانی که به دروغ قرآن را به پیامبر نسبت داده‌اند.

(۴) ادیبان و اندیشمندان

۱۱۵- آسان‌ترین راه برای غیرالهی نشان دادن اسلام و قرآن کریم در کدام عبارت شریفه تبیین شده است؟

(۱) «ان یأتوا بمثل هذا القرآن»

(۲) «قل فأتوا بسورة مثلہ»

(۳) «قل لئن اجتمعت الانس و الجن»

(۴) «لا یأتون بمثلہ»

ایمان تقویت  
تقویت ای برای موفقیت

۱۱۶- چه سرنوشتی در انتظار کسانی است که دینی جز اسلام اختیار کنند و ایمان نیاوردن پیروان پیامبر قبلی به آخرین پیامبر

نشانه چیست؟

(۱) ذلک هو الخسران المبین - وجود دو یا چند دین در یک زمان

(۲) و هو فی الاخرة من الخاسرین - وجود دو یا چند دین در یک زمان

(۳) و هو فی الاخرة من الخاسرین - عدم پیروی از دستورات پیامبران گذشته

(۴) ذلک هو الخسران المبین - عدم پیروی از دستورات پیامبران گذشته

۱۱۷- خداوند کدام گروه را مواخذه نخواهد کرد و به آنها پاداش هم می‌دهد؟

(۱) پیروان پیامبران گذشته که حقیقت را درک کرده‌اند.

(۲) پیروان پیامبران گذشته که از آمدن پیامبر جدید آگاه نشوند و مطابق دین خود عمل کنند.

(۳) کسانی که دست به تحقیق و جستجو بزنند اما نتوانند به حقایق دین جدید پی ببرند.

(۴) کسانی که حقیقت را درک کرده‌اند اما به خاطر امیال دنیوی از آن پیروی نمی‌کنند.

۱۱۸- وظیفه هر پیامبری که می‌آمد نسبت به پیامبر بعدی چه بود؟

(۱) تصحیح و تکمیل تعلیم او

(۲) بشارت به او

(۳) تأیید و هشدار از عدم پیروی از او

(۴) بشارت دادن و تأکید بر پیروی از او

۱۱۹- چرا خداوند در قرآن کریم، پیامبر (ص) را «خاتم النبیین» معرفی می‌کند و می‌فرماید: «ولکن رسول الله و خاتم النبیین»؟

(۱) تا پس از ایشان، کسی ادعای پیامبری نکند و مردم فریب نخورند.

(۲) زیرا پس از پیامبر (ص) پیامبری نخواهد آمد و مردم وظیفه دارند از او پیروی کنند.

(۳) تا پس از ایشان از ائمه معصومین (ع) اطاعت کنند.

(۴) زیرا وجود امامان معصوم پس از پیامبر اکرم (ص) سبب انجام همه مسئولیت‌های پیامبر (ص) می‌گردد.

۱۲۰- کدام ویژگی دین مبین اسلام سبب می‌شود که پاسخ‌گوی نیازهای بشر در دوره‌های مختلف گردد؟

(۱) حفظ قرآن کریم از هر گونه تحریف و انحراف - وجود امامان معصوم (ع)

(۲) توجه به نیازهای متغیر در عین توجه به نیازهای ثابت - وجود امامان معصوم (ع)

(۳) توجه به نیازهای متغیر در عین توجه به نیازهای ثابت - وجود قوانین تنظیم‌کننده

(۴) حفظ قرآن کریم از هر گونه تحریف و انحراف - وجود قوانین تنظیم‌کننده

**یک روز، یک درس:** روزهای شنبه در سایت کانون <https://www.kanoon.ir> به درس دین و زندگی اختصاص دارد. شما می‌توانید خلاصه‌درس‌ها و آزمونک مربوط به درس دین و زندگی را در این روز از قسمت تازه‌ها در سایت کانون و نیز صفحه مقطع خود دریافت کنید.

زبان انگلیسی (۲)

۱۵ دقیقه

زبان انگلیسی (۲)  
Understanding  
People  
(Grammar, ...,  
Pronunciation)

درس ۱

صفحه ۲۸ تا ۳۶

**PART A: Grammar and Vocabulary**

**Directions:** Choose the word or phrase (1), (2), (3), or (4) that best completes each sentence. Then mark the answer on your answer sheet.

121- These days, plenty of researchers are trying to protect endangered languages, and this can save ... information and cultural values of people all around the world.

- 1) a few                                      2) a little                                      3) many                                      4) lots of

122- Yesterday, my father and I decided to buy the newest iPhone, 15 pro, for me, but we couldn't buy it because it was too expensive. It was ... .

- 1) seven hundred and ninety nine dollar  
2) seven hundreds and ninety-nine dollar  
3) seven hundred and ninety-nine dollars  
4) seven hundreds and ninety nine dollars

123- Today after his English class, my close friend, Jack, talked with our English teacher about the future and the teacher gave him some advice. I hope that my noble friend takes ... .

- 1) that piece of advices  
2) those pieces of advice  
3) that pieces of advice  
4) those piece of advice

124- To see how your language skills are improving, you need to ... changes in your vocabulary and fluency over time.

- 1) measure                                      2) protect                                      3) communicate                                      4) complete

125- I asked the man about the picture and he said he wanted one thousand dollars because it had historical ... .

- 1) mind                                      2) culture                                      3) language                                      4) value

126- The lost man asked for help from the ... hunters and fishermen who lived less than thirty kilometers away.

- 1) foreign                                      2) native                                      3) amazing                                      4) specific

**PART B: Reading Comprehension**

**Directions:** Read the following passage and answer the questions by choosing the best choice (1), (2), (3), or (4). Then mark the correct choice on your answer sheet.

Learning a new language takes time and dedication. In the beginning, it is useful to be exposed to the language regularly through reading, listening, writing, and speaking. Reading children's books, watching TV shows, writing a journal, and having simple conversations with native speakers are good starter activities. These give learners a feel for the patterns and rhythms of the new language.

As learners gain basic proficiency, watching movies, listening to the news, and surfing the internet become helpful. These expose learners to more complex vocabulary and language structures. Talking to native speakers is also important at this stage. Learners should try to communicate as much as possible and not be afraid of making mistakes, as mistakes are part of the learning process.

Over time, with continued practice and exposure, fluency develops. Fluency comes from lots of listening and speaking. Joining language classes, exchange programs and travel to countries where the language is spoken will greatly accelerate learning. With persistence and dedication, anyone can become proficient in a foreign language. The reward is the ability to communicate with more people around the world.

**127- What is the topic of the passage?**

- 1) Effective language learning strategies
- 2) The history of language learning
- 3) Famous language teachers and their achievements
- 4) How to become a professional language teacher

**128- How can learners achieve fluency in a foreign language, according to the passage?**

- |   |  |
|---|--|
| 1) Through occasional practice with native speakers | 2) Only by attending language classes              |
| 3) By joining exchange programs and traveling       | 4) Fluency comes naturally with basic proficiency. |

**129- The underlined word "proficiency" in paragraph 2 refers to which of the following options?**

- |          |               |               |            |
|----------|---------------|---------------|------------|
| 1) skill | 2) experience | 3) dictionary | 4) percent |
|----------|---------------|---------------|------------|

**130- According to the passage, which activity is NOT recommended for learners trying to gain basic proficiency in a new language?**

- 1) Watching TV shows
- 2) Reading children's books
- 3) Writing a journal in the new language
- 4) Traveling to countries where many languages are spoken

تبدیل به تست نمونه سؤال‌های امتحانی

**PART C: Grammar and Vocabulary**

**Directions:** Choose the word or phrase (1), (2), (3), or (4) that best completes each sentence. Then mark the answer on your answer sheet.

131- In the sea, there are ... of fish, each one with its own unique colors and patterns that make them special.

- 1) two millions of different types
- 2) millions of different types
- 3) two million of different types
- 4) millions of different type

132- How ... do you think it will take to complete the project, considering the available resources and any possible challenges?

- 1) many of times
- 2) some of the times
- 3) much time
- 4) little time

133- My mom and I baked a cake yesterday, and we used ... to make the cake extra creamy and delicious.

- 1) three bottles milk
- 2) three milks bottles
- 3) three milk of bottles
- 4) three bottles of milk

134- In order to succeed in this project, we must all understand and agree on this important ... that quality is more important than quantity.

- 1) point
- 2) history
- 3) candle
- 4) price

135- Using a language ... can change the intended meaning and prevent successful communication, so it's important to take the time to learn it correctly.

- 1) wrongly
- 2) carefully
- 3) fortunately
- 4) probably

136- The cost of mobile phones can ... greatly based on the brand, model, and features they offer.

- 1) exist
- 2) disappear
- 3) vary
- 4) order

**یک روز، یک درس:** روزهای دوشنبه در سایت کانون <https://www.kanoon.ir> به درس زبان انگلیسی اختصاص دارد. شما می‌توانید خلاصه‌درس‌ها و آزمونک مربوط به درس زبان انگلیسی را در این روز از قسمت تازه‌ها در سایت کانون و نیز صفحه مقطع خود دریافت کنید.



**PART D: Reading Comprehension**

**Directions:** Read the following passage and answer the questions by choosing the best choice (1), (2), (3), or (4). Then mark the correct choice on your answer sheet.

The world's population is growing really fast. Currently, there are over 7.8 billion people on the planet, and this number is expected to reach 9.7 billion by 2050. The majority of this growth is happening in developing countries in Africa and Asia. In fact, it is estimated that by 2100, Africa alone will be home to more than 4 billion people.

This rapid population growth has big effects on our planet. It puts pressure on resources such as food, water, and energy, and makes problems such as pollution and climate change worse. It also creates challenges for governments and societies, because they need to provide basic things such as schools, hospitals, and homes to a growing population.

Despite these difficulties, there are also opportunities that come with a growing population. We have more people to work and come up with new ideas. And when we have lots of different people, we can learn more from each other and make the world a better place.

137- Which of the following is TRUE, according to the passage?

- 1) The world's population is decreasing fast.
- 2) Most of the population growth is happening in Africa and Asia.
- 3) The rapid population growth has no effect on our planet.
- 4) A growing population does not bring any opportunities.

138- How many more people are expected to be living in the world in about 30 years?

- 1) 7.8 billion
- 2) 1.9 billion
- 3) 3 billion
- 4) 9.7 billion

139- What is one of the challenges that comes with a growing population?

- 1) More money and new inventions
- 2) New ideas and ways of looking at things
- 3) Better schools, hospitals, and homes
- 4) Not having enough resources

140- What is the main idea of paragraph 3?

- 1) A growing population makes it harder to find enough food.
- 2) Many more people are being born in Africa and Asia.
- 3) Despite being hard, having more people can help us.
- 4) Problems like pollution and climate change will be worse by 2050.