

ایران نوشته

- دانلود نمونه سوالات امتحانی

- دانلود گام به گام

- دانلود آزمون گام به گام و چیدمان

- دانلود فیلم و مقاله انگلیزی

- کنکور و مشاوره

 IranTooshe.Ir

 @irantooshe

 IranTooshe





سال تحصیلی ۹۶ - ۹۵
مدت پاسخگویی ۴۰ دقیقه

به نام خدای مهربان
اداره آموزش و پرورش منطقه یک تهران

دبستان پسرانه غیر دولتی رشد (دوره دوم)

آزمون نوبت دوم
مطالعات اجتماعی (۴)

کد:


کلاس: چهارم /


تاریخ آزمون: ۱۳۹۶/۳/۲

نام و نام خانوادگی:

آموزگار:

بارم	شرح سوال	ردیف
۴	<p>گزینه ی صحیح را انتخاب کن.</p> <p>(۱) کدام گزینه نشانه ی همکاری بین همسایه ها نیست؟ <input type="radio"/> الف) عیادت کردن <input type="radio"/> ب) کمک کردن <input type="radio"/> ج) برگزاری جشن های مذهبی <input type="radio"/> د) بی توجهی به مشکلات یکدیگر</p> <p>(۲) کدام یک از شغل های زیر ، تولیدی است؟ <input type="radio"/> الف) نانوايي <input type="radio"/> ب) خشکشویی <input type="radio"/> ج) بانک <input type="radio"/> د) سوپرمارکت</p> <p>(۳) کدام جهت بین شمال و غرب است؟ <input type="radio"/> الف) شمال شرقی <input type="radio"/> ب) شمال غربی <input type="radio"/> ج) جنوب شرقی <input type="radio"/> د) جنوب غربی</p> <p>(۴) علت سقوط هخامنشیان کدام است؟ <input type="radio"/> الف) مرگ کوروش <input type="radio"/> ب) حمله ی اشکانیان <input type="radio"/> ج) حمله ی رومی ها <input type="radio"/> د) بی لیاقتی شاهان و اختلاف های داخلی</p> <p>(۵) در جغرافیا مهمترین وسیله ی مطالعه چیست؟ <input type="radio"/> الف) فیلم <input type="radio"/> ب) عکس <input type="radio"/> ج) نقشه <input type="radio"/> د) کره جغرافیا</p> <p>(۶) روز پیروزی انقلاب اسلامی چه روزی و چه سالی بود؟ <input type="radio"/> الف) ۱۲ بهمن ۱۳۵۸ <input type="radio"/> ب) ۲۲ بهمن ۱۳۵۷ <input type="radio"/> ج) ۱۵ خرداد ۱۳۴۲ <input type="radio"/> د) ۱۲ فروردین ۱۳۵۸</p> <p>(۷) کدام یک از روزهای تعطیل زیر جزء مناسبت های ملی می باشد؟ <input type="radio"/> الف) عید فطر <input type="radio"/> ب) عید غدیر <input type="radio"/> ج) عید نوروز <input type="radio"/> د) عید قربان</p> <p>(۸) پوشش گیاهی ناحیه کوهستانی ، چگونه است؟ <input type="radio"/> الف) جنگل های راش و افرا <input type="radio"/> ب) جنگل های بلوط و پسته کوهی <input type="radio"/> ج) درختان نخل و گز <input type="radio"/> د) درختچه های خاردار</p>	۱
۳	<p>جاهای خالی را کامل کن.</p> <p>الف) در یک روستا ، اداره ی آن به عهده ی است.</p> <p>ب) نام کتاب مقدس زرتشتیان است.</p> <p>پ) مادها به رهبری توانستند آشوری ها را شکست دهند.</p> <p>ت) جلگه ی وسیع ترین جلگه ای ایران است.</p> <p>ث) برای تعیین آب و هوای یک منطقه ، دمای هوا و را اندازه گیری می کنند.</p> <p>ج) به زمین های پایین کوه ، می گویند.</p>	۲

۳	<p>جمله های درست یا نادرست را مشخص کن.</p> <p>الف) بوستان یک محله ، مکانی مناسب برای استراحت و ورزش مردم یک محله است. درست <input type="radio"/> نادرست <input type="radio"/></p> <p>ب) در یک نقشه ،  علامت جاده است. درست <input type="radio"/> نادرست <input type="radio"/></p> <p>پ) تمدن شهر سوخته در کنار رود کارون تشکیل شد. درست <input type="radio"/> نادرست <input type="radio"/></p> <p>ت) فرماندهی قدرتمند ایرانی در زمان اشکانیان ، سورنا نام داشت. درست <input type="radio"/> نادرست <input type="radio"/></p> <p>ث) اگر در یک منطقه تعداد درختان بلوط کم شود ، تعداد موش های آن منطقه کم می شود. درست <input type="radio"/> نادرست <input type="radio"/></p> <p>ج) بلندترین قلّه ی ایران دماوند است. درست <input type="radio"/> نادرست <input type="radio"/></p>	۳
۱	<p>مرکز هر یک از استان های زیر را بنویس.</p> <p>خراسان رضوی : خوزستان :</p> <p>کرمان : مازندران :</p>	۴
۱	<p>یک تمدن چه ویژگیهایی باید داشته باشد؟ (چهار مورد)</p> <p>۱- ۲- ۳- ۴-</p>	۵
۱	<p>دو مورد از فعالیت های داریوش هخامنشی را بنویسید.</p>	۶
۱	<p>چرا در اواخر حکومت ساسانی ، مردم روز به روز ناراضی تر می شدند؟ (۲ مورد بنویس)</p>	۷
۱	<p>نام دو رشته کوه مهم ایران را بنویسید : ۱- ۲-</p>	۸
۱	<p>ناحیه ی معتدل خزری و گرم و خشک داخلی را با هم مقایسه کنید. (۲ مورد بنویس)</p> <p>۱- ۲-</p>	۹
۱/۵	<p>سه مورد از فعالیت های انسان که موجب تخریب (خراب شدن) زیستگاه ها می شود را بنویسید.</p> <p>۱- ۲- ۳-</p>	۱۰

۱	<p>۱۱ مردم ایران چه نشانه های مشترکی دارند؟ (۴ مورد)</p> <p>۱- ۲- ۳- ۴-</p>	۱۱
۱/۵	<p>۱۲ با توجه به نقشه ایران پاسخ دهید:</p>  <p>۱) دریای ۲) دریای ۳) قله ی ۴) رشته کوه ۵) دشت ۶) جلگه ی</p>	۱۲



موسسه آموزش عالی
پارس

به نام خدای مهربان

اداره آموزش و پرورش منطقه یک تهران

دبستان پسرانه غیر دولتی رشد (دوره دوم)

آزمون نوبت دوم

مطالعات اجتماعی (۴)

کد:

کلاس: چهارم /

تاریخ آزمون: ۱۳۹۶/۳/۲

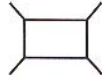
نام و نام خانوادگی:

آموزگار:

سال تحصیلی ۹۶ - ۹۵

مدت پاسخگویی ۴۰ دقیقه

بارم	شرح سوال	ردیف
۴	<p>گزینه ی صحیح را انتخاب کن.</p> <p>۱) کدام گزینه نشانه ی همکاری بین همسایه ها نیست؟ <input type="radio"/> الف) عبادت کردن <input type="radio"/> ب) کمک کردن <input type="radio"/> ج) برگزاری جشن های مذهبی <input checked="" type="radio"/> د) بی توجهی به مشکلات یکدیگر</p> <p>۲) کدام یک از شغل های زیر ، تولیدی است؟ <input checked="" type="radio"/> الف) نانوايي <input type="radio"/> ب) خشکشویی <input type="radio"/> ج) بانک <input type="radio"/> د) سوپرمارکت</p> <p>۳) کدام جهت بین شمال و غرب است؟ <input type="radio"/> الف) شمال شرقی <input checked="" type="radio"/> ب) شمال غربی <input type="radio"/> ج) جنوب شرقی <input type="radio"/> د) جنوب غربی</p> <p>۴) علت سقوط هخامنشیان کدام است؟ <input type="radio"/> الف) مرگ کوروش <input type="radio"/> ج) حمله ی رومی ها <input checked="" type="radio"/> ب) حمله ی اشکانیان <input type="radio"/> د) بی لیاقتی شاهان و اختلاف های داخلی</p> <p>۵) در جغرافیا مهمترین وسیله ی مطالعه چیست؟ <input type="radio"/> الف) فیلم <input type="radio"/> ب) عکس <input checked="" type="radio"/> ج) نقشه <input type="radio"/> د) کره جغرافیا</p> <p>۶) روز پیروزی انقلاب اسلامی چه روزی و چه سالی بود؟ <input type="radio"/> الف) ۱۲ بهمن ۱۳۵۸ <input checked="" type="radio"/> ب) ۲۲ بهمن ۱۳۵۷ <input type="radio"/> ج) ۱۵ خرداد ۱۳۴۲ <input type="radio"/> د) ۱۲ فروردین ۱۳۵۸</p> <p>۷) کدام یک از روزهای تعطیل زیر جزء مناسبت های ملی می باشد؟ <input type="radio"/> الف) عید فطر <input type="radio"/> ب) عید غدیر <input checked="" type="radio"/> ج) عید نوروز <input type="radio"/> د) عید قربان</p> <p>۸) پوشش گیاهی ناحیه کوهستانی ، چگونه است؟ <input type="radio"/> الف) جنگل های راش و افرا <input type="radio"/> ب) جنگل های بلوط و پسته کوهی <input type="radio"/> ج) درختان نخل و گز <input type="radio"/> د) درختچه های خاردار</p>	۱
۳	<p>جاهای خالی را کامل کن.</p> <p>الف) در یک روستا ، اداره ی آن به عهده ی <u>سورای اسلامی</u> است.</p> <p>ب) نام کتاب مقدس زرتشتیان <u>اوستا</u> است.</p> <p>پ) مادها به رهبری <u>دراک</u> توانستند آشوری ها را شکست دهند.</p> <p>ت) جلگه ی <u>فهرستان</u> وسیع ترین جلگه ای ایران است.</p> <p>ث) برای تعیین آب و هوای یک منطقه ، دمای هوا و <u>میزان بارش</u> را اندازه گیری می کنند.</p> <p>ج) به زمین های پایین کوه ، <u>رودخانه</u> می گویند.</p>	۲

۳	<p>جمله های درست یا نادرست را مشخص کن.</p> <p>(الف) بوستان یک محله ، مکانی مناسب برای استراحت و ورزش مردم یک محله است. <input checked="" type="radio"/> درست <input type="radio"/> نادرست</p> <p>(ب) در یک نقشه ،  علامت جاده است. <input checked="" type="radio"/> درست <input type="radio"/> نادرست</p> <p>(پ) تمدن شهر سوخته در کنار رود کارون تشکیل شد. <input type="radio"/> درست <input checked="" type="radio"/> نادرست</p> <p>(ت) فرماندهی قدرتمند ایرانی در زمان اشکانیان ، سورنا نام داشت. <input checked="" type="radio"/> درست <input type="radio"/> نادرست</p> <p>(ث) اگر در یک منطقه تعداد درختان بلوط کم شود ، تعداد موش های آن منطقه کم می شود. <input checked="" type="radio"/> درست <input type="radio"/> نادرست</p> <p>(ج) بلندترین قلّه ی ایران دماوند است. <input checked="" type="radio"/> درست <input type="radio"/> نادرست</p>	۳
۱	<p>مرکز هر یک از استان های زیر را بنویس.</p> <p>خراسان رضوی : <u>مشهد</u></p> <p>خوزستان : <u>اهواز</u></p> <p>کرمان : <u>بیرجند</u></p> <p>مازندران : <u>ساری</u></p>	۴
۱	<p>یک تمدن چه ویژگیهایی باید داشته باشد؟ (چهار مورد)</p> <p>۱- <u>نخ</u> ۲- <u>طوبت و عاقلان</u> ۳- <u>دارو سینه</u> ۴- <u>عقاید مذهبی</u></p>	۵
۱	<p>دو مورد از فعالیت های داریوش هخامنشی را بنویسید.</p> <p>۱- <u>توسیع پناه ده خرابی</u> ۲- <u>اجرای جاده ها</u></p> <p>۳- <u>تقسیم بندی شهر</u> ۴- <u>ساخت راه ها</u></p>	۶
۱	<p>چرا در اواخر حکومت ساسانی ، مردم روز به روز ناراضی تر می شدند؟ (۲ مورد بنویس)</p> <p>۱- <u>به دلیل برداشت مالیات زیاد برای هزینه های جنگ با رومی ها</u></p> <p>۲- <u>مخوم بودن از استیارت صلح آموختن و سواد</u></p> <p>۳- <u>عدم توجه به مردم بدین حوش ندران شاهان</u></p>	۷
۱	<p>نام دو رشته کوه مهم ایران را بنویسید : ۱- <u>زاگرس</u> ۲- <u>البرز</u></p>	۸
۱	<p>ناحیه ی معتدل خزری و گرم و خشک داخلی را با هم مقایسه کنید. (۲ مورد بنویس)</p> <p>۱- <u>باران در این دریاچه ی خزری</u> ۲- <u>زمستان های سرد و تابستان های گرم دریاچه ی درم وصل</u></p> <p>۳- <u>باران کم دریاچه ی گرم وصل</u> ۴- <u>زمستان و تابستان معتدل دریاچه ی خزری</u></p>	۹
۱/۵	<p>سه مورد از فعالیت های انسان که موجب تخریب (خراب شدن) زیستگاه ها می شود را بنویسید.</p> <p>۱- <u>روشن کردن آتش و خاموش کردن آن</u></p> <p>۲- <u>کاخ ها و آرمین ها ها مواردی است که راه های وارز می کنند</u></p> <p>۳- <u>شکار حیوانات برای تفریح و سرگرمی موجب نابودی آنها می شود</u></p>	۱۰

مردم ایران چه نشانه های مشترکی دارند؟ (۴ مورد)

۱۱

۱- رسم کتبی

۲- تقویم شمسی

۳- سرود ملی

۴- قانون اساسی

۵- خط و زبان فارسی

با توجه به نقشه ایران پاسخ دهید:

۱۲

۱) دریای خزر

۲) دریای خلیج فارس

۳) قله ی زردکوه

۴) رشته کوه البرز

۵) دشت کویر

۶) جلگه ی مازان



۱/۵