



یازدهم انسانی



۵ آبان ۱۴۰۲

دفترچه سؤال

آزمون هدف‌گذاری، یک آزمون مهم در روز پنج‌شنبه هفته اول می‌توانید در آزمون هدف‌گذاری شرکت کنید. با شرکت در این آزمون برنامه‌ریزی دقیق‌تری برای هفته دوم خواهید داشت. این آزمون با همان بودجه‌بندی آزمون اصلی بعدی برگزار می‌شود و تمام سؤالات آن جدید هستند. برای شرکت در آزمون هدف‌گذاری به صفحه شخصی خود بروید و در قسمت داشبورد وارد بخش آزمون‌های غیرحضورى شوید.



این پیرایه موفقیت
توشیه ای برای موفقیت

پدید آورندگان آزمون

طراحان به ترتیب حروف الفبا

نام طراحان	نام درس
سامان اسپهرم، محمد حمیدی، امیر زراندوز، احسان غنی‌زاده، فرشید کریمی	ریاضی و آمار (۲)
سعید جعفری، سیدعلیرضا علویان، افشین کیانی، محمد نورانی، علی وفایی خسروشاهی	علوم و فنون ادبی (۲)
زینب آذری، مهرشاد ایمانی‌نسب، کوثر شاه‌حسینی، فاطمه صفری، علیرضا مختاری	جامعه‌شناسی (۲)
حمیدرضا توکلی، فرزانه حاجی، ریحانه خدابخشی، فاطمه صفری، فاطمه قائم‌مقامی	روان‌شناسی
مریم آقاباری، آرمن ساعدپناه، علیرضا قلی‌زاده، ولی‌الله نوروزی، مجید همایی	عربی، زبان قرآن (۲)
امیر حمزه‌اردی، آرام شهاوند، سمیه طالبی، عاطفه طاهر، مهدی کردان	تاریخ (۲)
امیر حمزه‌اردی، آرام شهاوند، سمیه طالبی، عاطفه طاهر، مهدی کردان	جغرافیا (۲)
راحله بابائی، فرزانه حاجی، محمد رضایی‌نقا، موسی سپاهی، غلامحسین عزیزی، علیرضا نصیری	فلسفه
حسن افتاده، حسین پرهیزگار، داود تالشی، علی وفایی خسروشاهی	فارسی
امیر مهدی افشار، محمد رضایی‌نقا، مجید فرهنگیان	دین و زندگی
مجتبی درخشان، محسن رحیمی، عقیل محمدی‌روش	زبان

گزینشگران و ویراستاران

نام درس	مسئول درس	ویراستار	فیلتر نهایی	مستندسازی
ریاضی و آمار (۲)	محمد حمیدی	محمد بحیرایی، امیرحسین ابومحبوب	رامیلا عسگری	سمیه اسکندری
علوم و فنون ادبی (۲)	اعظم نوری‌نیا	احسان کلاته‌عربی	معین دانایی	الناز معتمدی
جامعه‌شناسی (۲)	کوثر شاه‌حسینی	امیرحسین کاروبین	-	زهره قموشی
روان‌شناسی	ریحانه خدابخشی	محمد صمدی، عاطفه طاهر	مهتاب شیرازی	زهره قموشی
عربی، زبان قرآن (۲)	مریم آقاباری	درویشعلی ابراهیمی، اسماعیل یونس‌پور	زهره کتیبه	لیلا ایزدی
تاریخ (۲)	سجاد رضیان	سارا معصوم‌زاده	کیانا یوسف‌زاده	عطیه محلوچی
جغرافیا (۲)	سجاد رضیان	سارا معصوم‌زاده	زهره کتیبه	عطیه محلوچی
فلسفه	علیرضا نصیری	احمد منصوری	امیر داورپناه	زهره قموشی
فارسی	علی وفایی خسروشاهی	اعظم رجایی، مرتضی منشاری	-	الناز معتمدی
دین و زندگی	امیر مهدی افشار	سکینه گلشنی	-	زهره قموشی
زبان	عقیل محمدی‌روش	رحمت‌الله استیری، فاطمه نقدی	-	سوگند بیگلری

گروه فنی و تولید

گروه عمومی	گروه اختصاصی	مدیر گروه
الهام محمدی	آفرین ساجدی	مدیر گروه
معصومه شاعری	خدیجه جنت‌علیپور	مسئول دفترچه
	محیا اصغری	مدیر گروه مستندسازی
فریبا رنوفی	لیلا ایزدی	مسئول دفترچه گروه مستندسازی
سحر ایروانی	مهین‌علی محمدی‌جلالی	حروف‌چین و صفحه‌آرا
	سوران نعیمی	ناظر چاپ

آزمون ۵ آبان ماه ۱۴۰۲

یازدهم انسانی

مدت پاسخ‌گویی: ۱۵۰ دقیقه

تعداد سؤال: ۱۳۰

عنوان مواد امتحانی گروه آزمایشی علوم انسانی، تعداد، شماره سؤال‌ها و مدت پاسخ‌گویی

ردیف	مواد امتحانی	تعداد سؤال	از شماره	تا شماره	مدت پاسخ‌گویی (به دقیقه)
۱	ریاضی و آمار (۲)	۱۰	۱	۱۰	۱۵
۲	علوم و فنون ادبی (۲)	۱۰	۱۱	۲۰	۲۵
۳	علوم و فنون ادبی (۲) - آشنا	۱۰	۲۱	۳۰	
۴	جامعه‌شناسی (۲)	۱۰	۳۱	۴۰	۲۰
۵	جامعه‌شناسی (۲) - آشنا	۱۰	۴۱	۵۰	
۶	روان‌شناسی	۱۰	۵۱	۶۰	۱۰
۷	عربی، زبان قرآن (۲)	۱۰	۶۱	۷۰	۱۵
۸	تاریخ (۲)	۱۰	۷۱	۸۰	۱۰
۹	جغرافیا (۲)	۱۰	۸۱	۹۰	۱۰
۱۰	فلسفه	۱۰	۹۱	۱۰۰	۱۵
۱۱	فارسی	۱۰	۱۰۱	۱۱۰	۱۰
۱۲	دین و زندگی	۱۰	۱۱۱	۱۲۰	۱۰
۱۳	زبان	۱۰	۱۲۱	۱۳۰	۱۰

ریاضی و آمار (۲)

وقت پیشنهادی: ۱۵ دقیقه

آشنایی با منطق و استدلال ریاضی
تا پایان «ترکیب شرطی دو گزاره»
صفحة ۲ تا ۷

۱- چه تعداد از جملات یا عبارتهای زیر، گزاره محسوب می شوند؟

الف) خودروهای بنز از بی ام دیبلو زیباتر هستند.

ب) بعد از خواندن هر مبحث، ۱۰ تست از آن حل کنید.

ج) نمودار دایره ای می تواند حداکثر ۶ متغیر را نشان دهد.

د) ۳۷۵۶۱ عددی اول است.

ه) $(-\frac{1}{3}) \in \mathbb{R}$

و) $\sqrt{2} - 1 \geq 0$

۱ (۴)

۲ (۳)

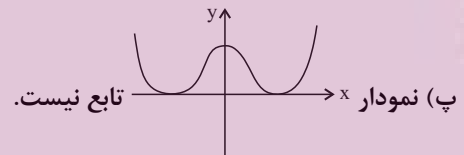
۳ (۲)

۴ (۱)

۲- چند مورد از گزاره های زیر دارای ارزش درست هستند؟

الف) نمودار خط $y = 2x + 5$ از ربع اول نمی گذرد.

ب) $(a - b)(a + b) = a^2 - b^2$



ت) مزه غذاها (خوب - متوسط - بد) متغیر کیفی ترتیبی است.

ث) عدد ۱ نه اول است نه مرکب.

ج) میانه، همان چارک اول است.

۱ (۴)

۲ (۳)

۳ (۲)

۴ (۱)

۳- نقیض گزاره « k مثبت است» در کدام گزینه به درستی بیان نشده است؟

(۲) چنین نیست که k مثبت باشد.

(۱) k مثبت نیست.

(۴) k منفی یا صفر است.

(۳) k منفی است.

۴- تعداد x گزاره ساده با یکدیگر ترکیب می شوند. اگر تعداد حالات درست ترکیب عطفی تمام گزاره ها با یکدیگر M و تعداد

حالات درست ترکیب فصلی تمام گزاره ها با یکدیگر N باشد و $N - M = 30$ باشد؛ در این صورت x کدام است؟

۵ (۴)

۶ (۳)

۷ (۲)

۸ (۱)

محل انجام محاسبات

۵- تعداد ردیف‌های جدول ارزش‌گذاری مربوط به ۵ گزاره، چند برابر تعداد ردیف‌های جدول ارزش‌گذاری مربوط به ۷ گزاره‌ای است؟

- (۱) ۴ (۲) $\frac{1}{4}$ (۳) ۵ (۴) $\frac{1}{5}$

۶- ارزش کدام گزاره زیر همواره درست است؟

« p و q دو گزاره دلخواه، F گزاره‌ای نادرست و T گزاره‌ای درست است.»

(۱) $\sim p \wedge F$ (۲) $\sim(\sim p) \wedge \sim p$

(۳) $(\sim p \wedge F) \vee (\sim p \vee T)$ (۴) $(p \vee q) \wedge (p \vee \sim q)$

۷- کدام گزاره، شامل ترکیب فصلی بوده و ارزشی نادرست دارد؟

(۱) عدد ۱۲، اول و عدد ۳۶ مربع کامل است. (۲) $(\mathbb{N} \not\subset \mathbb{R}) \wedge (2^{-2} = \frac{1}{4})$

(۳) $((0/2)^3 > (0/2)^2) \vee (\sqrt{3} - 1 \leq 0)$ (۴) عدد ۵۱۰ اول نیست یا واریانس داده‌های ۱, ۲, ۳, ۴, ۵ برابر ۲ است.

۸- طرف دوم هم‌ارزی $(\sim p \wedge q) \vee (q \Rightarrow p) \equiv ?$ برابر کدام است؟

- (۱) T (۲) F (۳) p (۴) q

۹- مطلب ذکر شده در کدام گزینه، درست نیست؟

(۱) $p \Rightarrow q$ فقط زمانی نادرست است که p درست و q نادرست باشد.

(۲) اگر q نادرست باشد، آن‌گاه $q \Rightarrow p$ درست است.

(۳) دو گزاره $p \Rightarrow q$ و $q \Rightarrow p$ نمی‌توانند به‌طور هم‌زمان دارای ارزش نادرست باشند.

(۴) $p \wedge q$ زمانی دارای ارزش درست است که p و q دارای ارزش‌های مختلف باشند.

۱۰- اگر $(p \wedge q) \Rightarrow r$ نادرست باشد، آن‌گاه چه تعداد از گزاره‌های $(p \Rightarrow r) \wedge q$ ، $(r \wedge p) \Rightarrow q$ و $r \vee (p \Rightarrow q)$ درست هستند؟

- (۱) صفر (۲) ۱ (۳) ۲ (۴) ۳

یک روز، یک درس: روزهای دوشنبه در سایت کانون www.kanoon.ir به درس ریاضی و آمار اختصاص دارد. شما می‌توانید خلاصه‌درس‌ها، نمونه سؤالات پیشنهادی و آزمونک مربوط به درس ریاضی و آمار را در این روز از قسمت تازه‌ها در سایت کانون و نیز صفحه مقطع خود دریافت کنید.

محل انجام محاسبات

علوم و فنون ادبی (۲)

وقت پیشنهادی: ۲۵ دقیقه

تاریخ ادبیات فارسی در قرن‌های

هفتم، هشتم و نهم

پایه‌های آوایی

صفحه ۱۲ تا ۲۵

۱۱- با توجه به اوضاع فرهنگی و ادبی قرن هفتم هجری، همه گزینیه‌ها، به جز گزینۀ ... درست است.

(۱) با حمله ویرانگر مغولان و بعد از آن هجوم وحشیانه تیمور و حکومت ظالمانه این دو، بنیان فرهنگ و اخلاق تباہ و ویران گردید و دستداران فرهنگ و اخلاق اغلب منزوی شدند و به تصوف پناه بردند.

(۲) وضعیت زبان و ادبیات فارسی در این دوره، مثل بسیاری از دانش‌های دیگر، با دوره‌های پیش از خود متفاوت شد و به نوعی دچار سستی و نابسامانی گردید.

(۳) برخی از عوامل سیاسی و اجتماعی مثل روی کار آمدن حکومت‌های غزنوی و سلجوقی و تغییر مرکز ادبی و سیاسی از خراسان به عراق عجم، زمینه‌های تغییر سبک را در متون زبان فارسی پدید آورد.

(۴) در اواخر دوره مغول، بساط حکومت آخرین خلیفه عباسی، المستعصم بالله، برچیده شد و با توجه به پایان یافتن خلافت، زبان رسمی و رایج فارسی از رواج افتاد و توجه به زبان ترکی مغولی، که زبان توده مردم بود، رونق بیشتری گرفت.

۱۲- هر دو عبارت کدام گزینیه، از دیدگاه تاریخ ادبیات قرن هفتم نادرست است؟

(الف) شعر این عصر نرم و دلنشین و برخوردار از معانی عمیق انسانی و آسمانی شد.

(ب) قالب غزل برای ظهور عاطفه، اخلاق و عرفان میدان فراخی پدید آورد.

(پ) نثر در این دوره به دو جریان ساده‌نویسی و پیچیده‌نویسی گرایش پیدا کرد.

(ت) قصیده که پیش از این در خدمت ستایش فرمانروایان بود، کم‌رنگ شد.

(ث) ساده‌نویسی، با محتوای عمدتاً تاریخ حاکمان وقت در آثاری همچون تاریخ و صاف و تاریخ جهانگشای جوینی دیده می‌شود.

(۱) الف - ث (۲) ت - ب (۳) پ - ث (۴) ث - ب

۱۳- در عبارت زیر از نظر تاریخ ادبیات چند اشتباه دیده می‌شود؟

«سلمان ساوجی از دیگر شاعران قرن هفتم است که در غزل توجه خاصی به سعدی و حافظ داشته و دارای قطعه‌هایی نیز در

سبک عراقی است. قصیده «جمشید و خورشید» او به شیوه داستان‌های نظامی سروده شده است.»

(۱) یک (۲) دو (۳) سه (۴) چهار

۱۴- کدام گزینیه درباره تاریخ ادبیات قرن هشتم درست است؟

(۱) زبان و فرهنگ فارسی عرصه وسیعی یافت، به طوری که از شبه قاره هند تا عراق عرب، بسیاری به این زبان سخن می‌گفتند.

(۲) زبان شعر جز در سروده‌های شاعران شاخص به سستی گرایید.

(۳) ابن یمین، شاعر این دوره، مردی دهقان‌پیشه بود که قدرت شاعری خود را در قطعات عرفانی آشکار کرده است.

(۴) «المُعجم فی معاییر اشعار العجم» اثر شمس قیس رازی از نخستین و مهم‌ترین آثار در علم عروض و قافیه در این دوره است.

۱۵- هر یک از عبارات زیر از ویژگی‌های کدام شاعر یا نویسنده است؟

(الف) دیوان شعرش حاوی مضامین عرفانی است و در تصوف و طریقت مقامی بلند داشته است.

(ب) وی کتابی به تشویق امیر علیشیرنوایی در شرح احوال بیش از صد تن از شاعران ایرانی نوشته است.

(ج) کتاب نفحات الانس را در بیان حقایق عرفانی و ذکر احوال عارفان نوشت.

(۱) دولت‌شاه سمرقندی - دولت‌شاه سمرقندی - عطار

(۲) دولت‌شاه سمرقندی - سلمان ساوجی - عطار

(۳) شاه نعمت‌الله ولی - دولت‌شاه سمرقندی - جامی

(۴) شاه نعمت‌الله ولی - سلمان ساوجی - جامی

۱۶- با توجه به آهنگ بیت و پایه‌های آوایی ارائه‌شده، کدام گزینه نمی‌تواند به ترتیب خانه‌های خالی را به درستی پر کند؟

«...کشد دستش نگیرم / و گر تیرم زَند مَنّت ...»

ن گِی رَم	کُ شَد دَس تَش	
.....	زَند مِین نَت	و گِر تِی رَم

(۱) اگر آن جان - نیابم (۲) چو خواهد او - پذیرم (۳) به تیغم گر - نمی‌خواهم (۴) گر او من را - نیازم

۱۷- تعداد پایه‌های آوایی کدام بیت‌ها با هم برابر است؟

- (الف) بشنو از نی چون شکایت می‌کند
 (ب) آفتاب از کوه سر بر می‌زند
 (ج) بزرگی کز نو نام نیکو نماند
 (د) مشقّت نیرزد جهان داشتن
 (ه) زلف او بر رخ چو جولان می‌کند
- از جدایی‌ها حکایت می‌کند
 ماهروی انگشت بر در می‌زند
 توان گفت با اهل دل کاو نماند
 گرفتن به شمشیر و بگذاشتن
 مُشک را در شهر ارزان می‌کند

(۱) الف - ب - ج (۲) الف - ب - ه (۳) ب - د - ه (۴) ب - ج - د

۱۸- در آخرین پایه آوایی (رکن) کدام مصراع «حذف همزه» وجود دارد؟

- (۱) همی آب شرمم به چهر آورَد
 (۲) به کشتن می‌کند گویی اشارت
 (۳) بگفت آسودگی بر من حرام است
 (۴) ز شیران جنگی برآرند شور

۱۹- تمام پایه‌های آوایی کدام بیت، سه هجایی است؟

- (۱) خداوند شمیم را روز گردان
 (۲) تا نگردي بی‌خبر از جسم و جان
 (۳) لب و دندان سنایی همه توحید تو گوید
 (۴) خَلد گر به پا خاری آسان برآید
- چو روزم بر جهان پیروز گردان
 کی خبر یابی ز جانان یک زمان
 مگر از آتش دوزخ بودش روی رهایی
 چه سازم به خاری که در دل نشیند

۲۰- کدام گزینه با بیت زیر از حافظ، قرابت مفهومی ندارد؟

«من که دارم در گدایی گنج سلطانی به دست / کی طمع در گردش گیتی دون پرور کنم؟»

- (۱) حافظ طمع مبر ز عنایت که عاقبت
 (۲) چو حافظ در قناعت کوش و از دنیایِ دون بگذر
 (۳) هر آن که کنج قناعت به گنج دنیا داد
 (۴) نرو به خانه ارباب بی‌مروت دهر
- آتش زند به خرمن غم، دود آه تو
 که یک جو منتِ دونان دو صد من زر نمی‌ارزد
 فروخت یوسف مصری به کمترین ثمنی
 که گنج عافیت در سرای خویشان است

ایلیا لوتف‌نیا
 توشه ای برای موفقیت

علوم و فنون ادبی (۲) - آشنا

۲۱- نام شهری که جای خالی متن زیر را پر می کند، در کدام گزینه آمده است؟

«در قرن هشتم شهر ... همچنان در حکم مرکز ادبی این عصر به شمار می رفت.»

- (۱) نکهت باغ گل و زهت نرنجستان
از نسیم بنوازند مشام ای شیراز
- (۲) صوفی بیا که خیمه از این خاک برکنیم
ما را چو هست خاطر محزون درین هرات
- (۳) زمین اصفهان کان نمک شد از شکر خندش
نگه دارد خدا از دیده شور این نمکدان را
- (۴) شهر تبریز، فصل تابستان
گشته همچون بهار جان پرور

۲۲- حمدالله مستوفی چه کتابی را نوشت و کدام گزینه از موضوعات کتاب نیست؟

- (۱) تاریخ گزیده - تاریخ پیامبران
(۲) تاریخ و صفای - خلفای بنی عباس
- (۳) تاریخ و صفای - خلفای چهارگانه
(۴) تاریخ گزیده - تاریخ ایران از سال ۷۳۰ هـ. ق

۲۳- توضیح مقابل کدام اثر کاملاً درست است؟

- (۱) مرصاد العباد من المبدأ الی المعاد: اثری از نجم دایه در بیان سلوک دین و تربیت نفس انسانی با نثری گاه ساده و گاه دارای سجع و موازنه.
- (۲) جامع التواریخ: اثری از عطاملک جوینی در شرح ظهور چنگیز، احوال و فتوحات او، تاریخ خوارزمشاهیان، فتح قلعه های اسماعیلیه و حکومت جانشینان حسن صباح با نثری مصنوع و دشوار.
- (۳) عشاق نامه: اثری از فخرالدین عراقی در سیر و سلوک عارفانه در قالب نظم و نثر.
- (۴) تحفة الاحرار: از مثنوی های نظامی است که به پیروی از جامی سروده شده است.

۲۴- کمال الدین اسماعیل مداح کدام پادشاه بود و شاهنامه فردوسی در زمان کدام فرمانروا به خطی خوش نگاشته و با تصاویری

زیبا آراسته شد؟

- (۱) جلال الدین خوارزمشاه - بایسنقرمیرزا
(۲) غازان خان - شاهرخ
- (۳) غازان خان - بایسنقرمیرزا
(۴) جلال الدین خوارزمشاه - شاهرخ

۲۵- در کدام گزینه نام اثری به نظم از قرن هفتم آمده است؟

- (۱) گلعداری ز گلستان جهان ما را بس
زین چمن سایه آن سرو روان ما را بس
- (۲) دل گر لمعات اختر خود داند
کی مهر بتان را هنر خود داند
- (۳) شکر ایزد که ز تاراج خزان رخنه نیافت
بوستان سمن و سرو و گل و شمشاد
- (۴) سرو چون نازد به خوبی در بهارستان ناز
از سهی سرو نگارستان من یاد آورید

۲۶- پایه‌های آوایی مصراع اول بیت زیر در کدام گزینه درست تفکیک شده است؟

«با صبا اُفتان و خیزان می‌روم تا کوی دوست / وز رفیقان ره استمداد همت می‌کنم»

(۱)

با صَ با	اُف تا نُ	خِی زان می	رَ وُم تا	کوی ی دوست
----------	-----------	------------	-----------	------------

(۲)

با صَ با	اُف تا	نُ خِی زان	می رَ وُم تا	کوی ی دوست
----------	--------	------------	--------------	------------

(۳)

با صَ با	اُف تا	نُ خِی	زان می رَ	وُم تا کوی ی دوست
----------	--------	--------	-----------	-------------------

(۴)

با صَ با	اُف تا	نُ خِی زان	می رَ وُم تا	کوی ی دوست
----------	--------	------------	--------------	------------

۲۷- تعداد پایه‌های آوایی کدام گزینه متفاوت است؟

- (۱) ندانم هیچ‌کس در عهد حُسنَت
- (۲) حیب آن‌جا که دستی برفشانَد
- (۳) نشاید گفتن آن‌کس را دلی هست
- (۴) همی تا کند پیشه، عادت همی‌کن
- که با دل باشد آلا بی‌بصارت
- محب ار سر نیفشاند بخیل است
- که نهد بر چنین صورت دل از دست
- جهان مر جفا را، تو مر صبری را

۲۸- با توجه به وزن بیت زیر و پایه‌های آوایی آن، کدام گزینه برای جای خالی مناسب نیست؟

«بهار عمر خواه ای دل وگر نه این چمن هر سال / چو نسرین صد گل آرد بار و چون بلبل ...»

- (۱) صبا دیدم
- (۲) ناله دارد
- (۳) شتابان رو
- (۴) نمی‌ارزد

۲۹- دومین پایه آوایی مصراع اول کدام بیت در برابر آن درست نوشته شده است؟

- (۱) از نبردی تا برابر بازمی‌گردم! دریغ
- (۲) موج را آیا توان فرمود: ایست؟
- (۳) ما گنه‌کاریم، آری، جرم ما هم عاشقی است
- (۴) چه اشکال دارد پس از هر نماز
- دیر فهمیدم که دنیا عرصه جنگ من است (بَ را بَر با)
- باد را فرمود: باید ایستاد؟ (یا تَ وان)
- آری اما آن‌که آدم هست و عاشق نیست، کیست؟ (ری م آری)
- دو رکعت گلی را عبادت کنیم؟ (دا رَد پَ)

۳۰- تعداد پایه‌های آوایی کدام گزینه کمتر است؟

- (۱) چه کند بنده که بر جور تحمل نکند
- (۲) یار با ما بی‌وفایی می‌کند
- (۳) که او را به جز سادگی مایه نیست
- (۴) بسا هوشمندا که در کوی عشق
- دل اگر تنگ شود، مهر تبذل نکند
- بی‌گناه از من جدایی می‌کند
- نکو روی، محتاج پیرایه نیست
- چو من عاقل آیند و شیدا روند

وقت پیشنهادی: ۲۰ دقیقه

جامعه‌شناسی (۲)

فرهنگ جهانی

جهان فرهنگی، فرهنگ جهانی

صفحه ۱ تا ۱۸

۳۱- به ترتیب، هریک از موارد زیر به کدام یک از بخش‌های جهان هستی تعلق دارد؟

«فرشتگان، ساختمان بانک، تخیل کردن، رودخانه، رعایت قوانین»

- (۱) جهان فوق طبیعت - جهان انسانی - جهان فردی - جهان طبیعت - جهان فردی
- (۲) جهان طبیعت - جهان فرهنگی - جهان انسانی - جهان طبیعت - جهان فرهنگی
- (۳) جهان فوق طبیعت - جهان انسانی - جهان ذهنی - جهان طبیعت - جهان اجتماعی
- (۴) جهان اجتماعی - جهان انسانی - جهان فرهنگی - جهان فوق طبیعت - جهان فرهنگی

۳۲- کدام گزینه جاهای خالی زیر را به درستی کامل می‌کند؟

- مجموعه پدیده‌های متفاوت را ... می‌نامند.

- میان جهان تکوینی و جهان انسانی ... برقرار است.

- هرچه با اندیشه و عمل انسان‌ها پدید می‌آید، متعلق به ... می‌باشد.

- (۱) جهان - تعادل - جهان فرهنگی
- (۲) فرهنگ - پیوند - جهان انسانی
- (۳) فرهنگ - رابطه - جهان انسانی
- (۴) جهان - تعامل - جهان انسانی

جهان فرهنگی



جهان ذهنی

۳۳- کدام گزینه به مفهوم نمودار مقابل اشاره دارد؟

- (۱) هر فرهنگی نوع خاصی از عقاید و خصوصیات ذهنی را در افراد به وجود می‌آورد و به همان نوع از عقاید و خصوصیات، اجازه بروز می‌دهد.
- (۲) وقتی فردی درباره موضوعی خاص می‌اندیشد، از جهان فردی به جهان اجتماعی وارد می‌شود.
- (۳) بخش اجتماعی جهان انسانی، هویت فرهنگی دارد و شامل زندگی اجتماعی انسان‌ها می‌شود.
- (۴) فرهنگ، شیوه زندگی اجتماعی انسان‌ها را شکل می‌دهد و خود نیز محصول آگاهی و عمل مشترک انسان‌هاست.

۳۴- در عبارت زیر چند جمله نادرست است؟

«براساس دیدگاه اول، جهان تکوینی به جهان طبیعت محدود می‌شود و جهان طبیعت مهم‌تر از جهان ذهنی و جهان فرهنگی

است. ذهن افراد و فرهنگ نیز هویتی طبیعی و مادی دارند و علوم مربوط به آنها نظیر علوم انسانی است. در دیدگاه دوم، جهان

تکوینی ماده خامی است که فرهنگ‌ها و جوامع مختلف در آن دخل و تصرف می‌کنند و جهان طبیعت مهم‌تر از سایر جهان‌ها

است. قرآن کریم برای جامعه و فرهنگ جایگاه ویژه‌ای قائل است و از زندگی و مرگ امت‌ها سخن می‌گوید. در عین حال، جهان

اجتماعی اشخاص را نادیده نمی‌گیرد و بر مسئولیت فرد در قبال فرهنگ و جامعه تأکید می‌کند.»

- (۱) دو (۲) سه (۳) چهار (۴) یک

۳۵- کدام یک از عبارات زیر مصداقی برای «وارد شدن به جهان فرهنگی» می‌باشد؟

- (۱) یادداشت کردن خاطرات روزانه در صفحه وبلاگ
- (۲) مطالعه کردن کتاب و خلاصه‌برداری کردن از آن
- (۳) تمرین کردن نمایشنامه در منزل و فیلم‌برداری از خود
- (۴) شروع کردن یادگیری یک مهارت ورزشی جدید

۳۶- از منظر قرآن، جهان تکوینی در چه حالتی درهای برکات خود را بر روی انسان و جامعه می‌گشاید؟

(۱) اگر انسان اخلاق الهی داشته باشد و جامعه دارای فرهنگ توحیدی باشد.

(۲) اگر جامعه دارای اخلاق الهی و انسان دارای فرهنگ انسانی باشد.

(۳) اگر آدمیان رفتاری صحیح با طبیعت داشته باشند.

(۴) اگر جهان تکوینی با جهان ذهنی و فرهنگی تعامل داشته باشد و جامعه حامی طبیعت باشد.

۳۷- به ترتیب، کدام یک از گزینه‌های زیر درباره فرهنگ سلطه درست و درباره گونه دوم فرهنگ جهانی، نادرست است؟

(۱) فرهنگ سرمایه‌داری با عبور از مرزهای جغرافیایی، جهان را به مناطق دوگانه تقسیم می‌کند و ناظر به نوع بشر است. - تسلط گروهی خاص را بر دیگران به دنبال می‌آورد و دیگر جوامع را به ضعف می‌کشد.

(۲) ارزش‌ها و عقاید صهیونیسم، ناظر به قوم و منطقه خاصی است اما نگاهی سلطه‌جویانه نسبت به دیگر اقوام ندارد. - عقاید، ارزش‌ها، هنجارها و رفتارهای آن، مطابق نیازهای فطری است.

(۳) فرهنگ سرمایه‌داری کانون ثروت و قدرت را مورد توجه قرار می‌دهد و کشورهای دیگر را پیرامون آن به خدمت می‌گیرد. - سعادت همه انسان‌ها را دنبال می‌کند و از عقاید و آرمان‌های مشترک انسانی سخن می‌گوید.

(۴) صهیونیسم، آرمان‌ها و ارزش‌های خود را متوجه نژاد خاصی می‌داند و با رویکرد دنیوی خود، دیگران را در خدمت به آن نژاد به کار می‌گیرد. - عقاید، ارزش‌ها و آرمان‌های آن موافق با فطرت آدمیان است و تسلط جامعه‌ای خاص را بر دیگران به دنبال می‌آورد.

۳۸- در رابطه با فرهنگ‌های جهانی، کدام موارد نادرست می‌باشند؟

(الف) فرهنگی که عقاید و ارزش‌های آن مربوط به قوم و منطقه خاصی است، با نگاه سلطه‌جویانه می‌تواند از محدوده قومی و منطقه‌ای خود فراتر رود و جهانی شود.

(ب) فارابی، جامعه‌ای را که عقاید و ارزش‌های آن حق باشد اما هنجارها و رفتارهای آن موافق و همسو با حق نباشد، «مدینه فاسده» می‌نامد.

(ج) فرهنگی که از مرزهای جغرافیایی و قومی عبور می‌کند و در جهان گسترش می‌یابد، «فرهنگ سلطه» نام دارد.

(د) فرهنگ‌ها از دو جنبه گستره جغرافیایی و تداوم تاریخی، با یکدیگر تفاوت دارند.

(۱) ب و ج (۲) الف و د (۳) الف و ب (۴) ج

۳۹- به ترتیب هر یک از عبارات زیر، مربوط به کدام یک از ویژگی‌های فرهنگ جهانی مطلوب است؟

- آدمی علاوه بر نیازهای مادی، نیازهای ابدی نیز دارد. فرهنگی که صرفاً به نیازهای مادی انسان توجه کند، بشر را دچار بحران روحی و روانی می‌گرداند.

- وجود معیار و میزانی برای سنجش عقاید و ارزش‌های مختلف

- بر اساس ارزش‌های جهان‌شمول دیگر، به این ویژگی پاسخ داده می‌شود.

(۱) عقلانیت - عدالت - تعهد و مسولیت (۲) معنویت - حقیقت - آزادی

(۳) عقلانیت - حقیقت - معنویت (۴) معنویت - عدالت - عدالت

۴۰- به ترتیب صحیح یا غلط بودن هر یک از عبارات زیر را مشخص کنید.

- برخی فرهنگ‌ها جبرگرا و غیرمسئول‌اند، اما نقش انسان‌ها در تعیین سرنوشتشان را انکار نمی‌کنند.

- فرهنگ‌های جبرگرا، زمینه نفوذ سلطه‌گران را بر آدمیان فراهم می‌کنند.

- فرهنگ جهانی باید روحیه تعهد و مسؤلیت را در انسان‌ها ایجاد کند تا زمینه گسترش و تحقق عقاید و ارزش‌های جهان‌شمول را فراهم آورد.

- در فرهنگ‌های جبرگرا، انسان می‌تواند آینده‌اش را براساس اراده و عمل خود بسازد و محکوم به سرنوشتی محتوم است.

(۱) غ - ص - ص - غ (۲) غ - غ - ص - ص (۳) ص - غ - غ - ص (۴) ص - ص - غ - غ

جامعه‌شناسی (۲) - آشنا

۴۱- کدام گزینه به ترتیب، پاسخ صحیح عبارتهای زیر است؟

الف) هویت جهان اجتماعی بیشتر متأثر از کدام لایه‌های فرهنگ می‌باشد؟

ب) روح یا شالوده فرهنگ هر جهان اجتماعی کدام است؟

۱) لایه‌های سطحی فرهنگ - لایه‌های عمیق فرهنگ

۲) هنجارها و نمادها - لایه‌های سطحی فرهنگ

۳) لایه‌های عمیق فرهنگ - هنجارها و نمادها

۴) عقاید و ارزش‌ها - لایه‌های عمیق فرهنگ

۴۲- به ترتیب کدام گزینه نمودار زیر را کامل می‌کند؟

۱) جهان طبیعت - جهان اجتماعی - جهان فرهنگی - جهان طبیعت - جهان فوق طبیعت

۲) جهان فوق طبیعت - جهان انسانی - جهان اجتماعی - جهان فرهنگی - جهان طبیعت

۳) جهان تکوینی - جهان انسانی - جهان فرهنگی - جهان طبیعت - جهان فوق طبیعت

۴) جهان تکوینی - جهان اجتماعی - جهان انسانی - جهان فرهنگی - جهان فوق طبیعت

۴۳- به ترتیب کدام یک از گزینه‌های زیر عبارت زیر را تکمیل می‌کند؟

«ابعاد ذهنی، ... و روانی انسان‌ها به بخش فردی جهان انسانی تعلق دارد و هر کدام از ما ... ، ... و ... داریم که افراد دیگر با ما

در آن شریک نیستند.»

۱) اخلاقی - دانسته‌ها - تجربیات - خلیقات ویژه‌ای

۲) فرهنگی - دانش‌ها - اطلاعات - خلیقات محدودی

۳) اجتماعی - دانسته‌ها - اطلاعات عمومی - خلیقات ویژه‌ای

۴) عاطفی - دانش‌های عمومی - اطلاعات - خلیقات محدودی

۴۴- عبارت «پنهان ساختن ظرفیت‌های الهی و آسمانی زمین و آسمان در نتیجه هویت مشترکانه افراد و فرهنگ جامعه» به کدام

گزینه اشاره دارد؟

۱) جهان ذهنی مهم‌تر از جهان تکوینی و جهان فرهنگی است.

۲) جهان تکوینی مهم‌تر از جهان ذهنی و جهان فرهنگی است.

۳) جهان فرهنگی مهم‌تر از جهان ذهنی و جهان طبیعی و تکوینی است.

۴) جهان فرهنگی و جهان تکوینی و جهان ذهنی، مهم و در تعامل با یکدیگرند.

۴۵- به ترتیب هر یک از عبارتهای زیر جزء کدام دسته از سؤالات بنیادین می‌باشد؟

الف) آیا شهود راه مناسب‌تری برای شناخت از ماهیت هستی است یا روش فلسفی؟

ب) آیا انسان در جبریت ناخودآگاه است یا صاحب یک اراده آزاد است که می‌تواند به خودشکوفایی برسد؟

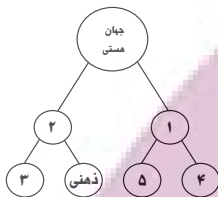
ج) افرادی که در زمره آنتیسم یا خداناباوری هستند، اعتقاد دارند که زندگی به همین جهان محدود می‌شود.

۱) انسان‌شناسانه - هستی‌شناسانه - معرفت‌شناسانه

۲) هستی‌شناسانه - انسان‌شناسانه - معرفت‌شناسانه

۳) معرفت‌شناسانه - هستی‌شناسانه - انسان‌شناسانه

۴) معرفت‌شناسانه - انسان‌شناسانه - هستی‌شناسانه



۴۶- به ترتیب آیه ۲۷۶ سوره بقره، از تعامل فعال کدام جهان‌ها سخن گفته است و قرآن کریم از چه چیزی به عنوان «اغالل و

سلاسل» یاد می‌کند؟

- (۱) جهان ذهنی با جهان فرهنگی - داشتن هویت مشترکانه افراد و فرهنگ جامعه
- (۲) جهان تکوینی با جهان فرهنگی - باورها و اعمالی که نمی‌گذارند انسان حقیقت خویش و جهان هستی را درک کند.
- (۳) جهان ذهنی با جهان فرهنگی - باورها و اعمالی که نمی‌گذارند انسان حقیقت خویش و جهان هستی را درک کند.
- (۴) جهان تکوینی با جهان فرهنگی - داشتن هویت مشترکانه افراد و فرهنگ جامعه

۴۷- به جای ماندن اثر ماندگاری مانند «فرش پازریک» از دوره هخامنشی بیانگر کدام مطلب است و در چه صورتی فرهنگ‌هایی

که عقاید و ارزش‌های آن‌ها ناظر به قوم و منطقه خاصی است می‌توانند جهانی شوند؟

- (۱) تداوم تاریخی عناصر فرهنگی در گذر زمان - غنی و قوی بودن فرهنگ
 - (۲) گسترش جغرافیایی عناصر فرهنگی - غنی و قوی بودن فرهنگ
 - (۳) تداوم عنصر فرهنگی در گذر زمان - داشتن نگاه سلطه‌جویانه نسبت به سایر اقوام و مناطق
 - (۴) گسترش جغرافیایی عناصر فرهنگی - داشتن نگاه سلطه‌جویانه و جلوه کردن همه عناصر فرهنگی
- ۴۸- هریک از عبارات زیر به ترتیب به کدام یک از ویژگی‌های فرهنگ مطلوب جهانی اشاره می‌کند؟

الف) دفاع از جهان‌بینی و ارزش‌های بنیادین

ب) مانع پایمال شدن حقوق انسان‌ها و قطبی شدن جهان

- (۱) معنویت - آزادی (۲) حقیقت - معنویت (۳) عقلانیت - عدالت (۴) عقلانیت - حقیقت

۴۹- با بهره‌گیری از کدام ویژگی‌های فرهنگ جهانی مطلوب می‌توان به ترتیب به پرسش‌های: «چگونه می‌توان از تفرقه بین جوامع

و تباہ ساختن منابع و امکانات بشر، پیشگیری کرد؟» و «در چه صورتی می‌توان انسان را از قید و بندهایی که مانع رسیدن او به

کمال و حقوق انسانی‌اش می‌شود، رها کرد؟»، پاسخ داد؟

- (۱) معنویت - حریت و آزادی (۲) عدالت و قسط - حریت و آزادی
- (۳) معنویت - تعهد و مسئولیت (۴) عدالت و قسط - تعهد و مسئولیت

۵۰- فرهنگ جهانی ابتدا باید به ... پاسخ دهد و این از طریق ... ایجاد می‌شود تا بتواند از ... خود دفاع کند.

- (۱) پرسش‌ها و نیازهای متغیر - عدالت و قسط - عقاید جهان‌شمول
- (۲) پرسش‌های بنیادین - عقلانیت - هویت
- (۳) پرسش‌ها و نیازهای متغیر - عقلانیت - آزادی
- (۴) پرسش‌های بنیادین - عدالت و قسط - عقاید جهان‌شمول

یک روز، یک درس: روزهای سه‌شنبه در سایت www.kanoon.ir در درس جامعه‌شناسی اختصاص دارد. شما می‌توانید خلاصه‌درس‌ها، نمونه

سوالات پیشنهادی و آزمونک مربوط به درس جامعه‌شناسی را در این روز از قسمت تازه‌ها در سایت کانون و نیز صفحه مقطع خود دریافت کنید.

توسعه‌ای برای موفقیت

وقت پیشنهادی: ۱۰ دقیقه

روان شناسی

روان شناسی: تعریف و روش مورد مطالعه
صفحه ۸ تا ۳۳

۵۱- منظور از علم، در روان شناسی، علم ... است که از ابزارهای ... استفاده می کند.

- (۱) صوری - قابل مشاهده
(۲) صوری - قابل اندازه گیری
(۳) تجربی - قابل مشاهده
(۴) تجربی - قابل اندازه گیری

۵۲- کدام عبارت یک فرضیه است؟

- (۱) آموزش راهبرد فراشناختی مطمئناً برای توانایی یادگیری دانش آموزان مؤثر است.
(۲) افراد آموزش دیده قطعاً بهتر از افرادی که آموزش ندیده اند، دستورات ایمنی را رعایت می کنند.
(۳) توجه والدین به تحصیل فرزندانشان، با افزایش پیشرفت تحصیلی آنان رابطه مستقیم دارد.
(۴) میان سبک دلبستگی مادران و بلوغ اجتماعی فرزندان، چه رابطه ای وجود دارد؟

۵۳- یکی از اهداف فعالیت علمی، پیش بینی پدیده مورد نظر است. این هدف در صورتی امکان پذیر خواهد بود که:

- (۱) تجربه پذیری روش علمی در حداکثر آن مورد توجه قرار گرفته باشد.
(۲) چپستی و چرایی پدیده مورد نظر به طور دقیق بیان شده باشد.
(۳) رابطه علت و معلولی، مورد تأیید پژوهشگر قرار گرفته باشد.
(۴) توصیف تجربی از پدیده مورد مطالعه انجام شده باشد.

۵۴- کدام یک از گزینه های زیر، در حیطه علم تجربی مورد بررسی قرار می گیرد؟

- (۱) مراجعه به اطلاعات سرشماری برای دریافت جمعیت کودکان یک شهر خاص
(۲) سعید برای پی بردن به نظم جهان، به معلمش رجوع می کند.
(۳) طبق نظریه فروید وجود و ساحت انسان به دو بخش اساسی هشیار و ناهشیار تقسیم می شود.
(۴) بررسی وجود جهان های موازی، فعلاً با توجه به دانسته های محدود دانشمندان از علم فیزیک، میسر نیست.

۵۵- به ترتیب، درستی یا نادرستی هر یک از عبارات زیر در کدام گزینه آمده است؟

- روش های منحصر به فرد در حل مسائل در صورتی که توسط دیگران قابل تکرار نباشند، در مجموعه روش علمی قرار نمی گیرند.
- مطالعه فرایندهای ذهنی، محدود به انسان نیست.
- تعریف عملیاتی باید به گونه ای باشد که همه افراد با مطالعه آن به برداشت یکسان و یا تقریباً یکسانی برسند.
- شناخت را به واسطه آثار و کارکردهای قابل مشاهده آنها، مورد مطالعه تجربی قرار می دهیم.

(۱) درست - نادرست - درست - درست
(۲) نادرست - درست - درست - درست

(۳) درست - نادرست - درست - نادرست
(۴) نادرست - درست - نادرست - نادرست

۵۶- کدام گزینه صحیح است؟

- (۱) توجه اشاره دارد به پردازش بیشتر اطلاعات در مغز.
 (۲) پردازش به معنای پیچیده تر کردن اطلاعات محیطی است.
 (۳) پیش شرط شناخت عالی، تفکر است.
 (۴) میان سطوح پردازش و سطوح شناخت، ارتباط وجود دارد.

۵۷- کدام شناخت شکل گرفته، پایدارتر و کارآمدتر است؟

- (۱) انتخاب اسباب بازی به خاطر ابعاد بزرگ آن
 (۲) ترجیح دادن شکلات و شیرینی به غذای سالم به خاطر مزه شیرین آن
 (۳) انتخاب کیف بی کیفیت به خاطر طرح کارتونی
 (۴) انتخاب دفتر با طرح ساده به خاطر کیفیت بهتر و هزینه کم تر آن

۵۸- کدام یک از عبارات زیر نادرست است؟

- (۱) اجتناب از پیش داوری، پروتکل استفاده از مشاهده از راه های جمع آوری اطلاعات در روان شناسی است.
 (۲) سازمان دهی جمع آوری اطلاعات قبلی، بر اساس اطلاعات بعدی، از ویژگی های مصاحبه است.
 (۳) سازنده آزمون های روان شناختی باید توجه کند که آزمونى که مى سازد، دقیقاً جنبه یا جوانب مولفه هدف را اندازه گیری کند.
 (۴) استفاده از مصاحبه برای جمع آوری اطلاعات، در صورت به نتیجه نرسیدن مشاهده و پرسش نامه میسر است.

۵۹- به ترتیب، پاسخ صحیح سؤالات زیر کدام است؟

الف) کدام روش در محیط های طبیعی و آزمایشگاهی مورد استفاده است؟

ب) کدام روش به صورت های مختلف نمره گذاری می شود؟

- (۱) مشاهده - پرسش نامه
 (۲) مصاحبه - پرسش نامه
 (۳) مشاهده - آزمون ها
 (۴) مصاحبه - آزمون ها

۶۰- به ترتیب، برای هر یک از عبارات زیر، کدام روش جمع آوری اطلاعات مناسب تر است؟

«بررسی مراحل تحول انسان در طی عمر - بررسی واکنش های انسان حین تجربه هیجان خشم - بررسی نظرات افراد جامعه

برای انتخاب شیوه درست آموزشی»

- (۱) مشاهده - مصاحبه - پرسش نامه
 (۲) مشاهده - مشاهده - پرسش نامه
 (۳) مصاحبه - مصاحبه - مشاهده
 (۴) پرسش نامه - مشاهده - مصاحبه

یک روز، یک درس: روزهای سه شنبه در سایت www.kanoon.ir به درس روان شناسی اختصاص دارد. شما می توانید خلاصه درس ها، نمونه

سؤالات پیشنهادی و آزمونک مربوط به درس روان شناسی را در این روز از قسمت تازه ها در سایت کانون و نیز صفحه مقطع خود دریافت کنید.

توسعه ای برای موفقیت

وقت پیشنهادی: ۱۵ دقیقه

عربی، زبان قرآن (۲)

مواعظ قیمه

درس ۱ تا پایان «حوار»

صفحه ۱ تا ۱۰

■ عَيْنِ الْأَصْحَحِ وَالْأَدَقِّ فِي الْجَوَابِ لِلتَّرْجُمَةِ مِنْ أَوْ إِلَى الْعَرَبِيَّةِ لِلعِبَارَاتِ التَّالِيَةِ: (٦١ - ٦٥)

٦١- «قَرَّرْتُ مَعَ أَخِي الصَّغِيرِ أَنْ نَذْهَبُ إِلَى مَتَجَرِّ زَمِيلِي لِشِرَاءِ السَّرْوَالِ وَالْقَمِيصِ الرَّجَالِيِّ!»:

(۱) با برادر کوچکم قرار گذاشتم که به مغازه همکارم برای خریدن شلوار و پیراهن مردانه برویم!

(۲) با برادر کوچکترم قرار گذاشتیم که برای خرید شلوار و پیراهن مردانه به مغازه دوستم برویم!

(۳) من و برادر کوچکم قرار گذاشتیم که به مغازه همکارم برای خریدن شلوارها و پیراهن‌های مردانه برویم!

(۴) قرار گذاشتم که برادر کوچکم را برای خریدن شلوار و پیراهن مردانه به مغازه همکارم ببرم!

٦٢- «طَلَبْتُ أُمَّنَا مِنْ أَوْلَادِهَا أَنْ يَهْتَمُّوا بِالِاِقْتِصَادِ فِي اسْتِهْلَاكِ الْمَاءِ وَالْكَهْرِبَاءِ!»:

(۱) مادرمان از فرزندانش خواست که به میانه‌روی در مصرف آب و برق توجه کنند!

(۲) مادر ما از فرزندانش درخواست کرد که صرفه‌جویی در مصرف آب و برق را جدی بگیرند!

(۳) مادرمان از بچه‌هایش خواست که در مصرف آب و برق توجه داشته باشند و صرفه‌جویی کنند!

(۴) مادر ما از فرزندان درخواست کرد که به مصرف آب و برق و صرفه‌جویی توجه داشته باشند!

٦٣- «عَلَيْكَ أَنْ تَتَوَاضَعَ أَمَامَ أَقْرَبَائِكَ لِتَعْمَرَ الْحِكْمَةَ فِي قَلْبِكَ!»:

(۱) برای ماندگاری حکمت در قلبت ضروری است که در مواجهه با خویشاوندان فروتن باشی!

(۲) باید در برابر نزدیکانت فروتنی کنی تا حکمت در قلبت ماندگار شود!

(۳) تواضع در مقابل نزدیکان بر تو لازم است تا حکمت در قلبت عمر کند!

(۴) در مقابل خویشاوندانت متواضع باش تا حکمتی در قلبت بماند!

٦٤- عَيْنِ الْخَطَأِ:

(۱) أكبر العيب أن تعيب ما فيك مثله: بزرگ‌ترین عیب آن است که آن‌چه را [از کسی] عیب‌گیری که مانند آن در خودت هست.

(۲) شرُّ النَّاسِ مَنْ لَا يَعْتَقِدُ الْأَمَانَةَ وَلَا يَجْتَنِبُ الْخِيَانَةَ: بدترین مردم کسی است که پایبند به امانت نباشد و از خیانت دوری نکند.

(۳) كان ثمانية مُسَافِرِينَ يَنْتَظِرُونَ فِي مَوْقِفِ الْحَافِلَةِ فِي السَّاعَةِ التَّاسِعَةِ: هفت مسافر در ساعت هشت در ایستگاه اتوبوس منتظر هستند.

(۴) تُطْبَخُ فِي هَذَا الْمَطْبَخِ النَّظِيفِ أَطْعَمَةٌ لَذِيذَةٌ لِلضُّيُوفِ: در این آشپزخانه تمیز، غذاهای خوشمزه‌ای برای میهمانان پخته می‌شود.

۶۵- «شلوارهای آن مغازه گران هستند و نمی‌توانی آن‌ها را بخری!»:

(۱) ذَلِكَ مَتَجِرٌ سَرَاوِيلُهُ غَالِيَةٌ فَلَا تَقْدِرُ أَنْ تَشْتَرِي!

(۲) أَنْتَ لَا تَسْتَطِيعُ أَنْ تَشْتَرِيَ السَّرَاوِيلَ فِي ذَلِكَ الْمَتَجِرِ لِأَنَّهَا غَالِيَةٌ!

(۳) السَّرَاوِيلُ فِي ذَلِكَ الْمَتَجِرِ أَعْلَىٰ وَأَنْتَ لَا تَسْتَطِيعُ عَلَيَّ شِرَائِهَا!

(۴) سَرَاوِيلُ ذَلِكَ الْمَتَجِرِ غَالِيَةٌ فَلَا تَقْدِرُ أَنْ تَشْتَرِيهَا!

۶۶- عَيْنِ الْخَطَأِ فِي الْمُرَادِفِ أَوْ الْمُتَضَادِّ:

(۱) فَخُورٌ ≠ مُتَوَاضِعٌ (۲) نَاهٍ ≠ أَمِيرٌ (۳) مُخْتَالٌ = مُعْجَبٌ بِنَفْسِهِ (۴) آخِرَةٌ = أَبْقَى

۶۷- مَا هُوَ الْمُنَاسِبُ لِلْفَرَغَيْنِ فِي الْحِوَارِ التَّالِي؟

«- كم هذا الفُستان؟ - أَظُنُّ أَنَّهُ ... جَدًّا.»

(۱) أَرْخَصُ - سِتُّونَ الفِ تومَانِ (۲) سِعْرٌ - رَخِيصٌ

(۳) سِعْرٌ - أَصْفَرٌ (۴) أَرْخَصُ - غَالِيَةٌ

۶۸- عَيْنِ الْخَطَأِ فِي ضَبْطِ حَرَكَاتِ الْحُرُوفِ:

(۱) سَيِّدَتِي، يَخْتَلِفُ السَّعْرُ حَسَبَ التَّوَعِيَّاتِ. (۲) رَجَاءٌ، أُعْطِنِي سَرَاوِيلًا بِسَعْرِ مِئْتَيْنِ وَ ثَلَاثِينَ أَلْفَ تومَانِ.

(۳) يُقَدِّمُ لِقَمَانٍ لِابْنِهِ مَوَاعِظَ قِيَمَةً لِيَهْتَدِيَ بِهَا كُلُّ الشَّبَابِ. (۴) لَا نُحِبُّ كُلَّ مُعْجَبٍ بِنَفْسِهِ وَ الْمُتَكَبِّرِينَ.

۶۹- عَيْنِ مَا يَخْتَلِفُ فِيهِ اسْمُ التَّفْضِيلِ مَعَ الْبَقِيَّةِ مِنْ حَيْثُ الْمَعْنَى:

(۱) أَحَبُّ رُؤْيَا أَوْلَادِي فِي أَحْسَنِ حَالٍ. (۲) شَرُّ النَّاسِ ذَوَالْوَجْهَيْنِ.

(۳) رَبَّنَا أَنْتَ خَيْرُ الرَّاحِمِينَ. (۴) مَنْ غَلَبَتْ شَهْوَتُهُ عَقْلَهُ فَهُوَ شَرٌّ مِنَ الْبَهَائِمِ.

۷۰- عَيْنِ الْخَطَأِ فِي اسْتِعْمَالِ اسْمِ التَّفْضِيلِ:

(۱) آسِيَا أَكْبَرُ قَارَاتِ الْعَالَمِ. (۲) آسِيَا أَكْبَرُ قَارَةٍ فِي الْعَالَمِ.

(۳) زَيْنَبُ كِبْرَى مِنْ فَاطِمَةَ. (۴) فَاطِمَةُ الْكُبْرَى أَكْبَرُ مِنْ زَيْنَبِ الصَّغْرَى.

وقت پیشنهادی: ۱۰ دقیقه

تاریخ (۲)

تاریخ‌شناسی

 منبع پژوهش در تاریخ اسلام و ایران دوران اسلامی
 روش پژوهش در تاریخ
 صفحه ۲ تا ۱۸

۷۱- درستی و نادرستی عبارات زیر را مشخص کنید؟

- مورخان، برای آگاهی از چگونگی وقوع رویدادهای گذشته حتماً به محل وقوع رویدادها رجوع می‌کنند.
- بناهای تاریخی کمک زیادی به شناخت فرهنگ، آداب و رسوم و سنت‌های مختلف اجتماعی در دوره‌های مختلف می‌کنند.
- مهم‌ترین منابع پژوهش در گذشته، کتاب‌های تاریخی هستند.
- ابزارها و وسایل دست ساخته انسان از منابع تاریخی است که به طور خاص در قلمرو دانش‌هایی چون باستان‌شناسی، معماری و هنر قرار می‌گیرد.

(۲) نادرست - نادرست - نادرست - درست - درست

(۱) نادرست - درست - نادرست - درست

(۴) نادرست - درست - نادرست - نادرست

(۳) درست - نادرست - درست - نادرست

۷۲- به ترتیب، پاسخ درست پرسش‌های زیر در کدام گزینه آمده است؟

- (الف) وسایل حمل و نقل به عنوان منبعی موثق برای مورخان در کدام گزینه به مطالعه تاریخ کمک می‌کند؟
 (ب) انواع مختلف ادبیات عامیانه جزء کدام یک از منابع تاریخی محسوب می‌شود؟
 (ج) کدام تاریخ‌نگاری منبع مفیدی برای مطالعه و شناخت اوضاع اجتماعی، فرهنگی و نیز جغرافیایی شهرها و مناطق ایران است؟

(۲) الف) فرهنگ و عقاید پیشینیان (ب) نوشتاری (ج) محلی

(۱) الف) وضع اقتصادی پیشینیان (ب) نوشتاری (ج) محلی

(۴) الف) وضع اقتصادی پیشینیان (ب) غیرنوشتاری (ج) عمومی

(۳) الف) فرهنگ و عقاید پیشینیان (ب) غیرنوشتاری (ج) محلی

۷۳- به ترتیب، نام نویسنده کتاب‌های زیر در کدام گزینه درست آمده است؟

«المسالک و الممالک، قصیده نامه اهل خراسان، قابوس‌نامه»

(۲) خواجه نصیرالدین طوسی - سعدی - عنصرالمعالی

(۱) ابن خردادبه - انوری - عنصرالمعالی

(۴) ناصر خسرو - انوری - ابن عربشاه

(۳) انوری - حافظ - ابن مقفع

۷۴- نویسنده کتاب «زندگی شگفت‌آور تیمور» کیست و این کتاب، نمونه‌ای از کدام نوع تاریخ‌نویسی است؟

(۲) ابن عربشاه - تکنگاری

(۱) ابوالفضل بیهقی - تکنگاری

(۴) ابوالفضل بیهقی - تاریخ سلسله‌ای

(۳) ابن عربشاه - تاریخ سلسله‌ای

۷۵- در کدام گزینه، همه موارد در منابع تاریخی با منشآت در یک گروه قرار می‌گیرند؟

(۱) گاه‌شماری، زندگی‌نامه مشاهیر محلی، سفرنامه

(۲) تابلوهای نقاشی، نوشته‌های روی سکه‌ها، منظومه‌های حماسی

(۳) تصنیف‌ها، متون تقویمی، متون فقهی

(۴) فرمان‌ها، متون تقویمی، معاهدات سیاسی

ایران نوشتن

توشه‌ای برای موفقیت

۷۶- کدام گزینه، درباره سنجش اعتبار و نقد و بررسی گزارش‌ها و منابع تاریخی نمی‌باشد؟

(۱) مقایسه و مطابقت یک خبر و منبع تاریخی با سایر منابع نظیر اطلاعات مندرج در سایر کتاب‌های تاریخی و یا نوشته‌های دیگر مانند نسب‌نامه‌ها، سفرنامه‌ها، دیوان‌های اشعار، متون اخلاقی، فتوت‌نامه‌ها، سیاست‌نامه‌ها و امثال آن، روشی سودمند برای تعیین اعتبار اخبار و اسناد است.

(۲) دانش باستان‌شناسی با بهره‌گیری از ابزارها و روش‌های مدرن، پیشرفت زیادی کرده است و نتایج تحقیقات آن علم، معیاری مناسب برای سنجش اعتبار اخبار تاریخی محسوب می‌شود.

(۳) تبیین فاصله زمانی و مکانی بین راوی و خبر، برای معلوم شدن شاهد بودن راوی و یا نقل خبر از دیگران توسط راوی.

(۴) زمان و مکان دو رکن مهم یک رویداد تاریخی‌اند. خبر و روایتی که فاقد زمان و مکان دقیق و مشخص باشد از اصالت و اعتبار کافی برخوردار نیست.

۷۷- کدام گزینه در مورد سنجش اعتبار منابع تاریخی نادرست است؟

(۱) اطلاعات موجود در دیوان اشعار می‌تواند در تعیین اصالت و اعتبار گزارش تاریخی سودمند باشد.

(۲) مورخان مانند بیهقی و طبری عدم مطابقت یک روایت تاریخی با عقل را دلیلی بر نادرستی آن می‌دانستند.

(۳) نتایج تحقیقات باستان‌شناسی معیار مناسبی برای سنجش اعتبار اخبار تاریخی محسوب می‌شود.

(۴) عدم همخوانی یافته‌های علم فیزیک و پزشکی با داده‌های تاریخی، اعتبار آن‌ها را مورد تردید قرار می‌دهد.

۷۸- ابداع روش‌ها و ابزارهای مدرن در کدام یک از معیارهای نقد و بررسی منابع تاریخی، نقش بسزایی در تعیین اصالت آن‌ها داشته است؟

(۱) مقایسه و تطبیق با سایر منابع و شواهد علمی

(۲) مطابقت با نتایج تحقیقات باستان‌شناسی

(۳) اعتبارسنجی با تکیه بر دستاوردهای علوم تجربی

(۴) سنجش گزارش‌ها براساس زمان و مکان

۷۹- دو رکن مهم رویدادهای تاریخی در کدام گزینه نام برده شده است؟

(۱) زمان و مکان

(۲) راوی و خبر

(۳) آثار باستان‌شناسی و پژوهش مورخان

(۴) عقل و منطق

۸۰- یکی از مهم‌ترین و مؤثرترین معیارهای سنجش درستی یا نادرستی یک گزارش تاریخی کدام است و کدام مورخان عدم

مطابقت یک روایت تاریخی با آن را، دلیلی بر بطلان و نادرستی آن می‌دانستند؟

(۱) مقایسه و تطبیق با سایر منابع و شواهد - بیهقی، ابن اسفندیار

(۲) مقایسه و تطبیق با سایر منابع و شواهد - بیهقی، ابن اسفندیار

(۳) مقایسه و تطبیق با سایر منابع و شواهد - یعقوبی، مقدسی

(۴) مقایسه و تطبیق با سایر منابع و شواهد - یعقوبی، مقدسی

یک روز، یک درس: روزهای یکشنبه در سایت www.kanoon.ir به درس تاریخ اختصاص دارد. شما می‌توانید خلاصه درس‌ها، نمونه سؤالات

پیشنهادی و آزمونک مربوط به درس تاریخ اسلام را در این روز از قسمت تازه‌ها در سایت کانون و نیز صفحه مقطع خود دریافت کنید.



جغرافیا (۲)

وقت پیشنهادی: ۱۰ دقیقه

ناحیه چیست؟

معنا و مفهوم ناحیه، انسان و ناحیه

صفحه ۱ تا ۱۸

۸۱- کدام گزینه در رابطه با «ناحیه» نادرست است؟

- (۱) با بخش مجاور خود متفاوت است.
 - (۲) عوامل طبیعی و انسانی در آن وحدت و همگونی نسبی دارند.
 - (۳) بیشتر ویژگی‌های جغرافیایی درون آن با هم همخوانی ندارد و متمایز است.
 - (۴) برای شناخت بهتر و آسان‌تر مکان‌های مختلف تقسیم‌بندی می‌شوند.
- ۸۲- کدام گزینه عبارت زیر را در خصوص نواحی بارشی کشور به درستی کامل می‌کند؟**

«ناحیه بارشی ... دارای کمترین میانگین بارش روزانه است و میانگین بارش سالانه ناحیه آذربایجان و زاگرس همانند ناحیه ... است»

- (۱) خزر شرقی - خراسان شمالی
- (۲) داخلی - کردستان
- (۳) داخلی - خراسان شمالی
- (۴) خزر شرقی - کردستان

۸۳- کدام یک از عبارات زیر درست است؟

- (۱) تمامی جنگل‌های بارانی استوایی در بالای مدار رأس‌السرطان قرار گرفته‌اند.
- (۲) جغرافی‌دان‌ها حدود هر ناحیه را روی نقشه رسم می‌کنند و نواحی مختلف را روی نقشه نمایش می‌دهند.
- (۳) نقشه نواحی بارشی ایران بر اساس توزیع فصلی بارش، میانگین بارندگی سالیانه و ... به پنج قسمت تقسیم شده است.
- (۴) انتخاب معیارها و ملاک‌ها برای تعیین حدود یک ناحیه، به عوامل طبیعی و انسانی موجود در منطقه بستگی دارد.

۸۴- چه تعداد از موارد زیر جزء عوامل انسانی ناحیه‌بندی نیست؟

- (الف) زبان
 - (ب) آب و هوا
 - (ج) دین
 - (د) پوشش گیاهی
 - (ه) جمعیت
 - (و) فعالیت‌های اقتصادی
 - (ز) خاک
- (۱) سه (۲) چهار (۳) دو (۴) پنج

۸۵- به ترتیب، کدام گزینه پاسخ صحیح سؤالات زیر می‌باشد؟

- (الف) در کشور هند، کدام ادیان به ترتیب، بیشترین و کم‌ترین تعداد پیروان را دارند؟
- (ب) کدام زبان، زبان رسمی در کشور سوئیس نمی‌باشد؟
- (۱) الف) بودایی، اسلام ب) فرانسوی
 - (۲) الف) هندو، بودایی ب) انگلیسی
 - (۳) الف) بودایی، مسیحیت ب) رمانش
 - (۴) الف) هندو، سیک ب) آلمانی

۸۶- تأثیرگذارترین عامل تبدیل شهر تهران به مهم‌ترین قطب صنایع مصرفی کشور چیست؟

- (۱) پایتخت بودن
- (۲) بستر مناسب شهر تهران برای مهاجرت نیروی کار
- (۳) ایجاد نواحی صنعتی پیرامون تهران
- (۴) تمرکز سیاسی و اداری در شهر تهران

۸۷- چه چیزی موجب شده است که انسان برای کنترل محیط به چاره‌اندیشی بپردازد و انسان‌ها در چارچوب چه شرایطی در

نواحی دست به عمل می‌زنند؟

- ۱) محدودیت‌ها و موانع محیطی - شرایطی که با تغییر محیط ایجاد می‌شود.
- ۲) ویژگی‌های طبیعی - شرایطی که ناحیه به انسان ارائه می‌کند.
- ۳) محدودیت‌ها و موانع محیطی - شرایطی که ناحیه به انسان ارائه می‌کند.
- ۴) ویژگی‌های طبیعی - شرایطی که با تغییر محیط ایجاد می‌شود.

۸۸- به ترتیب، کدام گزینه مصداق مناسبی برای عبارتهای زیر می باشد؟

- واردات نفت ژاپن از ایران

- صید ماهی در فیلیپین

- ۱) نواحی با یکدیگر رابطه و کنش متقابل دارند. - نواحی به فعالیت انسان‌ها شکل می‌دهند.
- ۲) نواحی تحت تأثیر تصمیم‌گیری‌های سیاسی حکومت‌ها هستند. - نواحی به فعالیت انسان‌ها شکل می‌دهند.
- ۳) نواحی با یکدیگر رابطه و کنش متقابل دارند. - نواحی تحت تأثیر تصمیم‌گیری‌های سیاسی حکومت‌ها هستند.
- ۴) نواحی تحت تأثیر تصمیم‌گیری‌های سیاسی حکومت‌ها هستند. - انسان‌ها نواحی را به وجود می‌آورند.

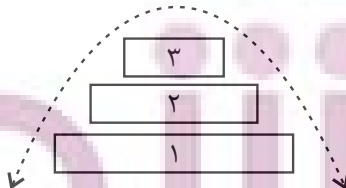
۸۹- عبارت زیر با کدام گزینه مطابقت دارد؟

«در یک ناحیه کارگاهی، هر چه به مرزهای آن نزدیک می‌شویم؛ از تعداد کارگاه‌ها و کارخانه‌ها کاسته می‌شود و در نهایت در

ناحیه مجاور، دیگر اثری از آن‌ها دیده نمی‌شود.»

- ۱) هر ناحیه کره زمین با دیگر نواحی رابطه و کنش متقابل دارد.
- ۲) انسان‌ها با پیشرفت در دانش و تولید ابزار و فناوری بر محیط‌های طبیعی غلبه کرده و این محیط‌ها را در اختیار گرفته‌اند.
- ۳) نواحی فقط تحت تأثیر روابط معمول انسان‌ها و محیط طبیعی نیستند بلکه حکومت‌ها و تصمیم‌گیری‌های سیاسی نیز به شدت بر نواحی تأثیر می‌گذارد.
- ۴) هر ناحیه جغرافیایی دارای کانون یا مرکزی است که بیشترین عوامل وحدت و همگونی در آن وجود دارد.

۹۰- با توجه به شکل زیر کدام گزینه درست است؟



- ۱) ۱- نواحی طبیعی (آب و هوا) ۲- نواحی سیاسی (فعالیت‌های اقتصادی)
- ۲) ۱- نواحی انسانی (شهرها) ۲- نواحی سیاسی (حکومت‌ها)
- ۳) ۲- نواحی انسانی (فرهنگ) ۳- نواحی سیاسی (شهرها)
- ۴) ۲- نواحی سیاسی (سازمان‌ها) ۳- نواحی انسانی (سیاست‌ها و خط‌مشی‌ها)

یک روز، یک درس: روزهای یکشنبه در سایت کانون www.kanoon.ir به درس جغرافیا اختصاص دارد. شما می‌توانید خلاصه درس‌ها، نمونه سؤالات

پیشنهادی و آزمونک مربوط به درس جغرافیا را در این روز از قسمت تازه‌ها در سایت کانون و نیز صفحه مقطع خود دریافت کنید.

توسعه ای برای موفقیت

وقت پیشنهادی: ۱۵ دقیقه

فلسفه

چیستی فلسفه

ریشه و شاخه‌های فلسفه

تا پایان «شاخه‌های فلسفه»

صفحه ۱ تا ۱۵

۹۱- کدام یک از استدلال‌های زیر، بر اساس کتاب درسی، برای نیل به این نتیجه که «انسان بدون

قدرت اندیشه‌ورزی، موجودی ناتوان است»، کامل تر و درست تر است؟

(۱) با استفاده از قدرت تفکر می‌توان جوابی برای سوال‌های خود یافت و بدین ترتیب، امور روزانه‌ی زندگی را سامان داد.

(۲) با استفاده از قدرت تفکر، می‌توان از معلومات به مجهولات رسید و بدین ترتیب، امور روزانه‌ی زندگی را سامان داد.

(۳) انسان بدون تفکر، نمی‌تواند پاسخی برای پرسش‌های خود بیابد.

(۴) همین که از خود می‌پرسیم «امروز به کجا باید بروم به کتابخانه یا به ورزشگاه و یا؟؟» بدین معناست که هنوز نمی‌دانیم کدام را باید

انتخاب کنیم و تفکر به ما کمک می‌کند برای این قبیل پرسش‌ها، پاسخی بیابیم.

۹۲- در کدام گزینه سیر تکامل مفهوم واژه فلسفه و سیر تنزل مفهوم واژه سفسطه در طول زمان، به درستی ذکر شده است؟

(۱) سفسطه: دانشمندی ← مغالطه‌کاری / فلسفه: دوست‌داری دانش ← دانا

(۲) فلسفه: دانش ← مغالطه‌کاری / سفسطه: دوست‌داری دانش ← دانش

(۳) سفسطه: دانش ← مغالطه‌کاری / فلسفه: دوست‌داری دانش ← دانش

(۴) سفسطه: دانا ← مغالطه‌کار / فلسفه: دوست‌داری دانش ← دانا

۹۳- انسان پس از چه مرحله‌ای از فرایند اندیشه به تفکر در اندوخته‌ها می‌پردازد؟

(۱) ایجاد پرسش از یک مواجهه

(۲) متحیر شدن از یک سؤال

(۳) اتمام جست‌وجوی داده‌های حقیقی

(۴) جمع‌بندی پاسخ‌های مربوط به پرسش‌ها

۹۴- کدام گزینه، فقط ویژگی تفکر فلسفی است؟

(۱) تأمل در باورهای بنیادین زندگی

(۲) استفاده از روش عقلی و استدلالی

(۳) تلاش برای رهایی از عادت‌های غیرمنطقی

(۴) تلاش برای پاسخ قانون‌مند به سؤالات مطرح شده

۹۵- مسائل فلسفی به چه چیزهایی مربوط هستند و در این خصوص از چه ابزارهایی نمی‌توان استفاده کرد؟

(۱) دلیل دگرگونی‌های طبیعت - ابزارهایی که به کمک عقل می‌آیند.

(۲) اصل و اساس جهان و انسان - میکروسکوپ و تلسکوپ

(۳) دلیل دگرگونی‌های طبیعت - میکروسکوپ و تلسکوپ

(۴) اصل و اساس جهان و انسان - ابزارهایی که به کمک عقل می‌آیند.

۹۶- به ترتیب در نگاه کلی، هریک از موارد زیر در کدام یک از بخش‌های اصلی فلسفه مورد بررسی قرار می‌گیرند؟

«بررسی وجود قانون علیت - ممکن بودن درک وجود داشتن جهان - بررسی راه‌های شناخت قانون علیت - بررسی وجود جهان موازی»

(۱) معرفت‌شناسی - هستی‌شناسی - معرفت‌شناسی - هستی‌شناسی

(۲) هستی‌شناسی - معرفت‌شناسی - معرفت‌شناسی - هستی‌شناسی

(۳) هستی‌شناسی - معرفت‌شناسی - هستی‌شناسی - معرفت‌شناسی

(۴) معرفت‌شناسی - هستی‌شناسی - هستی‌شناسی - معرفت‌شناسی

۹۷- اگر اول توانایی انسان در امری بررسی شود و بعد راه شناخت آن را مورد واکاوی قرار دهند، با کدام مورد تناسب دارد؟

(۱) ضرورت وجود (۲) معرفت به وجود فرع بر امکان شناخت آن است.

(۳) قانون علیت (۴) امکان شناخت فرع بر معرفت وجود است.

۹۸- فلسفه مضاف چیست و اساس و شالوده نظریات در علوم، چه می‌باشد؟

(۱) ریشه فلسفه می‌باشد که قوانین بنیادی را به علوم منتقل می‌کند. - فلسفه

(۲) بخشی از مباحث فلسفی که مبانی هر علم را بررسی می‌کند. - فلسفه

(۳) شاخه فلسفه می‌باشد که شامل وجودشناسی و معرفت‌شناسی است. - فلسفه مضاف

(۴) آن بخش از مباحث فلسفی که مسائل بنیادی هر علم را بررسی می‌کنند. - فلسفه‌های مضاف

۹۹- در خصوص فلسفه‌های مضاف، کدام مورد صحیح است؟

(۱) رشته‌های مختلف دانش، رابط بخش اصلی فلسفه با فلسفه‌های مضاف هستند.

(۲) فلسفه‌های مضاف، قواعد عام بخش ریشه‌ای فلسفه را به حیطه‌های علوم مختلف منتقل می‌کنند.

(۳) هستی‌شناسی، پل ارتباطی میان فلسفه‌های مضاف و دانش‌های بشری است.

(۴) با تأمل فیلسوفانه در شاخه‌هایی از فلسفه مانند فلسفه تاریخ و فلسفه حقوق، دانش‌هایی چون تاریخ و حقوق شکل می‌گیرد.

۱۰۰- در کدام بیت، مسئله‌ای غیر فلسفی مطرح شده است؟

(۱) ما به فلک بوده‌ایم یار ملک بوده‌ایم / باز همان جا رویم جمله که آن شهر ماست

(۲) مرغ باغ ملکوتیم نیم از عالم خاک / چند روزی قفسی ساخته‌اند از بدنم

(۳) حاجتگه جمله جهان اوست / محراب زمین و آسمان اوست

(۴) خدا را بر آن بنده بخشایش است / که خلق از وجودش در آسایش است

یک روز، یک درس: روزهای چهارشنبه در سایت کانون www.kanoon.ir به درس فلسفه اختصاص دارد. شما می‌توانید خلاصه درس‌ها، نمونه سؤالات

پیشنهادی و آزمونک مربوط به درس فلسفه را در این روز از قسمت تازه‌ها در سایت کانون و نیز صفحه مقطع خود دریافت کنید.

توسعه ای برای موفقیت

فارسی (۲)

۱۰ دقیقه

ادبیات تعلیمی

(ستایش: لطف خدا)

درس ۱ و ۲

صفحه ۱۰ تا ۲۵

۱۰۱- معادل معنایی کدام یک از گزینه‌های زیر، نادرست است؟

(۱) فرمان داد: مثال داد

(۲) افکار: خسته

(۳) فراغ: دوری

(۴) سور: جشن

۱۰۲- معنای کدام واژه مشخص شده در بیت نادرست بیان شده است؟

(۱) از علی آموز اخلاص عمل

شیر حق را دان منزه از دغل (تباهی و ناراستی)

(۲) صورت بی صورت بی حد غیب

ز آینه دل تافت بر موسی ز جیب (گریبان)(۳) از آن بی حمیت ببايد گریخت

که نامردی اش آب مردان بریخت (مردانگی)

(۴) شد از گوشه چشم زخمی نژند

تب آمد شد آن نازنین دردمند (اندوهگین)

۱۰۳- واژه‌های درست املايي ابیات و عبارات زیر عبارت‌اند از:

(الف) برو شیر درتده باش ای دغل

میانداز خود را چوروباه شل

(ب) اگر لطفش قرین حال گردد

همه ادب‌ها اقبال گردد

(ج) مردان بار را به نیروی همت و بازوی حمیت کشند نه به قوت تن. از غذای آمده پس از نماز امیر کشتی‌ها بخاست و ناوی ده بیاوردند. آقاجی

خادم گفت در هر کیسه هزار مثقال زر پاره است.

(۱) دغل، قرین

(۲) میانداز، مثقال

(۳) غذا، بخاست

(۴) آقاجی، همت

ایران توانسته
توانسته ای برای موفقیت

۱۰۴- در همهٔ گزینه‌ها «مجاز» به کار رفته‌است به جز ...

- (۱) روز دوشنبه امیر با ندیمان و مطربان به کران آب فرود آمدند و خیمه‌ها زده بودند.
- (۲) ناگاه، آن دیدند که چون آب نیرو کرده بود و کشتی پر شده، نشستن و دریدن گرفت.
- (۳) زری که سلطان به غزو از بت‌خانه‌ها به شمشیر بیاورده باشد و بتان شکسته و پاره کرده است.
- (۴) گفت: حال خلیفه دیگر است که او خداوند ولایت است و خواجه با امیر محمود به غزوها بوده است.

۱۰۵- در متن کدام گزینه، آرایهٔ داخل کمانکِ روبه‌روی آن، وجود ندارد؟

- (۱) امیر از آن جهان آمده به خیمه فرود آمد و جامه بگردانید و تر و تباه شده بود. (کنایه)
- (۲) پرده‌های کتان آویخته و تر کرده و بسیار شاخه‌ها نهاده و تاس‌های بزرگ پر یخ بر زبر آن. (جناس)
- (۳) و دیگر روز امیر نامه‌ها فرمود به غزنین و جملهٔ مملکت بر این حادثهٔ بزرگ و صعب که افتاد. (مجاز)
- (۴) این صلت فخر است پذیرفتم و باز دادم که مرا به کار نیست. (تشبیه)

۱۰۶- عبارتهای مشخص‌شده در کدام یک از ابیات زیر، «فعل مجهول» نیست؟

- | | |
|-----------------------------------------------|-------------------------------------------------|
| (۱) اگر <u>کشته‌گردد</u> کسی زین سپاه | بهشت بلندش <u>بود</u> جایگاه |
| (۲) شهید عشق که <u>آلوده شد</u> به خون کفنش | در آفتاب قیامت هنوز <u>تر</u> باشد |
| (۳) صدهزار انگشت‌ها اندر <u>اشارت دیده شد</u> | سوی او از نور جان‌ها کای فلان <u>این</u> است او |
| (۴) دست زاهد هم <u>بریده شد</u> غلط | پاش را می‌خواست هم <u>کردن</u> سقط |

۱۰۷- در کدام یک از گزینه‌های زیر، هر دو پیوند ربط (وابسته‌ساز) و (هم‌پایه‌ساز) وجود دارد؟

- (۱) علی و محمد به کلاس رفتند تا درس بخوانند.
- (۲) اطلاعات درسی را بررسی و دانش‌آموزان را تشویق کردم.
- (۳) چون شیر، قوی باش و به سوی اهداف برو.
- (۴) اگر درس بخوانی؛ موفق می‌شوی، اما باید پشتکار داشته باشی.

ایران توانمند
توسعه‌ای برای موفقیت

۱۰۸- مفهوم نهایی کدام بیت در برابر آن نادرست است؟

- (۱) بر قدم او قدمی می کشید / وز قلم او رقمی می کشید (تقلید همه جانبه)
- (۲) عاقبت از خامی خود سوخته / رهروی کبک نیاموخته (زیان دیده از تقلید نابه جا)
- (۳) دید یکی عرصه به دامن کوه / عرضه مخزن پنهان کوه (بیان زیبایی دامن کوه)
- (۴) زاغی از آن جا که فراغی گزید / رخت خود از باغ به راغی کشید (نفی آسایش طلبی و آسودگی)

۱۰۹- مفهوم عبارت «آنچه دارم از اندک مایه حطام دنیا حلال است و کفایت است و به هیچ زیادت حاجتمند نیستم.» با همه بیت‌ها

قربت معنایی دارد، به جز ... :

- (۱) قناعت سرفراز ای مرد هوش / سر پرطمع برنیاید ز دوش
- (۲) مرو به خانه ارباب بی مروت دهر / که گنج عافیت در سرایش خویشان است
- (۳) هر آنکه گنج قناعت به گنج دنیا داد / فروخت یوسف مصری به کمترین ثمنی
- (۴) به پیغامی قناعت کرد از آن ماه / به بادی دل نهاد از خاک آن راه

۱۱۰- دو عبارت کدام گزینه باهم هم‌مفهوم نیستند؟

- (۱) حساب خود اینجا کن، آسوده دل شو / میفکن به روز جزا کار خود را
- (۲) بترس از گناهان خویش این نفس / که روز قیامت نترسی ز کس
- (۳) کرد فرامش ره و رفتار خویش / مانند گرامت زده از کار خویش
- (۴) عمر نبود آن چه غافل از تو نشستم / باقی عمر ایستاده‌ام به گرامت
- (۳) فخری که از وسیلت دون‌همتی رسد / گر نام و ننگ داری، از آن فخر، عار دار
- (۴) خاقانی اگر در کف همت گروی / هان تا ز پی جاه، چو دونان ندوی
- (۴) خدا را بر آن بنده بخشایش است / که خلق از وجودش در آسایش است
- طریقت به جز خدمت خلق نیست / به تسبیح و سجاده و دلخ نیست

دین و زندگی (۲)

هدایت الهی، تداوم

هدایت

درس ۱ و ۲

صفحه ۱ تا ۲۴

۱۱۱- کدام عامل، سبب شد تعالیم الهی به فرهنگ جوامع وارد شود و جزئی از سبک زندگی مردم گردد؟

(۱) ایمان استوار و تلاش بی‌مانند پیامبران برای تبلیغ دین در طول زمان

(۲) بیان اصول ثابت دین الهی درخور فهم و اندیشه انسان‌ها در هر دوران

(۳) رشد تدریجی فرهنگ و دانش مردم در زمان‌های مختلف به‌وسیله پیامبران

(۴) استمرار و پیوستگی در دعوت و تحمل سختی‌ها و دشواری‌ها توسط پیامبر خاتم (ص)

۱۱۲- سخن پیامبر اکرم (ص): «إِنَّا مَعَاشِرَ الْأَنْبِيَاءِ أُمِرْنَا أَنْ نُكَلِّمَ النَّاسَ عَلَى قَدْرِ عَقُولِهِمْ» به کدام مورد، اشاره دارد؟

(۱) وجود ادیان مختلف برای استمرار و پیوستگی در دعوت

(۲) وجود ادیان مختلف به‌دلیل رشد تدریجی سطح فکر مردم

(۳) فرستادن پیامبران متعدد برای استمرار و پیوستگی در دعوت

(۴) فرستادن پیامبران متعدد به‌دلیل رشد تدریجی سطح فکر مردم

۱۱۳- پیام مستنبط از آیه شریفه «... قَالَ رَبَّنَا الَّذِي اَعْطَى كُلَّ شَيْءٍ خَلْقَهُ ثَمَّ هَدَى» در کدام گزینه به‌درستی بیان شده است؟

(۱) انسان سرمایه‌های ویژه خود را دارد اما شیوه هدایت مخصوصی ندارد.

(۲) آگاهی کامل از خلقت انسان، کمک‌کننده او در مسیر پر پیچ و تاب زندگی است.

(۳) خداوند همه مخلوقات را هدایت می‌کند و شیوه هدایت مخلوقات یکسان است.

(۴) هدایت یک اصل عام و همگانی در نظام خلقت است.

۱۱۴- با توجه به آیه سوره شوری، سفارش و خواسته خداوند از همه پیامبران چه بوده است؟

(۱) راه مخالفت با دین الهی را نپیمایند مگر پس از اینکه به حقیقت آن آگاه شوند.

(۲) تنها دین مورد قبول نزد آنان، اسلام به معنای تسلیم بودن در برابر خداوند باشد.

(۳) دین را متناسب با درک مردم زمانه بیان کنند و حسادت نورزند.

(۴) دین را به پا دارند و در آن تفرقه نکنند.

پیامبران برونشده
توسعه‌ای برای موفقیت

۱۱۵- هر یک از موارد «کسب فضایل اخلاقی مانند راستگویی» و «علاقه به فضایل اخلاقی مانند خیرخواهی» به ترتیب، مربوط به

کدام موضوعات هستند؟

(۱) خواسته خدا در برنامه دین در عرصه عمل - ویژگی‌های فطری مشترک

(۲) خواسته خدا در برنامه دین در عرصه ایمان - ویژگی‌های فطری مشترک

(۳) ویژگی‌های فطری مشترک - خواسته خدا در برنامه دین در عرصه ایمان

(۴) ویژگی‌های فطری مشترک - خواسته خدا در برنامه دین در عرصه عمل

۱۱۶- با توجه به آیات الهی، دست یافتن به زندگی حقیقی ثمره و نتیجه چیست و چه عاملی سبب شده است که همواره شاهد ارائه

برنامه‌های گوناگون از جانب مکاتب بشری باشیم؟

(۱) «استجیبا لله و للرسول» - احتیاج انسان به برنامه‌ای که سعادت او را تضمین کند.

(۲) «استجیبا لله و للرسول» - احتیاج انسان به برنامه‌ای که پاسخ‌گوی نیازهای طبیعی و غریزی‌اش باشد.

(۳) «و عملوا الصالحات و تواصوا بالحق و تواصوا بالصبر» - احتیاج انسان به برنامه‌ای که سعادت او را تضمین کند.

(۴) «و عملوا الصالحات و تواصوا بالحق و تواصوا بالصبر» - احتیاج انسان به برنامه‌ای که پاسخ‌گوی نیازهای طبیعی و غریزی‌اش باشد.

۱۱۷- به ترتیب، عامل دست یافتن به ایمان قلبی چه می‌باشد و عدم توسعه کتابت و ابتدایی بودن سطح فرهنگ مردم چه تأثیری بر

تعلیمات پیامبران می‌گذاشت؟

(۱) خداشناسی و هستی‌شناسی - تعلیمات انبیاء به تدریج فراموش می‌شد یا به گونه‌ای تغییر می‌یافت که در فروع دین تفاوت

ایجاد می‌شد.

(۲) خودشناسی و هستی‌شناسی - تعلیمات انبیاء به تدریج فراموش می‌شد یا به گونه‌ای تغییر می‌یافت که در فروع دین تفاوت

ایجاد می‌شد.

(۳) خداشناسی و هستی‌شناسی - تعلیمات انبیاء به تدریج فراموش می‌شد یا به گونه‌ای تغییر می‌یافت که با اصل آن

متفاوت بود.

(۴) خودشناسی و هستی‌شناسی - تعلیمات انبیاء به تدریج فراموش می‌شد یا به گونه‌ای تغییر می‌یافت که با اصل آن

متفاوت بود.

۱۱۸- کدامیک از نیازهای انسان خود را در سؤال «چگونه زیستن» نشان می‌دهد و «جامعیت و قابل اعتماد بودن» از ویژگی‌های

چیست؟

(۱) کشف راه درست زندگی - سؤال‌های مطرح شده در قالب نیازهای برتر

(۲) شناخت هدف زندگی - سؤال‌های مطرح شده در قالب نیازهای برتر

(۳) کشف راه درست زندگی - پاسخ‌های داده شده به نیازهای بنیادین

(۴) شناخت هدف زندگی - پاسخ‌های داده شده به نیازهای بنیادین

۱۱۹- پاسخ به سؤال‌های اساسی انسان چگونه مقدور می‌باشد و با توجه به سخن حکیمانه امام کاظم (ع) چه کسی رتبه‌اش در دنیا و

آخرت بالاتر است؟

(۱) در کنار هم قرار گرفتن عقل و وحی - ایمانش بیشتر باشد.

(۲) در کنار هم قرار گرفتن عقل و وحی - عقلش کامل‌تر باشد.

(۳) با معرفت و آگاهی کامل از سرمایه‌های الهی - ایمانش بیشتر باشد.

(۴) با معرفت و آگاهی کامل از سرمایه‌های الهی - عقلش کامل‌تر باشد.

۱۲۰- با توجه به فرمایش حضرت موسی بن جعفر (ع)، معرفت برتر چه ثمره‌ای خواهد داشت و توانایی حرکت به سوی هدف درست،

نتیجه وجود کدام ارزش در انسان است؟

(۱) کشف راه درست زندگی - اختیار و انتخاب

(۲) پذیرش بهتر پیام الهی - فطرت پاک الهی

(۳) کشف راه درست زندگی - فطرت پاک الهی

(۴) پذیرش بهتر پیام الهی - اختیار و انتخاب

ایران توانسته
توانسته ای برای موفقیت

زبان انگلیسی (۲)

۱۰ دقیقه

زبان انگلیسی (۲)

Understanding
People •

(Get Ready,...,
Reading,
Vocabulary
Development)

درس ۱

صفحة ۱۵ تا ۲۷

PART A: Vocabulary

Directions: Choose the word or phrase (1), (2), (3), or (4) that best completes each sentence. Then mark the answer on your answer sheet.

121- Once cultures appeared, they never stopped changing and ..., and these unstoppable changes are what we call “history”.

- 1) choosing 2) developing 3) communicating 4) finding

122- The heart is in a hurry to pump oxygenated blood, while the ... is in a hurry to comprehend the condition.

- 1) mind 2) point 3) activity 4) information

123- In December, I was allowed to go outside for the first time after ... two months inside hospitals.

- 1) largely 2) nearly 3) luckily 4) really

124- One of my best friends at college whose name is Jack has published more than 20 books ... novels, poetry, and short stories.

- 1) since 2) including 3) together 4) despite

125- A diary is a book in which you can write down the ... you have had during a day, a month, or a year.

- 1) experiences 2) means 3) continents 4) hosts

126- It is ... for everyone to be able to read the thoughts of another person. Therefore, you cannot be absolutely sure what someone is thinking.

- 1) physical 2) native 3) honest 4) impossible

PART B: Reading Comprehension

Directions: Read the following passage and answer the questions by choosing the best choice (1), (2), (3), or (4). Then mark the correct choice on your answer sheet.

Learning a second language can be challenging, but there are some effective ways to make the process easier. One of the best ways to learn a new language is through immersion. This means surrounding yourself with native speakers or living in a country where the language is spoken.

Immersion allows you to practice your language skills in real-life situations, which can improve your fluency and comprehension.

Another important aspect of language learning is regular practice. Setting aside dedicated time each day to study and practice the language will yield better results than sporadic efforts. You can practice by listening to podcasts, watching movies or TV shows in the target language, reading books or articles, and engaging in conversations with native speakers.

Using a variety of resources can also enhance language learning. Textbooks, online courses, language apps, and language exchange programs can provide a well-rounded learning experience. Each resource offers different benefits and can cater to different learning styles.

127- What is the main idea of the passage?

- 1) Learning a second language is easy.
- 2) Language learning can only be done through textbooks.
- 3) Language exchange programs are the best way to learn a second language.
- 4) Immersion and regular practice are effective ways to learn a second language.

128- Which of the following is an example of immersion in language learning?

- 1) Improving your English writing skill by writing your memories in English
- 2) Living in England to learn English as a second language
- 3) Reading lots of English books to get better at understanding English texts
- 4) Speaking with Persian native speakers to improve your English

129- We can understand from the passage that the word “sporadic” means

- 1) happening irregularly with no specific pattern
- 2) behaving in the same way over time
- 3) being knowledgeable, skilled and experienced
- 4) having the ability to understand something fully

130- Which of the following is NOT a resource that can help you with language learning, according to the passage?

- | | |
|-----------------------|-------------------|
| 1) TV shows | 2) Online courses |
| 3) Letters and emails | 4) Podcasts |